
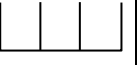


الدرجة: الأولى السنة: الأولى	تقديم مكتسبات التلاميذ في الرياضيات الملف 1 دد (الفضاء)	المدرسة الابتدائية الإصلاح
العدد المسند:	الرقم:	الاسم و اللقب:

اِخْتَفَلَتْ كَرِيمَةٌ بِعِيدِ مِيلَادِهَا فَجَاءَهَا أَصْدِقَاؤُهَا وَحَمَلُوا مَعَهُمُ الْهَدَايَا.



التعليمة 1 دد



مع 1

قَدِمَ الْأَرْنَبُ وَ السُّلْحَفَةُ وَ الْقِطَّةُ.

* قَفَزَ الْأَرْنَبُ فَوْقَ الطَّاوَلَةِ.

* وَقَفَتِ السُّلْحَفَةُ تَحْتَ الطَّاوَلَةِ.

* أَمَّا الْقِطَّةُ فَوَقَفَتْ عَلَى يَسَارِ كَرِيمَةٍ.

أَرْسُمُ كُلَّ حَيَوَانٍ فِي الْمَكَانِ الْمُنَاسِبِ لَهُ.

التعليمة 2 دد




مع 4 أ

وَضَعَ الْأَرْنَبُ هَدِيَّتَهُ فَوْقَ الطَّاوَلَةِ. أَمَّا السُّلْحَفَةُ فَوَضَعَتْهَا تَحْتَ الطَّاوَلَةِ.

* أَلَوْنُ بِالْأَحْمَرِ هَدِيَّةَ الْأَرْنَبِ.

* أَضْعُ هَدِيَّةَ السُّلْحَفَةِ دَاخِلَ خَطِّ مُغْلَقٍ.



مع 4 ب


التعليمة 3 دد



مع 4 أ

دَخَلَتْ الْأُمُّ وَقَدْ حَمَلَتْ مَعَهَا كَعْكَةً شَهِيَّةً وَوَضَعَتْهَا فَوْقَ الطَّاوَلَةِ بِجَانِبِ الْهَدَايَا.

* أَبْحَثْ عَنِ الْكَعْكَةِ وَأَلَوْنُهَا.



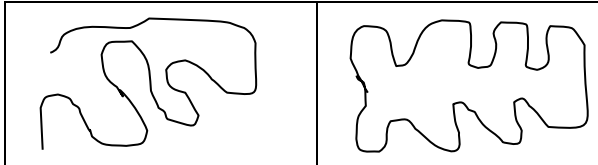
التعليمة 4 دد



مع 4 ب

بَعْدَ الْانْتِهَاءِ مِنْ عِيدِ الْمِيلَادِ خَرَجَتْ كَرِيمَةٌ مَعَ أَصْدِقَائِهَا إِلَى الْحَدِيقَةِ لِلْعِب. فَرَسَمُوا خَطًّا مُغْلَقًا.

* أَضْعُ عَلَامَةً (X) تَحْتَ الْخَطِّ الْمُغْلَقِ.





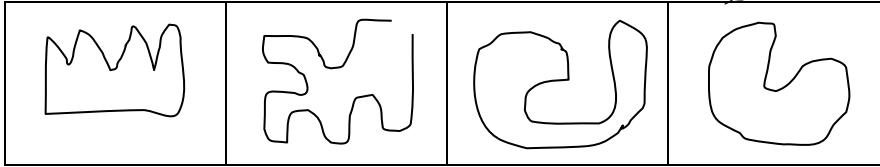
أَغْمَضَتْ كَرِيمَةً عَيْنَيْهَا وَبَقِيَتْ دَاخِلَ الْخَطِّ الْمَغْلَقِ أَمَّا أَصْدِقَاؤُهَا فَقَدْ اخْتَبَوْا.
 - اخْتَبَأَ الْأَرْزَبُ تَحْتَ الزَّهْرَةِ.
 - اخْتَبَأَتِ السُّلْحَفَةُ بِجَانِبِ الْمَنْزِلِ.
 - أَمَّا الْقِطُّ فَقَدْ اخْتَبَأَ فَوْقَ الشَّجَرَةِ.
 * أَضَعُ عَلَامَةً (X) لِأَحَدِ مَكَانِ الْأَرْزَبِ.

لعد4

التعليمية 5 حد

بَعْدَ الْإِنْتِهَاءِ مِنَ اللَّعِبِ قَطَفَ الْأَطْفَالُ مَجْمُوعَةً مِنَ الزُّهُورِ ثُمَّ جَلَسُوا عَلَى الْعُشْبِ وَكَوَّنُوا
 بِهَا خَطًّا مَفْتُوحًا. أ.
 * أَبْحَثْ عَنِ الْخَطِّ الْمَفْتُوحِ وَأَلَوْنُهُ بِالْأَحْمَرِ.


لعد4



التعليمية 6 حد

أَضَعُ نَفْسِي مَكَانَ الْأَصْدِقَاءِ ثُمَّ أَرْسُمُ خَطًّا مَفْتُوحًا عَلَى يَسَارِي وَخَطًّا مُغْلَقًا عَلَى يَمِينِي.

لعد5



جدول إسناد الأعداد

التميز	معايير الحد الأدنى			
	مع1	مع4أ	مع4ب	
	0	0	0	انعدام التملك (---)
2.5	1.5	2	1.5	دون التملك الأدنى (+--)
2.5	3	4	3	التملك الأدنى (++-)
5	4.5	6	4.5	التملك الأقصى (++++)

تقييم مكتسبات التلاميذ في الفترة الأولى الاسم.....

المعلمة: غادة بن شقية النشاط: رياضيات اللقب.....

السند عدد 1

خَرَجَ رَيْبَعٌ صُحْبَةَ أَصْدِقَائِهِ إِلَى الْحَدِيقَةِ لِللَّعِبِ

1- أَكْمِلْ بِ: يَمِينٍ / يَسَارٍ

سَلَمَى



رِحَابُ

يَقِفُ رَيْبَعٌ عَلَى..... سَلَمَى

يَقِفُ رَيْبَعٌ عَلَى..... رِحَابُ

2- أَلَوْنُ الإِجَابَةِ الصَّحِيحَةِ

يَمِينٍ رَيْبَعٍ

يَسَارٍ رَيْبَعٍ

تَقِفُ سَلَمَى عَلَى

أَمَامَ الشَّجَرَةِ

وَرَاءَ الشَّجَرَةِ

تَقِفُ رِحَابُ



السند عدد 2

شاهد الأطفال مجموعة

من الحيوانات داخل الحديقة

3- أشطب الخطأ

القط (داخل / خارج) البركة

البطة (داخل / خارج) البركة

4- أحيط مجموعة الحيوانات الأليفة في خط مغلق



السند عدد 3 : في المساء رجع الأطفال إلى المنزل

5- أربط بين الحديقة و المنزل بخط مستقيم

