

المستوى : الثانية ابتدائي

نوفمبر ، 2020

تقويم رقم 2، للفصل الأول في مادة الرياضيات

التمرين الأول : أكتب العمليات التالية و أنجزها :

$$68 - 35 = \dots$$

$$46 + 14 = \dots$$

$$25 + 23 = \dots$$

التمرين الثاني : أقرن بين الأعداد بوضع الرمز (= ، > ، <)

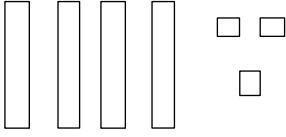
$$20 + 20 \dots 5 + 30 + 40$$

$$53 \dots 35$$

$$10 + 10 + 10 \dots 10 + 20$$


$$61 \dots 16$$

التمرين الثالث : أملأ الجدول التالي بما يناسب :

العدد	تمثيله	تفكيكه
43		$\dots + \dots + \dots + \dots + \dots$ $\dots + \dots$
27		$\dots + \dots + \dots$ $\dots + \dots$
.....		$10 + 10 + 10 + 10 + 10 + 2$ $50 + 2$

الوضعية الإدماجية :

بمناسبة عيد ميلاد ابنتها ، اشترت الأم عددا من الحلويات .



- قامت الأم بوضع كل 10 حبات حلوى في كيس لتقدمها لزميلات ابنتها :

سندس ، مروة ، عبير و إكرام .

- كم كيسا حصلت عليه الأم ؟

حصلت الأم علىأكياس .

- كم حبة حلوى بقيت ؟

بقيت.....حبات حلوى .

- ما هو العدد الكلي للحلوى التي اشترتها الأم ؟

العدد الكلي للحلوى التي اشترتها الأم هوحبة حلوى .

- أعطت الأم لكل بنت كيس حلوى .

كم حبة حلوى بقيت ؟

.....
بقيت.....حبة حلوى .

تصحيح تقويم الرياضيات

نوفمبر 2017

التمرين الأول : أكتب العمليات التالية و أنجزها : (3ن)

$$68 - 35 = ..33$$

$$46 + 14 = ..60$$

$$25 + 23 = ..48.$$

$$\begin{array}{r} 2 \quad 5 \\ + 2 \quad 3 \\ \hline 4 \quad 8 \end{array}$$

التمرين الثاني : أقرن بين الأعداد بوضع الرمز (< ، > ، =) (2ن)

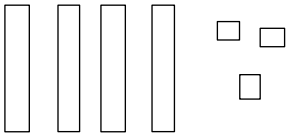

$$20 + 20 \dots < \dots 5 + 30 + 40$$

$$53 \dots > \dots 35$$

$$10 + 10 + 10 \dots = \dots 10 + 20$$


$$61 \dots > \dots 16$$

التمرين الثالث : أملأ الجدول التالي بما يناسب : (2.5ن)

العدد	تمثيله	تفكيكه
43		$10 + 10 + 10 + 10 + 3$ $40 + 3$
27		$10 + 10 + 7$ $20 + 7$
...52...		$10 + 10 + 10 + 10 + 10 + 2$ $50 + 2$

الوضعية الإدماجية: (2.5)

بمناسبة عيد ميلاد ابنتها ، اشترت الأم عددا من الحلويات .



- قامت الأم بوضع كل 10 حبات حلوى في كيس لتقدمها لزميلات ابنتها :

سندس ، مروة ، عبير و إكرام .

- كم كيسا حصلت عليه الأم ؟

تحصلت الأم على ...6.. أكياس .

- كم حبة حلوى بقيت ؟

بقيت ..9.. حبات حلوى .

- ماهو العدد الكلي للحلوى التي اشترتها الأم ؟

العدد الكلي للحلوى التي اشترتها الأم هو ..69... حبة حلوى .

- أعطت الأم لكل بنت كيس حلوى .

كم حبة حلوى بقيت ؟

$$\begin{array}{r} 6 \quad 9 \\ - 4 \quad 0 \\ \hline = 2 \quad 9 \end{array}$$

$$....69 - 40 = 29...$$

بقيت ...29... حبة حلوى .

