

2,5 ن

### التمرين الأول

أكتبُ (ص) أَمَامَ العِبَارَةِ الصَّحِيحَةِ و (خ) أَمَامَ العِبَارَةِ الخَاطِئَةِ

الزيت يأخذ شكل الإناء

يتحول الماء إلى جليد بفعل الحرارة

الشكولاتة لا تحتفظ باسمها و طبيعتها عندما تذوب

عندما أنمو تنقص قامتي

عندما يرتفع صدري يدخل الهواء

3ن

### التمرين الثاني:

أملأ الفراغ بالكلمات التالية

الحرارة - السائلة - تطفو - خفي - الثقيلة - فقاعات

يتحوّل الجسم من الحالة الصّلة إلى الحالة ..... تحت تأثير .....

الأجسام الخفيفة ..... فوق الماء و ..... تغوص .

الأواني التي تبدو فارغة تحتوي على هواء لكنه .....

يمكن أن أراه على شكل .....



معلمي أونلاين

الصفحة 2/1

2,5 ن

### التمرين الثالث:

أ - أربط

تزداد قامتي

عندما يرتفع صدري

يدخل الهواء

أمارس الرياضة

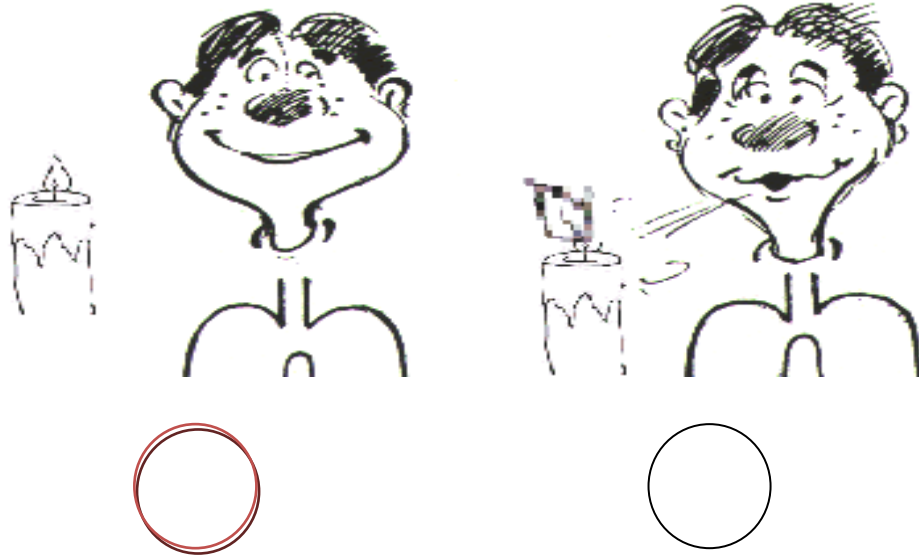
يخرج الهواء

عندما أنمو

لأحافظ على جسمي

عندما ينخفض صدري

ب - لَوْنُ الْفُرْصِ فِي وَضْعِيَّةِ دُخُولِ الْهَوَاءِ



4ن

### التمرين الرابع:

ضَعْ عَلامَةَ (x) فِي الْخَانَةِ الْمُنَاسِبَةِ

الأجسام	تأخذ شكل الإناء	لا تأخذ شكل الإناء
عَنْبُ		
غَاسُول		
حَلِيب		
زَيْتُون		

### التمرين الأول 2,5 ن

أكتبُ (ص) أَمَامَ العِبَارَةِ الصَّحِيحَةِ و (خ) أَمَامَ العِبَارَةِ الخَاطِئَةِ

الزيت يأخذ شكل الإناء (ص)

يتحول الماء إلى جليد بفعل الحرارة (خ)

الشكولاتة لا تحتفظ باسمها و طبيعتها عندما تذوب (خ)

عندما أنمو تنقص قامتي (خ)

عندما يرتفع صدري يدخل الهواء (ص)

### التمرين الثاني: 3 ن

أملأ الفراغ بالكلمات التالية

الحرارة - السائلة - تطفو - خفي - الثقيلة - فقاعات

يتحوّل الجسم من الحالة الصّلة إلى الحالة السائلة تحت تأثير الحرارة

الأجسام الخفيفة تطفو فوق الماء و الثقيلة تغوص .

الأواني التي تبدو فارغة تحتوي على هواء لكنه خفي

يمكن أن أراه على شكل فقاعات

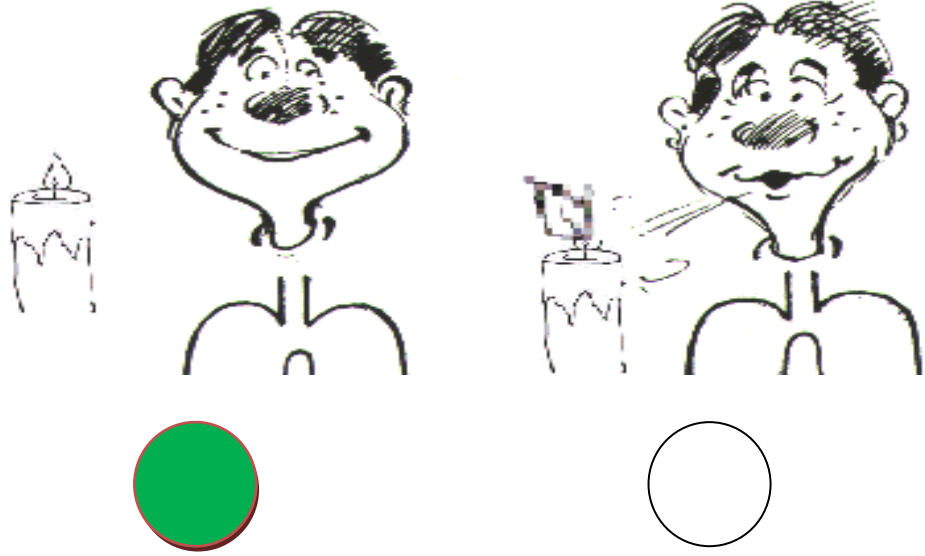
2,5 ن

### التمرين الثالث:

أ - أربط

عندما يرتفع صدري ← تزداد قامتي  
أمارس الرياضة ← يدخل الهواء  
عندما أنمو ← يخرج الهواء  
عندما ينخفض صدري ← لأحافظ على جسمي

ب - لوّن الفرص في وضعية دخول الهواء



4ن

### التمرين الرابع:

ضع علامة (x) في الخانة المناسبة

الأجسام	تأخذ شكل الإناء	لا تأخذ شكل الإناء
عَنْبُ		x
غَاسُول	x	
حَلِيب	x	
زَيْتُون		x

معلمي أونلاين

## امتحان الثلاثي الأول في الإيقاظ العلمي

**التمرين الأول :** أحيطُ الجسمَ الذي يتحوّل إلى سائلٍ بفعلِ الحرارة :

- بَيْضَةٌ - سُكْلَاطَةٌ - زُبْدَةٌ - ثَلْجٌ - بَطَاطَا - مُتَلَجَّاتٌ .

**التمرين الثاني :** أصنّفُ الأجسامَ التالية في الجدول :

- خَشَبٌ - ذَهَبٌ - زَيْتٌ - هَوَاءٌ - غَازٌ - مَاءٌ - حَدِيدٌ - خَلٌّ .

أجسامٌ صلبةٌ	أجسامٌ سائلةٌ	أجسامٌ غازيةٌ
.....	.....	.....
.....	.....	.....
.....	.....	.....

**التمرين الثالث :** أكملُ بـ : ( يَرْتَفِعُ - يَنْخَفِضُ - يَخْرُجُ - يَدْخُلُ ) .

عِنْدَمَا أَتَنَفَّسُ ..... الْهَوَاءُ إِلَى جِسْمِي فَ..... الْقَفْصُ الصَّدْرِي وَ عِنْدَمَا

..... الْهَوَاءُ مِنْ جِسْمِي ..... الْقَفْصُ الصَّدْرِي .

**التمرين الرابع :** أملأُ الفُرَاغَاتِ بِمَا يُنَاسِبُ :

عِنْدَمَا أَنْمُو يَتَغَيَّرُ ..... وَ تَزْدَادُ ..... وَ يَزْدَادُ ..... وَ أَصْبَحُ

قَادِرًا عَلَى الْمَشْيِ وَ ..... وَ .....

## إصلاح إمتحان الثلاثي الأول فى الإيقاظ العلمى

**التمرين الأول :** أحيطُ الجسمَ الذي يتحوَّل إلى سائلٍ بفعلِ

الحَيَظَرَةُ (ن3) شَكْلَاطَةٌ الزَبْدَةُ ثَلْجٌ - مُتَلَجَّاتٌ

**التمرين الثانى :** أصنّفُ الأجسامَ التَّالِيَةَ فِي الجَدُولِ : (2ن)

- خَشَبٌ - ذَهَبٌ - زَيْتٌ - هَوَاءٌ - غَازٌ - مَاءٌ - حَدِيدٌ - خَلٌّ .

أَجْسَامٌ صَلْبَةٌ	أَجْسَامٌ سَائِلَةٌ	أَجْسَامٌ غَازِيَةٌ
...خَشَبٌ....	.....زَيْتٌ.....	....هَوَاءٌ....
.....ذَهَبٌ.....	.....مَاءٌ.....	....غَازٌ....
.....حَدِيدٌ.....	.....خَلٌّ.....	

**التمرين الثالث :** أكْمَلُ بِ: ( يَرْتَفِعُ - يَنْخَفِضُ - يَخْرُجُ - يَدْخُلُ ) . (2ن)

عِنْدَمَا أُنْتَفَسُ .. يَدْخُلُ .... الْهَوَاءُ إِلَى جِسْمِي فَيَرْتَفِعُ ..... الْقَفْصُ الصَّدْرِي وَ عِنْدَمَا  
يَخْرُجُ ..... الْهَوَاءُ مِنْ جِسْمِي .... يَنْخَفِضُ ..... الْقَفْصُ الصَّدْرِي .

**التمرين الرابع :** أَمَلِّءُ الْفَرَاعَاتِ بِمَا يُنَاسِبُ : (3ن)

عِنْدَمَا أَنُمُو يَتَغَيَّرُ ... جِسْمِي ... ، وَ تَزْدَادُ ... قَامَتِي ... ، وَ يَزْدَادُ ... وَزْنِي ... ، وَ أَصْبَحُ  
قَادِرًا عَلَى الْمَشْيِ وَ ... الْقِرَاءَةِ ... ، وَ ... الْكِتَابَةِ ...

# إمتحان الثلاثي الأول في الإيقاظ العلمي

## التمرين الأول: (2ن)

- ألَوْنُ البِطَاقَةِ الَّتِي تَضُمُّ طَعَامًا صِحِّيًّا :

أُرْزُ

خُضَرٌ وَ فَوَاكِهُ

لُحُومٌ

مَشْرُوبَاتٌ غَازِيَّةٌ

## التمرين الثاني: (3ن)

إِرْبِطْ كُلَّ عِبَارَةٍ مَعَ مَا يُنَاسِبُهَا:

- تَطَرَأَ عَلَى جِسْمِي .
- يَزْدَادُ وَزْنِي .
- أَصْبَحُ قَادِرًا عَلَى .
- وَتَطَوَّلُ قَامَتِي .
- الْقِيَامَ بِبَعْضِ الْأَعْمَالِ .
- نَغْيَرَاتٍ كَثِيرَةٍ .

## التمرين الثالث: (2ن)

اُكْتُبْ (ص) أَوْ (خ) أَمَامَ الْعِبَارَةِ الْمُنَاسِبَةِ:

- جِسْمِي يَحْتَاجُ إِلَى الْهَوَاءِ خِلَالَ النَّوْمِ (.....)
- الْهَوَاءُ النَّقِيُّ يَحْتَوِي عَلَى دُخَانِ السِّيَّارَاتِ (.....)

- أَحْتَرِمُ أَوْقَاتَ الْأَكْلِ وَ أَوْقَاتَ الرَّاحَةِ (.....)

- الْمَاءُ ضَرُورِيٌّ لِنُمُوِّ النَّبَاتِ الْأَخْضَرِ (.....)

### التّمرين الرابع: (3ن)

- أَكْمِلْ بِمَا يَلِي : (الماء - يَمْتَصُّ - يَتَوَزَّعُ )

..... النَّبَاتُ الْأَخْضَرُ..... مِنْ الْوَسْطِ الَّذِي يَعِيشُ فِيهِ وَ ..... عَنَرٍ  
كَامِلٍ أَجْزَائِهِ .



### التمرين الأول : (2ن)

- أَلَوْنُ الْبُطَاقَةِ الَّتِي تَضُمُّ طَعَامًا صِحِّيًّا :

أُرْزُ

خُضَرٌ وَ فَوَاكِهٌ

لَحُومٌ

مَشْرُوبَاتٌ غَازِيَّةٌ

### التمرين الثاني: (3ن)

- ارْبِطْ كُلَّ عِبَارَةٍ مَعَ مَا يُنَاسِبُهَا:

تَطَرَّأَ عَلَى جِسْمِي	وَتَطَوَّلُ قَامَتِي .
يَزْدَادُ وَزْنِي	الْقِيَامُ بِبَعْضِ الْأَعْمَالِ .
أَصْبَحُ قَادِرًا عَلَى	تَغْيِيرَاتٍ كَثِيرَةٍ .

### التمرين الثالث: (2ن)

أُكْتِنِبُ (ص) أَوْ (خ) أَمَامَ الْعِبَارَةِ الْمُنَاسِبَةِ:

جِسْمِي يَحْتَاجُ إِلَى الْهَوَاءِ خِلَالَ النَّوْمِ (ص)  
الْهَوَاءُ النَّقِيُّ يَحْتَوِي عَلَى دُخَانِ السَّيَّارَاتِ (خ)  
أَحْتَرِمُ أَوْقَاتَ الْأَكْلِ وَ أَوْقَاتَ الرَّاحَةِ (ص)  
الْمَاءُ ضَرُورِي لِنُموِّ النَّبَاتِ الْأَخْضَرِ (ص)

### التمرين الرابع: (3ن)

- أَكْمِلْ بِمَا يَلِي : (الْمَاءُ - يَمْتَنَصُّ - يَتَوَزَّغُ )

يَمْتَنَصُّ النَّبَاتُ الْأَخْضَرُ الْمَاءَ مِنَ الْوَسْطِ الَّذِي يَعِيشُ فِيهِ وَ يَتَوَزَّغُ عَبْرَ كَامِلِ أَجْزَائِهِ .

# إمتحان الثلاثي الأول في الإيقاظ العلمي

اللقب: .....

الاسم: .....

## التمرين الأول :

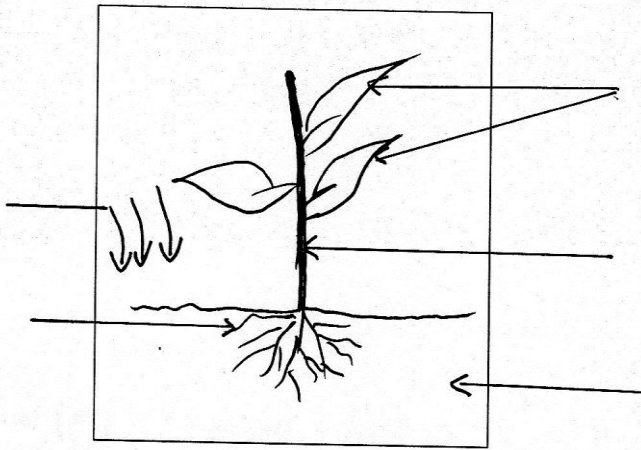
- أضع (ص) أمام العبارة الصحيحة و (خ) أمام العبارة الخاطئة:
  - جسمي لا يحتاج إلى الهواء أثناء النوم (.....)
  - عندما أتغذى جيدا أنمو باستمرار (.....)
  - أتجنب الأماكن الملوثة (.....)
  - لا أمارس الرياضة لأنها خطيرة (.....)
  - عملية دخول الهواء إلى جسمي تسمى زفير (.....)

## التمرين الثاني :

- أربط بين الجملة وما يناسبها :
  - له أسنان لبنية الرضيع
  - عضلاته قوية
  - يحب ولا يستطيع المشي الطفل
  - قامته طويلة وجسمه ثقيل
  - يبكي عندما يطلب الأشياء لأنه لا يتكلم الشاب
  - يذهب إلى المدرسة الابتدائية

### التمرين الثالث :

- أوراق - ساق - تربة - جذور - ماء  
- أرسم مسار الماء على النبتة باللون الأزرق



**الوضعية الإدماجة :** ذهبت مريم إلى السوق لشراء بعض اللوازم ، وعندما عادت أحضرت ما يلي :

- خضر - مشروبات غازية - كاشير - بيض - رقائق البطاطا - فواكه - سمك -  
علبة شكولاتة .

قالت لها أمها : لماذا أحضرت كل هذه المواد الغذائية ، فهناك أغذية غير صحية لا يجب علينا تناولها فقومي بفرزها الآن .

- ساعد مريم على فرز المواد إلى أغذية صحية وأغذية غير صحية :

أغذية غير صحية	أغذية صحية
.....	.....
.....	.....
.....	.....
.....	.....

## إصلاح إمتحان الثلاثي الأول في الإيقاظ العلمي

ديسمبر 2017

السنة الثانية

**التمرين الأول :** أضع (ص) أمام العبارة الصحيحة و (خ) أمام العبارة الخاطئة (2.5ن):

- جسمي لا يحتاج إلى الهواء أثناء النوم (.....خ.....)
- عندما أتغذى جيدا أنمو باستمرار (.....ص.....)
- أتجنب الأماكن الملوثة (.....ص.....)
- لا أمارس الرياضة لأنها خطيرة (.....خ.....)
- عملية دخول الهواء إلى جسمي تسمى زفير (.....خ.....)

**التمرين الثاني :** أربط بين الجملة وما يناسبها (3ن)

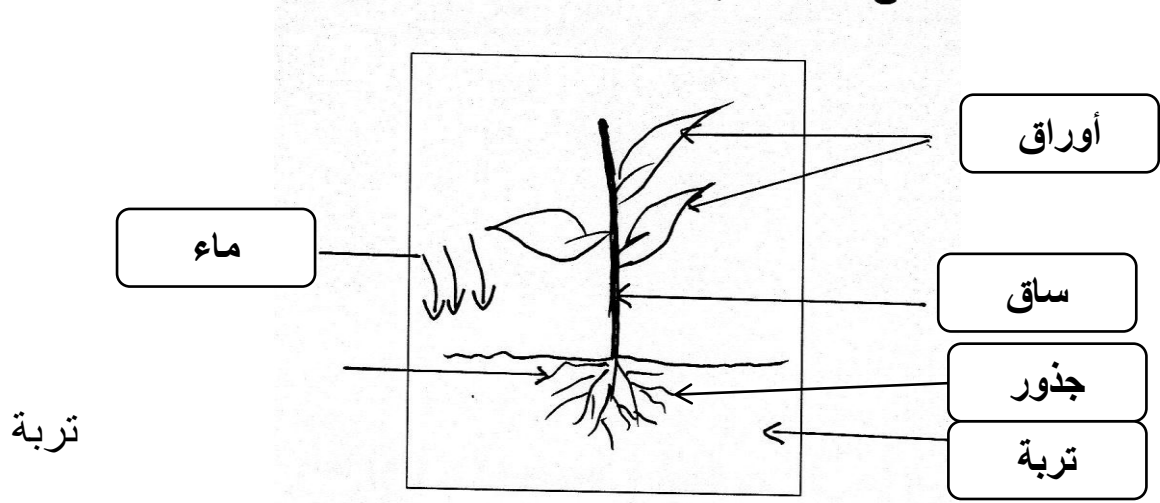
- |        |                                       |
|--------|---------------------------------------|
| الرضيع | له أسنان لبنية                        |
| الطفل  | عضلاته قوية                           |
| الشاب  | يحبو ولا يستطيع المشي                 |
|        | قامته طويلة وجسمه ثقيل                |
|        | يبكي عندما يطلب الأشياء لأنه لا يتكلم |
- يذهب إلى المدرسة الابتدائية

**التمرين الثالث :** أملأ الفراغ بالكلمات التالية (جذوره - يتوزع - الماء - أجزائه) (2.5ن)

- يمتص النبات الأخضر .... الماء.... من التربة بواسطة ..... جذوره.....، ثم يصعد و ..... يتوزع..... على كل ... أجزائه.....
- أضع البيانات التالية في مكانها المناسب :

أوراق - ساق - تربة - جذور - ماء

- أرسم مسار الماء على النبتة باللون الأزرق




**الوضعية الإدماجية :** ذهبت مريم إلى السوق لشراء بعض اللوازم ، وعندما عادت أحضرت ما يلي : (2ن)

- خضر - مشروبات غازية - كاشير - بيض - رقائق البطاطا - فواكه - سمك -  
علبة شكولاتة .

قالت لها أمها : لماذا أحضرت كل هذه المواد الغذائية ، فهناك أغذية غير صحية لا يجب علينا تناولها فقومي بفرزها الآن .

- ساعد مريم على فرز المواد إلى أغذية صحية وأغذية غير صحية :

أغذية صحية	أغذية غير صحية
.....خضر.....	...مشروبات غازية.....
.....بيض.....	...كاشير.....
.....فواكه.....	...رقائق البطاطا.....
.....سمك.....	...علبة شكولاتة.....



## إمتحان الثلاثي الأول في الإيقاظ العلمي

الوضعية 1 : (3ن ) أجب ب " صحيح " أو " خطأ " أمام كل عبارة

التنفس غير ضروري للحياة .

الحلويات تقوي جسم الإنسان

يمتص النبات الأخضر الماء بواسطة جذوره

يذبل النبات الأخضر إذا خرجت جذوره فوق سطح الأرض

ينمو النبات الأخضر في المياه المالحة جدا.

التنفس هو عملية دخول الهواء إلى الجسم و خروجه

الوضعية 2: (2.5ن) املأ الفراغ بما يناسب (جذوره - فيزداد - الوسط - أجزائه - ينمو

يمتص النبات الأخضر الماء من ..... الذي يعيش فيه بواسطة .....

و يتوزع إلى كامل ..... (

-جسمي..... باستمرار، وتحدث عليه تغيرات كثيرة.....وزني وتطول قامتي.

الوضعية 3: (1ن) لون العبارات الصحيحة .

الماء المناسب لسقي النبات الأخضر هو :

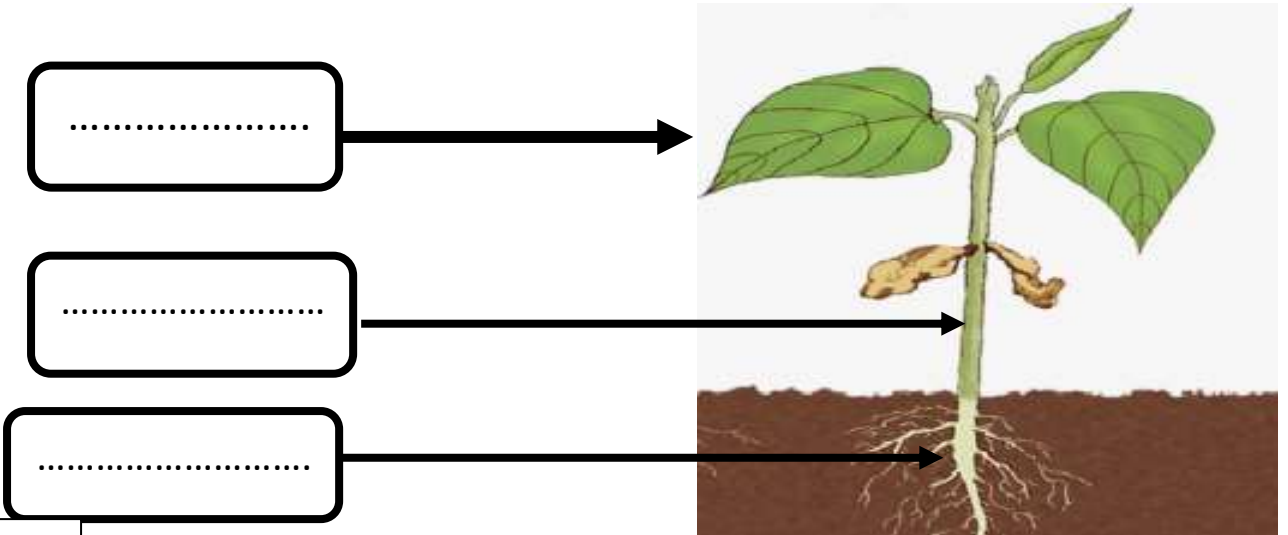
--	--	--	--

الوضعية 4: (1.5) أضع علامة (X) تحت الصورة التي تمثل وجود هواء ملوث



الوضعية الإدماجية : (2ن)

- في بداية عطلة الربيع غرس خالد بذور الفاصولياء، أما مريم فغrst بذور القمح .  
- بعد عدة أيام نمت بذور الفاصولياء التي زرعها خالد ، أما بذور القمح التي زرعها مريم لم تنم ، لأنها ذهبت لقضاء عطلتها عند خالتها في الصحراء .  
+ نمت بذور الفاصولياء لأن خالد ..... بها .  
+ لم تنم بذور القمح لأن مريم لم ..... بها .  
- في الأسبوع الثالث لاحظ خالد ظهور أجزاء النبات. المتمثلة في الشكل التالي :  
اكمل البيانات المتمثلة في أجزاء النبات الأخضر :





## إصلاح إمتحان الثلاثي الأول في الإيقاظ العلمي

الوضعية 1 : (3ن ) أجب ب " صحيح " أو " خطأ " أمام كل عبارة

خطأ

التنفس غير ضروري للحياة .

خطأ

الحلويات تقوي جسم الإنسان

صحيح

يمتص النبات الأخضر الماء بواسطة جذوره

صحيح

يذبل النبات الأخضر إذا خرجت جذوره فوق سطح الأرض

خطأ

ينمو النبات الأخضر في المياه المالحة جدا .

صحيح

التنفس هو دخول الهواء إلى الجسم و خروجه

الوضعية 2: (2.5ن) املأ الفراغ بما يناسب (جذوره - فيزداد - الوسط - أجزائه - ينمو )

-يمتص النبات الأخضر الماء من الوسط .الذي يعيش فيه بواسطة جذوره

و يتوزع إلى كامل أجزئه

-جسمي ينمو باستمرار ، وتحدث عليه تغيرات كثيرة فيزداد .وزني وتطول قامتي .

الوضعية 3 : (1ن) لون العبارات الصحيحة .

الماء المناسب لسقي النبات الأخضر هو :

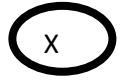
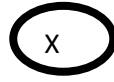
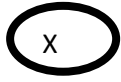
ماء الحنفيات

الماء الملوث

ماء البحر

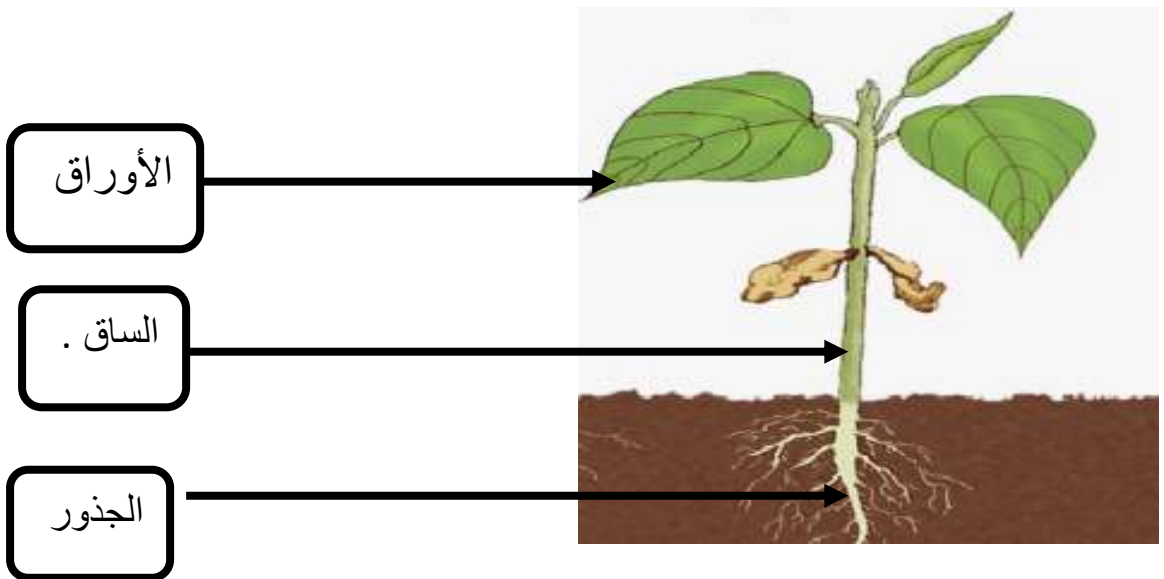
ماء الأنهار

الوضعية 4: (1.5) أضع علامة (X) تحت الصورة التي تمثل وجود هواء ملوث



## الوضعية الإدماجية : (ن2)

- في بداية عطلة الربيع غرس خالد بذور الفاصولياء، أما مريم فغrst بذور القمح .
- بعد عدة أيام نمت بذور الفاصولياء التي زرعها خالد ، أما بذور القمح التي زرعها مريم لم تنم ، لأنها ذهبت لقضاء عطلتها عند خالتها في الصحراء .
- + نمت بذور الفاصولياء لأن خالد اعتنى بها .
- + لم تنم بذور القمح لأن مريم لم تعتن بها .
- في الأسبوع الثالث لاحظ خالد ظهور أجزاء النبات. المتمثلة في الشكل التالي :
- اكمل البيانات المتمثلة في أجزاء النبات الأخضر :



2020

## إمتحان الثلاثي الأول في الإيقاظ العلمي

الاسم و اللقب : .....

التمرين الأول: ضع علامة (x) أمام الجواب الصحيح (2ن)

الحيوانات الولودة	الحيوانات البيوضة	
		الضفدع
		اللبؤة
		القطعة
		الثعبان

التمرين الثاني: ألون المواد السائلة بأحمر والصلبة بأصفر (3ن)

الحديد

الزيت

العصير

الحجر

الحليب

الخشب

التمرين الثالث: أكمل ملء الجدول (الخروف - الكلب - الأسد - البقرة - الذئب - الزرافة) (3ن)

الحيوانات أكلت اللحم	الحيوانات أكلت العشب
.....	.....
.....	.....
.....	.....

التمرين الرابع: ضع (ص) أمام الجواب الصحيح و (خ) أمام الجواب الخطأ (2ن)

\*الدلفين حيوانا يعيش في الصحراء (.....)

\*أعود من المدرسة صباحا (.....)

\*أرمني الأوساخ في الحدائق العامة (.....)

\*الجبن مصدر نباتي (.....)

إصلاح إمتحان الثلاثي الأول في  
الإيقاظ العلمي

التمرين الأول: ضع علامة (×) أمام الجواب الصحيح (2ن)

الحيوانات الولودة	الحيوانات البيوضة	
	×	الضفدع
×		اللبؤة
×		النقطة
	×	الثعبان

التمرين الثاني: ألون المواد السائلة بأحمر والصلبة بأصفر (3ن)

الحديد

الزيت

العصير

الحجر

الحليب

الخشب

التمرين الثالث: أكمل ملء الجدول (الخروف - الكلب - الأسد - البقرة - الذنب - الزرافة) (3ن)




الحيوانات أكلت اللحم	الحيوانات أكلت العشب
الكلب	الخروف
الأسد	البقرة
الذنب	الزرافة

التمرين الرابع: ضع (ص) أمام الجواب الصحيح و (خ) أمام الجواب الخطأ (2ن)

- \* الدلفين حيوانا يعيش في الصحراء (خ).
- \* أعود من المدرسة صباحا (خ)
- \* أرمي الأوساخ في الحقائق العامة (خ)
- \* الجبن مصدر حيواني (ص)

## إمتحان الثلاثي الأول في الإيقاظ العلمي

1- أرّتب هذه الصّور باستعمال الأرقام من الأصغر سنّا إلى الأكبر سنّا (1ن)



2- أضع علامة (x) أمام التّصرفات الصّحيحة (5,1 ن)

- أغسل يديّ قبل الأكل .
- أسهر إلى ساعة متأخرة من اللّيل.
- أتناول أغذية صحيّة .
- لا أمارس الرّياضة .
- أكثر من تناول المأكولات المصبّرة .
- أحترم أوقات الوجبات الغذائيّة .

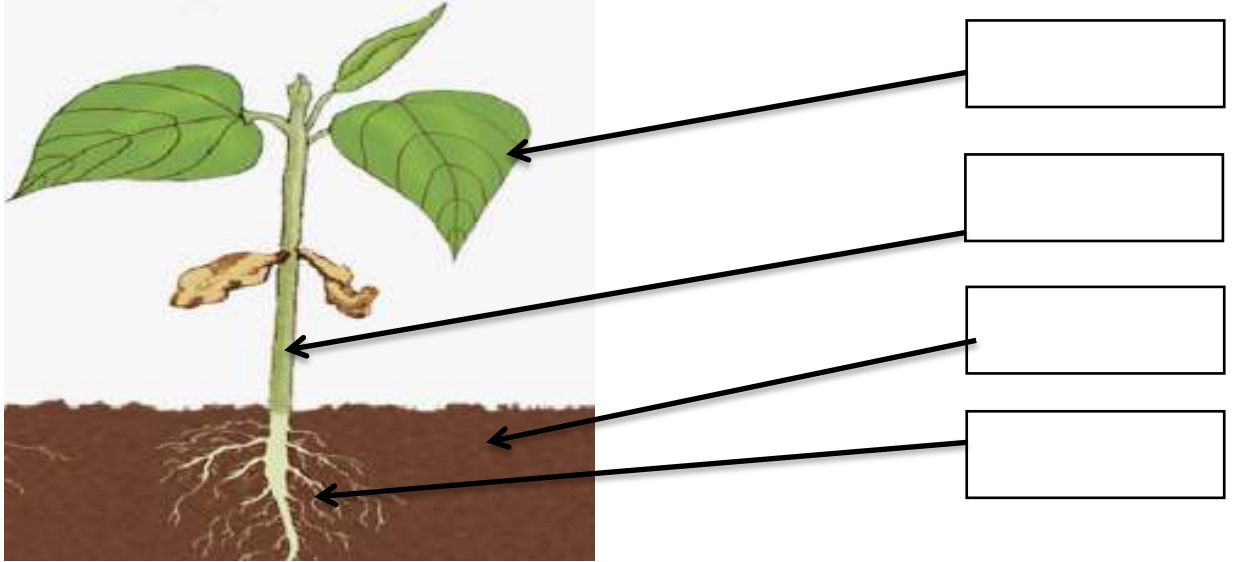
3- أكمل بما يناسب : (الهواء - ينخفض - أتنفّس - يرتفع) (2ن)

..... باستمرار بإدخال ..... إلى جسّمي ف .....  
صدري ، ثمّ أطرحه ف ..... صدري.

4- أضع إشارة ( x ) في الخانة المناسبة (2,5ن)

لا تذبل	تذبل	
		- نبات قطعت جذوره.
		- نبات يسقى بمياه مالحة جدا .
		- نبات يسقى بماء الحنفية .
		- نبات يسقى بمياه قنوات الصّرف الصحيّة.
		- نبات أقتلع من التّربة.

5- أكتب البيانات المناسبة ، ثمّ أرسم مسار الماء في النّبتة باللّون الأحمر .  
(3ن)



## إصلاح إمتحان الثلاثي الأول فى الإيقاظ العلمى

1- أرّتب هذه الصّور باستعمال الأرقام من الأصغر سنا إلى الأكبر سنا(1ن)



4



1



3



2

2- أضع علامة (x) أمام التّصرفات الصّحيحة (1,5 ن)

- أغسل يديّ قبل الأكل . ( x )
- أسهر إلى ساعة متأخرة من اللّيل. ( )
- أتناول أغذية صحيّة . ( x )
- لا أمارس الرّياضة . ( . )
- أكثر من تناول المأكولات المصبّرة. ( . )
- أحترم أوقات الوجبات الغذائية . ( x )

3- أكمل بما يناسب (2ن)

أتنفّس باستمرار. بإدخال الهواء إلى جسمي فيرتفع

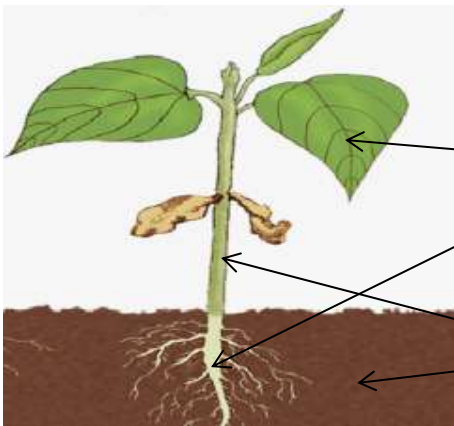
صدري ، ثمّ أطرحه فينخفض صدري.

4- أضع إشارة x الخانة المناسبة (2,5ن)

لا تذبل	تذبل	
	x	- نبات قطعت جذوره.
	X	- نبات يسقى بمياه مالحة جدا .
X		- نبات يسقى بماء الحنفية .
	X	- نبات يسقى بمياه قنوات الصرف الصحيّة.
	X	- نبات أقتلع من التّربة.

5- أكتب البيانات المناسبة (2ن )

أرسم مسار الماء في النّبتة بالون الأحمر. (1ن)



الجذور

الأوراق

التربة

السّاق