

تقييم مكتسبات التلاميذ
المادة: الرياضيات
السنة الثالثة

السند ع1د1:

قرّر الإخوة محمد ومريم وعمر □ حفل بعيد ميلاد أمهم فقدّم كلّ منهم المبلغ الماليّ الذي في حصّالته كما يبيّنه الجدول التالي:

عمر	مريم	محمد	المبلغ الماليّ بالمليم
3620	3720	4325	

كانت مشتريات الإخوة كما يلي:

- * اشترى محمد 3 قطع مرطّبات بـ 985 مي القطعة الواحدة.
- * اشترت مريم 4 قوارير من المشروبات بـ 535 مي القارورة.
- * اشترى عمر 5 علب شموع بـ 507 مي العلب الواحدة.

التعليمة 1-1: أبحث عن :

- ثمن قطع المرطّبات.

مع1

--	--	--

- ثمن قوارير المشروبات.

مع2

--	--	--

- ثمن علب الشموع.

مع1

--	--	--

- المبلغ الماليّ المتبقّي لمحمد.

- المبلغ الماليّ المتبقّي لمريم.

مع2

--	--	--

- المبلغ الماليّ المتبقّي لعمر.

السند ع2د1:

جمّع الإخوة الثلاثة ما بقي لهم من مال فتحصّلوا على مبلغ يفوق المبلغ الذي وجده عمر في حصّالته بـ 290 مي فاشتروا به 3 أشرطة ملوّنة وبقي لهم 520 مي

التعليمة 1-2: أ طرح سوّالا مناسباً للوضعية يتطلب حله إنجاز عمليتين.

مع5أ

--

التعليمة 2-2: أجيب عن السؤال

مع 5
ب

.....

.....

.....

.....

السند ع3د:

هذه أطوال الأشرطة الثلاثة:

أحول الأطوال إلى الوحدة المطلوبة:

الشريط 1	1 دكم دسم
الشريط 2	8 م و 5 دسم دسم
الشريط 3	7 م دسم


مع 3
ب

السند ع4د:


أحاط الأطفال نافذتين بقاعة □ ستقبال بالأشرطة الملونة.

التعليمة 4: ألون محيط النافذتين 1 و 2:


1 م 25 صم



3



2



1

أبحث عن قياس محيط النافذة عدد 3:

.....

.....

مع 4
ب

جدول إسناد الأعداد

مستويات التملك	مع 1	مع 2	مع 3	مع 4	مع 5
انعدام التملك	0	0	0	0	0
التملك دون الأدنى	0.5	1	1.5	1	2
التملك الأدنى	1.5	2	3	2	3
التملك الأقصى	2.5	3	3.75	4.5	5