

ÇÀñÀàzf Ñ ÆÊ Ñ · ß Í Î Ñ

التمرين الأول : أنجز العمليات التالية :

646	169	503	439
- 223	+ 553	+ 298	+ 232
<hr/>	<hr/>	<hr/>	<hr/>

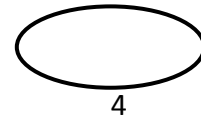
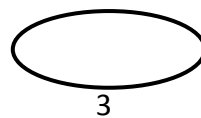
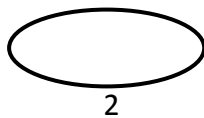
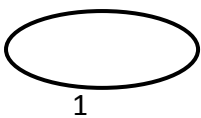
التمرين الثاني : أربط بين السعات المتساوية ثم رتبها من الأصغر إلى الأكبر.

250 CL 300CL

5 L 230CL

2 L 30 CL 2L50CL

3 L 500CL



التمرين الثالث : أحصر الأعداد التالية بين :

ب-مائتين متتاليتين

أ-عشرتين متتاليتين

.....<318<

.....<439 <.....

.....<506<

..... < 218 <.....

التمرين الرابع :

عين النقطة ع التي تقع في نفس الوقت على استقامة واحدة مع النقطتين ب . ج
ومع النقطتين م د

ب

م

.

.

د

ج

.

.

الوضعية الإدماجية :

بمناسبة عيد المرأة قرر الأولاد شراء هدية لأُمهم فقدمت ليلي 360 ديناراً
وأعطى عمر 400 ديناراً وساهمت سلمى بـ 450 ديناراً

-اختار الأطفال فستاناً كهدية لأُمهم ثمنه 1100 ديناراً.

-هل يكفي ما جمعه الأطفال لشراء الهدية ؟

-إذا كان المبلغ كافياً كم سيبقى لديهم ؟

الحل

الأجوبة

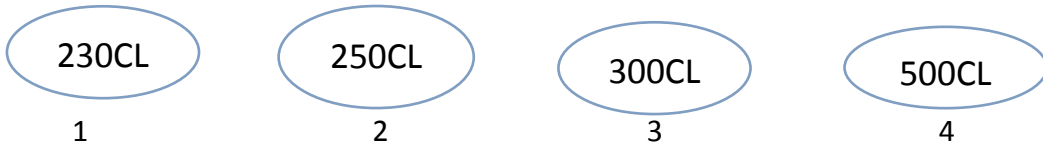
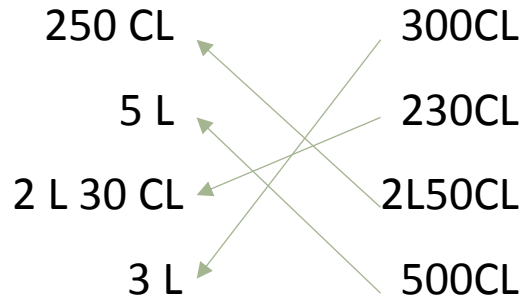
العمليات

الإصلاح

التمرين الأول : أنجز العمليات التالية :

646	169	503	439
- 223	+ 553	+ 298	+ 232
<hr/>	<hr/>	<hr/>	<hr/>
4 2 3	7 2 2	8 0 1	6 7 1

التمرين الثاني : أربط بين السعات المتساوية ثم رتبها من الأصغر إلى الأكبر.



التمرين الثالث : أحصر الأعداد التالية بين :

ب-مائتين متتاليتين

...300..<318< 400..

500..<506< ...510.

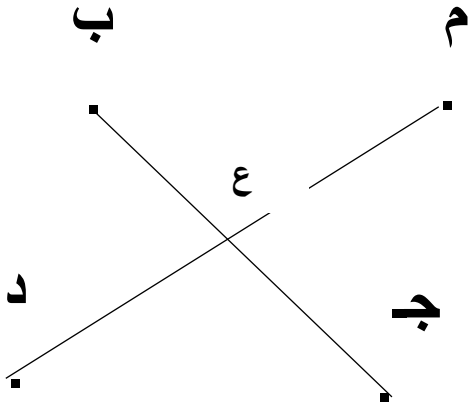
أ-عشرتين متتاليتين

...430<439 <440....

..210.. < 218 < ..220.

التمرين الرابع :

عين النقطة ع التي تقع في نفس الوقت على استقامة واحدة مع النقطتين ب . ج
ومع النقطتين م د



الوضعية الإدماجية :

بمناسبة عيد المرأة قرر الأولاد شراء هدية لأُمهم فقدمت ليلي 366 ديناراً
وأعطى عمر 400 ديناراً وساهمت سلمى بـ 450 ديناراً
-اختار الأطفال فستاناً كهدية لأُمهم ثمنه 1100 ديناراً.

-هل يكفي ما جمعه الأطفال لشراء الهدية ؟

-إذا كان المبلغ كافياً كم سيبقى لديهم ؟

الحل

الأجوبة

$$366+400+450=1216$$

نعم يكفي ما جمعه الاطفال لشراء

الهدية لان: $1100 < 1216$

$$1216-1100=0116$$

سيبقى لديهم: 0116 دينار

العمليات

1216

-1100

0116

366

+ 400

+ 450

1216