

# تَقْيِيمُ مُلْتَسِبَاتِ التَّلَامِيذِ بِدَايَةِ السَّنَةِ الدَّرَاسِيَّةِ

رياضيات

الاسمُ و اللقبُ: .....

(1) أَحْسِبْ.

$$\begin{array}{r} 526 \\ \times 4 \\ \hline \end{array}$$

$$\begin{array}{r} 567 \\ \times 75 \\ \hline \end{array}$$

$$\begin{array}{r} 90274 \\ - 35865 \\ \hline \end{array}$$

مع 2

(2) أُعَبِّرْ عَنْ كُلِّ قَيْسٍ بِالْوَحْدَةِ الْمَطْلُوبَةِ.

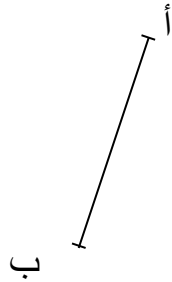
13 دكل و 2 ل = .....

2 هل و 3 دكل = .....


3 هل و 5 ل = .....

مع 3

ب- أَنْتُمْ رَسَمَ الْمَرْبَعِ أ ب ج د

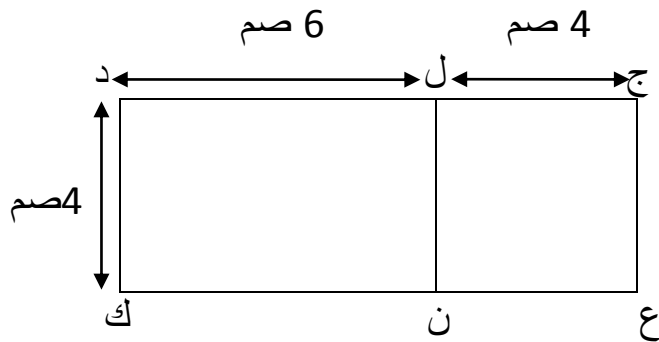


(3) أ- أَنْتُمْ رَسَمَ الْمُسْتَطِيلِ أ ب ج د



مع 4  
مع 5

ج- أَحْسِبْ قَيْسَ مُحِيطِ الشَّكْلِ ج د ع ك



.....  
.....

مع 4

.....  
.....  
(4) عصر فلاح إنتاجه من الزيتون فتحصل على:

- 6 براميل من الزيت الرفيع يحوي الواحد 15 دكل.
- 43 دكل من الزيت المتوسط.

✓ أحسب كمية الزيت الذي تحصل عليه هذا الفلاح.

مع 1

مع 2

مع 5

(5) ليحسن فلاحته غرس هذا الفلاح 673 شجرة لوز، بعد مدة لاحظ أن 78

شجرة لم تنبت.

✓ أحسب عدد النباتات التي نبتت.

مع 1

مع 2

الحساب الذهني: الضرب على الأعداد الصحيحة الطبيعية / التصرف في وحدات قياس الأطوال: المتر - أجزاءه و مضاعفاته / التصرف في وحدات قياس السعة: اللتر و أجزاءه / التصرف في وحدات قياس الكتل: الكغ و الغ ( 16 فرصة للإجابة)


الملاحظات

جدول إسناد الأعداد

الحساب الذهني
4

مستويات التملك	معايير الحد الأدنى				معايير التميز مع 5
	مع 1	مع 2	مع 3	مع 4	
إنعدام التملك ( - - - )	0	0	0	0	
دون التملك الأدنى ( + - - )	1	0,5	1	1	
التملك الأدنى ( + + - )	2	1,5	2	2	
التملك الأقصى ( + + + )	3	2,5	3	3	4