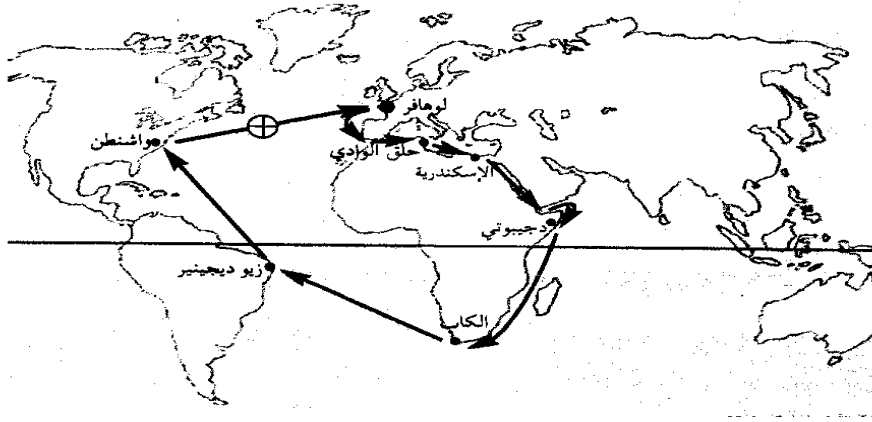


المقطع 1

نظمت جمعية "أحباء البيئة" رحلة بحرية على متن باخرة حديثة، فجابت البحار والمحيطات وتوقفت في عدة موانئ بقارات مختلفة.

أتأمل مسار الباخرة على الخريطة:

**التعليمة: 1.1**

أسمي ما شملته هذه الرحلة من: بحار، قارات ومحيطات.

مع 1

التعليمة: 2.1

أذكر اتجاه السفينة من مكان انطلاقها بتونس نحو البحر الأحمر.

مع 2

التعليمة: 3.1

أين توجد تونس بالنسبة إلى البحر المتوسط؟

مع 1

المقطع 2

أثناء الرحلة توقفت السفينة بعدة موانئ منها:

- جيبوتي - ألكاب - ريوديجانيرو - واشنطن

التعليمة: 1.2

أسمي القارة التي تنتمي إليها كل مدينة من المدن السابقة:

مع 2

- جيبوتي : قارة:
- ألكاب : قارة:
- ريوديجانيرو : قارة:
- واشنطن : قارة:

المقطع 3

أثناء الرحلة اتصل أحد أعضاء الجمعية هاتفياً بعائلته للتعرف على أحوالها فطلب منه مخاطبه أن يحدد له موقعه.

التعليمة: 1.3

أحدد مكان تواجد عضو الجمعية في النقطة ⊕ على الخريطة بالنسبة إلى:

- القارة الأمريكية - خط الاستواء - القارة الأوروبية

جدول المعايير

عيار التميز	معايير الحد الأدنى				
	مع 5	مع 4	مع 3	مع 2	مع 1
0	0	0	0	0	0
2	2	2	2	1	0.5
3	3	3	3	2	1
5	5	5	5	3	2
					+++

السنة الدراسية 2021/2020	تقييم مكتسبات المتعلمين في نهاية الثلاثي الأول	المدرسة الإبتدائية سيدي أحمد
السنة الخامسة ج / د	المادة: الجغرافيا	الاسم و اللقب :

التعليمة

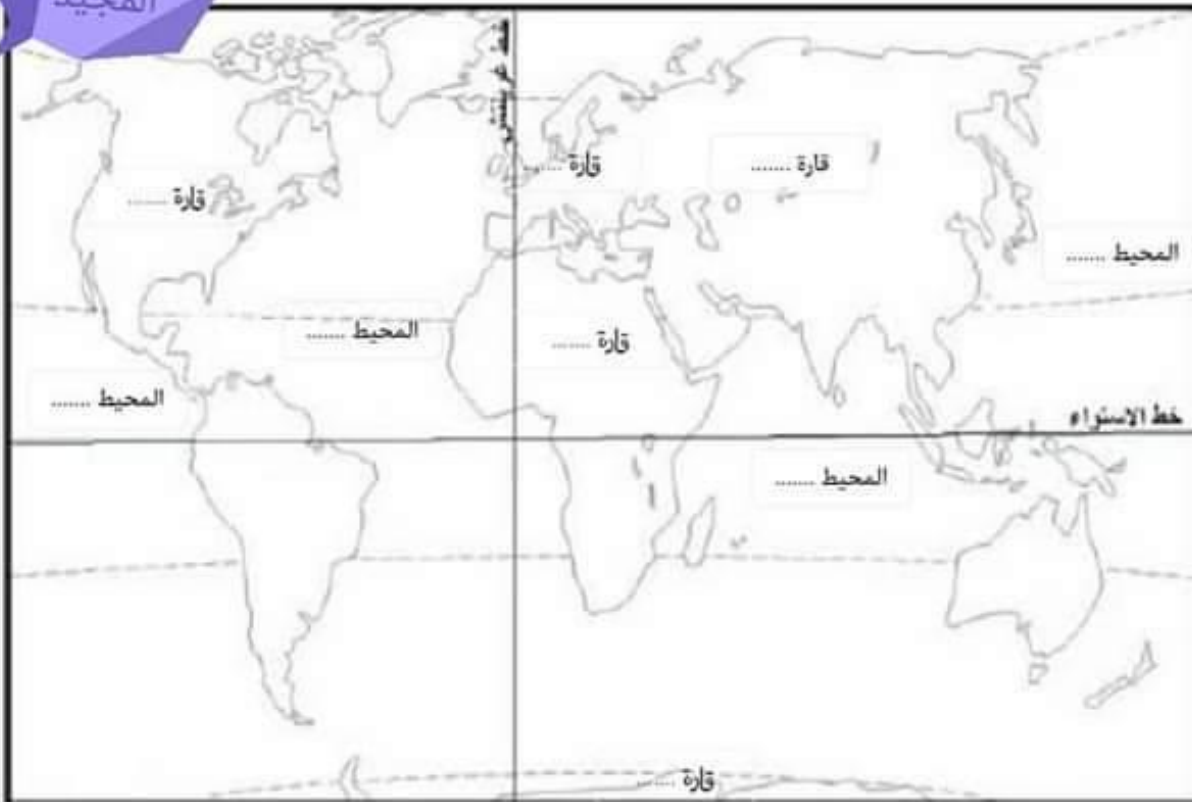
المعايير

السند 1 :

شارك أبي في رحلة بحرية على متن باخرة جابت أغلب بحار ومحيطات العالم

التعليمة 1 : تأمل الخريطة و أتم تعمير الفراغات

معاوية
المجيد



معايير
للا
للا
للا

السند 2 :

تأمل أبي خريطة العالم جيداً فتفطن أنها تحتوي على مختلف أنواع التضاريس

معلمي أونلاين

www.mon-professeur.online

التعليمة 1 : أكمل تعميم الجدول

جبال	سهول	هضاب	
الهمالايا	قارة آسيا
.....	سهول نهر النيل	قارة إفريقيا
.....	هضبة فرنسا الوسطى	قارة أوروبا

مد 3

ل ل

ل ل

التعليمة 2 : أصلح الخطأ

معاوية
المجيد

✓ القسم اليابس يتكوّن من بحار ومحيطات

✓

✓ أغلب القارات توجد بجنوب خط الإستواء

✓

✓ خطوط الطول عددها 180 خطًا يتوسطها خط الإستواء

✓

مد 2

ل ل

السند 3 :

تأمل أبي موقع البلاد التونسية في الخريطة فلاحظ أنها تتمتع بموقع استراتيجي .

التعليمة 1 : أبين مميزات موقع البلاد التونسية



مد 4

ل

التعليمة 2 :

أكتب حدود البلاد التونسية

مد 1

ل ل

السند 4 :

تجاذب أبي أطراف الحديث مع صديقه الفرنسي حول الفوارق بين
المشاهد الريفية في تونس و المشاهد الريفية في بلد أوروبي
معلمي أونلاين
www.mon-professeur.online

التعليمة 2 : أصنّف الجمل في الجدول

- شبكة طرقات منظّمة - عمّال يحصدون القمح يدويًا - وصول التّيار
الكهربائي إلى عمق الأرياف - فلاّحون ينصبون السّلام لجني الزّيتون -
وفرة الإنتاج و تنوّعه - تنام السّلع المصدّرة

مشهد ريفي من بلد متقدّم	مشهد ريفي من بلد نامي

معد 3

|||

|||

معاوية
المجيد

التعليمة 2 : تصوّر حلولاً لتطوير المشهد الريفي التّونسي

معد 4

||

معايير التميز	معايير الحد الأدنى												المعايير
	معد 3						معد 2		معد 1				
معد 4	0						0		0				مستويات التملك
	2.5						1		2.5				انعدام التملك
	3						2		3				دون التملك الأدنى
2.5	0						0		0				التملك الأدنى
	2.5						1		2.5				التملك الأقصى
5	3						2		3				
	6						3		6				

الاسم :	تقييم مكتسبات التلاميذ في نهاية الثلاثي الأول	
اللقب :	الجغرافيا	
القسم : الخامسة . رقم :		

السند 1

نظمت جمعية علماء " أحباء الطبيعة " رحلة بحرية على متن باخرة جابت أغلب بحار ومحيطات العالم.

التعليمة : تأمل جيّد الخريطة وأتمم تعميم الجدول



المحيطات	القارات
المحيط المتجمد	أمريكا
	أوقيانوسيا

مع 1

السند 2

أثناء تنقل هذه البخرة من القارة الإفريقية (شمال إفريقيا) إلى القارة الأمريكية عبرت :

التعليمة 1-2 : أشطب الجواب الخاطئ

- المحيط الأطلسي
- المحيط المتجمد
- المحيط الهندي

مع 2

التعليمة 2-2 : أذكر سلسلة جبلية في القارات التالية

القارة الإفريقية :

القارة الأوروبية :

القارة الآسيوية :

مع 3

السند 3 :

أثناء الرحلة دَوّن أحد العلماء على دفتره الملاحظات التالية :

التعليمة : أتمّم تعمير ما كتبه بالكلمات الناقصة

خطّ الاستواء..... يقسم الكرة الأرضية إلى نصفين متساويين
يخترق خطّ الاستواء القارّة..... و.....
و.....

مع 4

النّصف..... من الكرة الأرضية يشمل اليابسة
النّصف..... من الكرة الأرضية يغطّيه الماء

جدول إسناد الأعداد

المجموع	المعايير				مستويات التملك
	مع 4	مع 3	مع 2	مع 1	
20	0	0	0	0	انعدام التملك
	2	1.5	1.5	2	دون التملك الأدنى
	3	3	3	4	التملك الأدنى
	5	4.5	4.5	6	التملك الأقصى

20	:	
		:

السند 1 : تتمتع البلاد التونسية بشهرة عالمية نظرا لموقعها الجغرافي الهام بين قارّات العالم .

التعليمة 1: ما هي مميزات موقع البلاد التونسية:

.....

.....

التعليمة 2: أربط بسهم :

- ❖ شمال القارّة الافريقية
- ❖ جنوب القارّة الافريقية
- ❖ شرق القارّة الافريقية

❖ تقع البلاد التونسية

السند 2 : تتكوّن الوحدات التضاريسيّة الكبرى من هضاب، جبال و سهول.

التعليمة 1: أواصل تعمير الجدول التالي:

القارّة	الهضبة
❖	❖ هضبة سيبييريا الوسطى
❖ أمريكا	❖
❖ أوروبا	❖

التعليمة 2: أكتب "صواب" أو خطأ" داخل الإطار:

.....

.....

.....

- المياه القاريّة تنقسم إلى مياه سطحية ومياه جوفية
- يتكوّن القسم اليابس للأرض من محيطات و بحار
- يوجد سهل الصّين بالقارّة الأمريكيّة

مع 2

مع 2

مع 1

السند 3: يرغب الكثير من الناس في الحياة الريفية لما فيها من بساطة عيش وهدوء.

التعليمة 1: أوصل بما يناسب:

المشهد الريفي صورة وقتية لمجال هيأه..... لتعاطي.....

حسب..... و حسب أنشطة الفلاح.

التعليمة 2: ما هي أنواع المشهد الريفي؟

.....

.....

التعليمة 3: ما هي عناصر المشهد الريفي؟

.....

.....

.....

مع
3أ

مع
4
عت2

مع
3ب

معلمي أونلاين
www.mon-professeur.online

جدول إسناد الأعداد

معايير التميز		معايير الحد الأدنى					
		مع 3ب	مع 3أ	مع 2ب	مع 2أ	مع 1	
مع 4	مع 3	0	0	0	0	0	إنعدام التملك
عت2	عت1	1	1	1	1	1	دون التملك الأدنى
		2	2	2	2	2	التملك الأدنى
2	3	3	3	3	3	3	التملك الأقصى

20	:	
		:

السند عدد 1 :

نظر أحمد إلى الكرة الأرضية فلاحظ أنّ اللون الأزرق يكاد يغطّي جلّ أجزائها. فاستنتج أن الأرض تتكوّن من جزء يابس و آخر مائي.

التعليمة عدد 1: أكتب بحرين و محيطين و قارتين:

- *البحار:1- 2-.....
- *المحيطات:1- 2-.....
- *القارّات:1- 2-.....

السند عدد 2 :

كما لاحظ أن تونس تحتلّ موقعا استراتيجيا.

التعليمة عدد 1: أحدّد موقع البلاد التونسية بشطب اللافتة الخاطئة:

*تقع البلاد التونسية القارات الإفريقية.

*يحدّها البحر الأبيض المتوسط من جهتي الشمال و الشرق، و تحدّها الجزائر

و ليبيا

السند عدد 3 :

ثمّ اتّجه نحو خريطة العالم ليتعرّف على الوحدات التضاريسية الكبرى.

التعليمة عدد 1: أساعده على تكمير الجدول التالي:

السلسلة	الموقع	أعلى قمة
الهمالايا
.....	الجبل الأبيض
.....	إفريقيا

مع 2 أ

مع 1

مع 2 ب

السند عدد 4 :

بعد جمعه لمجموعة من المعلومات اتّجه نحو والده ليعرف مدى صحتّها.

التعليمة عدد 1: أصلح الخطأ إن وجد بإعادة كتابة الجملة صحيحة:

- القسم اليابس يتكوّن من بحار و محيطات.

.....

- أغلب القارات توجد شمال خط الإستواء.

.....

- القسم اليابس يتكوّن من ثلاث قارات.

.....

السند عدد 5 :

أراد الأب أن يختبر ذكاء ابنه فطرح عليه مجموعة من الأسئلة .

التعليمة عدد 1: حسب رأيك ما هي مميّزات موقع البلاد التونسية؟

.....

.....

.....

حسب رأيك كيف عرف الإنسان إتّجاهاته الأربعة منذ القديم؟

.....

.....

.....

معيّار التميّز		معايير الحد الأدنى						
		مع 3	مع 2	مع 2	مع 2	مع 1	مع 1	
مع 4	مع 4	0	0	0	0	0	0	إنعدام التملك
عت1	عت2	1	1	1	0.5	0.5	1	دون التملك الأدنى
		2	2	2	1	1	2	التملك الأدنى
3	2	3	3	3	1.5	1.5	3	التملك الأقصى

مع 3

مع 4
عت1

عت2

السنة الخامسة		
العدد 20	:	
الاسم و اللقب :		

السند : بمناسبة زيارة رئيسنا الى بلدان الاتحاد الأوروبي بثت إحدى القنوات التلفزية الأجنبية شريطا وثائقيا عن بلادنا تونس و عن أهم البلدان الأوروبية

التعليمة 1: برز في الشريط الوثائقي موقع بلادنا في خريطة العالم أكمل الفراغات بما يناسب:

- تقع البلاد التونسيةقارة إفريقيا
- يحدها البحر الأبيض المتوسط جهتي و ويحدها
- غربا . أما جنوبا فتحدها كل من
- و

التعليمة 2: أذكر القارات التي تنتمي إليها.

- ❖ البلاد التونسية :
- ❖ الدول الأوروبية :
- ❖ الدول الآسيوية :

التعليمة 3: في محاولة للتعريف بخصوصيات الوحدات التضاريسية لأوروبا أبرز الشريط

الوثائقي لجبال شاهقة في أوروبا .

- أجب داخل دائرة السلسلة الجبلية أو السلاسل الجبلية الموجودة في القارة الأوروبية

- سلسلة جبال الأطلس
- سلسلة جبال الألب
- سلسلة جبال الهمالايا

السند : في سفح هذه الجبال برزت على الصورة ساحات شاسعة للريف الأوروبي و هو

مثال عن مشهد ريفي متطور لبلدان متقدمة يختلف عن المشاهد الريفية ببلادنا .

التعليمة 4: أضع علامة (x) تحت المشهد الريفي للبلدان المتقدمة



- أقدم سببين لتفسير اختياري لهذا المشهد :

..... -
..... -

التعليمة 5 : أعدد الجدول بذكر خصائص كل مشهد ريفي حيث مجالات مذكورة

مشهد ريفي مفتوح	مشهد ريفي مسيحي	
.....	المساحة
.....	المساكن
.....	نوع الفلاحة

التعليمة 6 : أربط المشهد الريفي التونسي بما ينتجه .:

- | | |
|-------------------------|-----------------------|
| - غراسة الزيتون | - مشهد ريفي من الوسط |
| - غراسة الحبوب | - مشهد ريفي من الجنوب |
| - غراسة النخيل و الرمان | - مشهد ريفي من الشمال |

معلمي أونلاين

www.mon-professeur.online

معلمي أونلاين

www.mon-professeur.online

مع 4

مع 3

مع 2

مع 4	مع 3	مع 2		مع 1		
0	0	0	0	0	0	انعدام التملك
	1,5	1	1	1	0,5	دون التملك الأدنى
	3	2	2	2	1	التملك الأدنى
5	4,5	3	3	3	1,5	التملك الأقصى

الاسم :

اللقب :

الجغرافيا - السنة الخامسة -

السند 1 :

خرجت في فسحة في بلاد لا أعرفها في يوم غائم فتهت، واحترت كيف أعود من حيث خرجت وتساءلت :

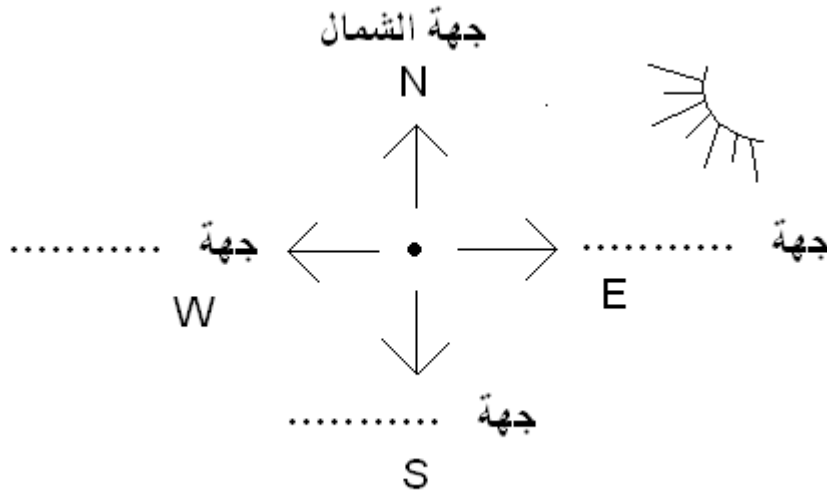
السؤال 1 : أختار أحسن إطار عائلي وأعلّل إجابتي :

مع 1

- لو كان لي ب..... لعرفت الاتجاهات بسهولة ولو كانت السماء صافية لاستدللت على الجهات الأ..... بواسطة

السؤال 2 : أكمل:

مع 1



السؤال 3: أشطب الخطأ:

مع 1

- تقع مدرستي شمال المسجد، فالمسجد يوجد :

* جنوب المدرسة.

* شمال المدرسة.

* غرب المدرسة.

السند 2 :

مع 2

تناولت خريطة العالم و شرعت أبحث عن القارة الإفريقية و أتساءل عن أصغر بلدانها المغربية، وزادني حيرة موقعها الإستراتيجي المطل على البحر، فتدخلت معلوماتي واحترت فرجعت إلى خلاصة درس الجغرافيا فوجدت مايلي:

- تقع البلاد التونسية في الرّصف من الكرة الأرضية، يحدها البحر

..... من جهتي الشّ..... والشّ..... و يحدها القطر الليبي من

.....

طلب منا معلّمنا إعداد بحوث جغرافية حول خصائص المشهد الريفي وعناصره، وحول الأخطار التي تهدّده .
أكمل ما يلي :

* أهم مميزات الرّيف هي: كثرة والتجهيزات الفلاحية منها:
..... و

* و أمّا السكن فهو نوعان: و

- قدّم تصوراتك لتحسين مظهر الرّيف وحمايته من المخاطر التي تهدّده ؟

*
.....
.....

معلمي أونلاين
www.mon-professeur.online

العدد	المعايير				
	مع 4	مع 3	مع 2	مع 1	
من 0 - 0	0	0	0	0	- - -
من 5 - 10					- - +
من 10 - 15					- + +
من 15 - 20					+ + +

السنة الخامسة		
المدة: 45 دقيقة		
العدد 20	المادة : جغرافيا	
الاسم و اللقب :		

السند 1 : المشهد الريفي هو صورة وقتية لمجال هيأه الانسان .

التعليمة 1: ما هي أنواع المشهد الريفي :

-*
-*

التعليمة 2: أين تُفضّل العيش : في الريف أم في المدينة و لماذا ؟

-
-
-

السند 2 : تتمتع البلاد التونسية بشهرة عالمية نظرا لموقعها الاستراتيجي.

التعليمة 1: أحدّد موقع البلاد التونسية بتعمير الفراغات بما يناسب :

- تقع البلاد التونسية شمال قارة افريقيا يحدها من جهتي الشمال و الشرق و تحدها غربا و جنوبا.

السند 3 : تتكوّن الوحدات التضارسية الكبرى من جبال و هضاب و سهول .

التعليمة 1: أكتب صواب أو خطأ داخل الاطار.

- خط الاستواء يقسم الكرة الأرضية الى نصفين متساويين
- توجد هضبة البرازيل في قارة آسيا
- يعتبر جبل طوبقال أعلى قمة في سلسلة جبال الهملايا

مع
4
ع
1

مع
4
ع
2

مع
3

مع
1

التعليمة 2: أواصل تعمير الجدول بما يناسب .

السلسلة الجبلية	القارة	أعلى قمة
سلسلة جبال الأند		
		الجبل الأبيض
	آسيا	

مع 2
مع 2

التعليمة 3: أربط بسهم بين السهل و القارة التي يوجد بها .

مع 2

* قارة أمريكا

*السهول الروسية الأوروبي

* قارة أوروبا

*سهل الصين

* قارة آسيا

*سهل حوض نهر الأمازون

*قارة افريقيا

جدول إسناد الأعداد

معايير الحد الأدنى	معايير التميز					
	مع 4	مع 3	مع 2	مع 2	مع 1	مع 1
إنعدام التملك	0	0	0	0	0	0
دون التملك الأدنى	1	1	1	1	1	1
التملك الأدنى	2	2	2	2	2	2
التملك الأقصى	3	3	3	3	3	3