

المقطع 2:

اِقتنى الصديقان 63 بقرة بحساب 2350 د البقرة الواحدة وتمتعا عند الدفع بتخفيض جملي قدر به 6% من ثمن البيع.  
1/ احسب كلفة هذا المشروع دون اعتبار ثمن شراء قطعة الأرض.

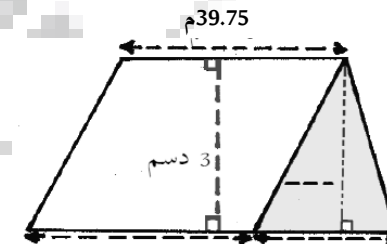
مع	مع
----	----

مع	مع
----	----

مع	مع
----	----

المقطع 3:

قرر الصديقان أن يكون سقف المستودع مرتفعا على الشكل الذي يوضحه الرسم المصاحب. وحتى تتوفر التهوية اللازمة للمكان تركا الجزء الملون مفتوحا.



مع	مع
----	----

مع	مع
----	----

1/ اتمام التصميم واحسب قيس مساحة النافذة الواحدة.

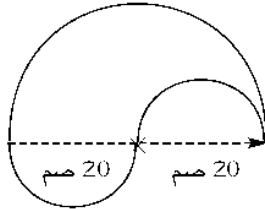
مع	مع
----	----

مع	مع
----	----

مع	مع
----	----

المقطع 4:

كلف الصديقان حدادا بإعداد باب حديدي فأنجز تصميمًا للزخارف التي سيستعملها في الباب وفقا للسلم 1/5.



1/ اتمام هذا الزخرف واحسب قيس طول الحديد اللازم إعداده لكل قطعة..

مع	مع
----	----

مع	مع
----	----

المقطع 5:

عندما جهزت الأبقار للبيع تلقى الصديقان عرضا يحقق لهما ربحا به 23% من ثمن الشراء .

1/ أَحْسِبْ ثَمَنَ بَيْعِ الْأَبْقَارِ بِطَرِيقَتَيْنِ.

مع	مع
----	----

مع	مع
----	----

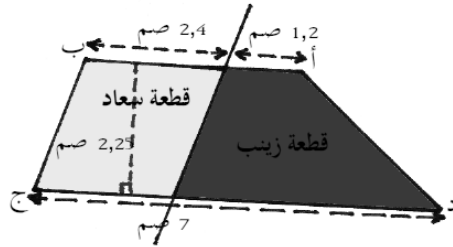
مع	مع
----	----



المعايير	معايير الحد الأدنى					معايير التميز
	1 مع	2 مع	3 مع	4 مع	5 مع	
انعدام التملك (-)	0	0	0	0	0	مع 5
دون التملك الأدنى (+)	1	1	1	1	1	0
التملك الأدنى (++)	2	2	2	2	2	
التملك الأقصى (+++)	3	3	3	3	3	4

الْوَضْعِيَّةُ:

اِقْتَنَى صَدِيقَانِ قِطْعَتَيِ أَرْضٍ مُتَجَاوِرَتَيْنِ مِثْلَمَا يُمَثِّلُهُ  
التَّصْمِيمُ الْمُنْجَزُ حَسَبَ السَّلَمِ  
بِحِسَابِ 5200 د ثَمَنِ  
الْأَرْضِ الْوَاحِدِ .



1/ أَحْسِبْ ثَمَنَ شِرَاءِ قِطْعَةِ الْأَرْضِ.

مع	مع
----	----

مع	مع
----	----

الْمَقْطَعُ 1:

بَنَى الصَّدِيقَانِ عَلَى 20% مِنَ الْمِسَاحَةِ الْجُمْلِيَّةِ مُسْتَوْدَعًا  
لِتَرْبِيَةِ الْأَبْقَارِ الْحُلُوبِ بَلَّغَتْ كُلْفَةُ بِنَائِهِ 2/9 ثَمَنَ شِرَاءِ الْأَرْضِ  
وَحَصَصَا مَا تَبَقَّى مِنَ الْأَرْضِ لِغِرَاسَةِ الْأَعْلَافِ.  
1/ أَحْسِبْ الْمِسَاحَةَ الْمُخَصَّصَةَ لِغِرَاسَةِ الْأَعْلَافِ.

مع	مع
----	----