

المعايير

1 ع □
□ □ □

2 ع □
□ □ □

3 ع □
□ □ □

4 ع □
□ □ □

السند:

استعددا لمباراة مدرسية بين مدرستين متجاورتين كَوْن معلّمكم لجنة أولى من تلاميذ السنة السادسة لإعداد أسئلة المباراة وطلب من المجموعة الثانية الإجابة عنها: أساعد المجموعة الثانية على إنجاز عملها.

التعليمة 1: سطر تحت الأقطار المغاربية:

تونس- مصر - المغرب الأقصى - ليبيا - الجزائر - موريتانيا.

التعليمة 2: أقرأ وأستعين بالمعطيات الصحيحة لأكوّن فقرة:

سلسلة الجبال بالمغرب العربي ،
ينخفض ارتفاعها كلّما اتجهنا شرقا،
ينخفض ارتفاعها كلّما اتجهنا غربا،
هي عامل توازن بين الدول المغاربية،
تمتدّ شرقا وغربا في شكل سلسلتين.

الفقرة:

.....
.....
.....

التعليمة: أصنف المعلومات إلى صحيحة وخاطئة

المرتفعات الجبلية مناخها شبه جاف

الغطاء النباتي للهضاب والمرتفعات الوسطى هو السباسب

يكون المدى الحراري السنوي في المناطق الداخلية مرتفعا.

السهول هي لأكثر أنواع التضاريس انتشارا في المغرب العربي.

توجد في المغرب العربي ثلاثة أقاليم من المناخات.

الجزائر هي أقاليم أقطار المغرب العربي مساحة.

التعليمة 4: تتميز التساقطات في المغرب العربي بعدم الانتظام الفصلي والسنوي بإمكان بلدان المغرب العربي

تجاوز هذه الصعوبات

كيف؟

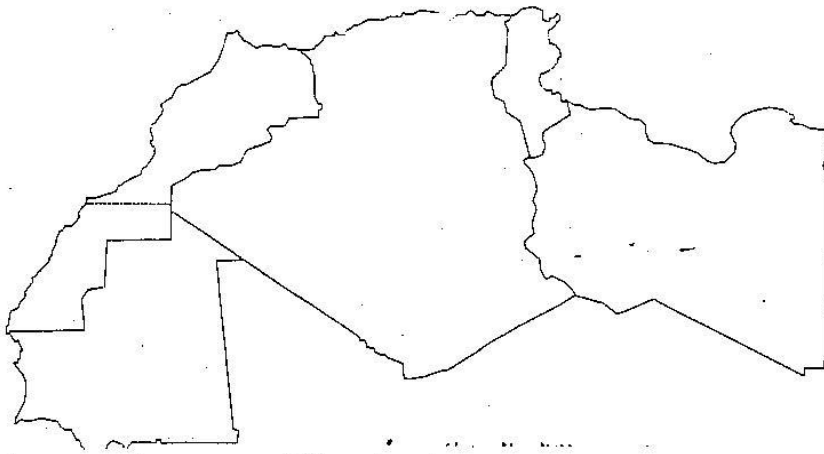
يمكن لهذه البلدان تجاوز ذلك ب.....
.....
.....

جدول المعايير

□ عيار التميز	□ معايير الحصة الأدنى			
	1 ع □	2 ع □	3 ع □	
4 ع □				
0	0	0	0	-
2	1	2	2	+
3	4	3	3	++
5	5	5	5	+++

السنة السادسة	تقديم مكتسبات التلاميذ في نهاية الثلاثي الأول 2010-2009	المدرسة الابتدائية الخاصة "نور المعارف"
العدد 20	المادة : جغرافيا	
الاسم و اللقب :		

السند عدد 1 : طلب منّا المعلم القيام ببحث حول أقطار المغرب العربي. فتحت الموسوعة العلمية المتوقعة لديّ فوجدت الخريطة التالية:



التعليمة عدد 1: أكتب أسماء أقطار المغرب العربي و ألون بلادي.

ل
ل
ل
مع 1

السند عدد 2 :

أثناء إنجاز البحث واجهت بعض الصعوبات في إتمام جدول مدّنا به المعلم. فتوجّهت نحو أخي بما أنّه درس في السنة الفارطة المغرب العربي ليساعدني.
التعليمة عدد 2: أواصل تعميم الجدول التالي:

ل
ل
ل
مع 3

نوع النبات الطبيعي	التضاريس	بعض مكوناته
الغابات
.....	الهفاف
.....	طرفاء

السند عدد 3 :

بعدها اتجهت إلى الحاسوب و دخلت بنك المعلومات.

التعليمة عدد 1: أربط بخط بين المعلومة و تعريفها.

- * أرض منبسطة و مرتفعة جرداء و صخرية
- * أرض منبسطة و مرتفعة بها أودية عميقة
- * أرض منبسطة و مرتفعة مغطات بالرمال
- الصحراوية.
- الهضبة
- الحمادة
- العرق

السند عدد 4 :

بعد تجميع المعلومات و توثيقها قدّمت مشروعي إلى المعلم حتّى يبدي رأيه، فشكرني و اقترح عليّ تمريناً إضافياً ليختبر مدى إلمامي بما جاء في البحث.

التعليمة عدد 1: أصلح الخطأ إن وجد بإعادة كتابة الجملة صحيحة.

* ينخفض ارتفاع الجبال كلما انتقلنا من الغرب إلى الشرق.

* السهول هي أكثر أنواع التضاريس انتشاراً في المغرب العربي.

* توجد المناطق ذات الكثافة السكانية المرتفعة في الجنوب.

التعليمة عدد 2:

حسب رأيك ماهي عوامل توزع السكان الجغرافي بالمغرب العربي.

السنة الدراسية: 2021/2020

المعلمة: مه

طلبة

التوقيت: 60دق

القسم: سنة خامسة أ

تقييم مكتسبات التلاميذ في نهاية
الثلاثي الأول

المادة: الجغرافيا

وزارة التربية

20

الاسم: اللقب: الرقم:

السند عدد 1: زار محمود معرض الكتاب مع والديه فأعجب بموسوعة تتحدث عن التضاريس الكبرى فتصفحها ثم قال: "أريد أن أشتري هذا الكتاب!" أريد أن أعرف كل شيء عن كوكب الأرض.

التعليمة 1-1-: ربط بسهم:

- | | | |
|---|---|----------|
| * منطقة جافة غالبا ما تكون خالية من النباتات ما عدا الواحات. | * | السَّهْل |
| * أرض منبسطة أوديتها غير عميقة وهي قليلة الارتفاع. | * | الجبَل |
| * أرض تعلوها قمة تنتهي بجانبين شديدي الانحدار. | * | الوادي |
| * منخفض من الأرض يشكّل عادة مجرى المياه السائلة على وجه الأرض | * | الصحراء |

التعليمة 1-2-: أكمل الفراغات للحصول على فقرة حول كوكب الأرض:

يغلب على الكرة الأرضية اللون الذي يشير إلى وهي

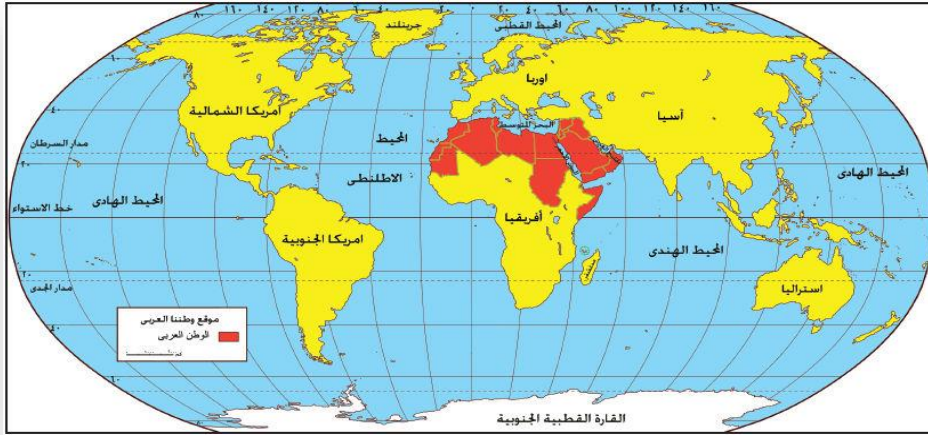
.....

.....

أما الباقي فيشير إلى وهي

.....

التعليمة-1-2-: أتمل الخريطة وأضع علامة (x) أمام الإفادة الصحيحة:



← تقع البلاد التونسية:

✓ شمال خط الاستواء

✓ جنوب خط الاستواء

✓ في النصف الشمالي للكرة الأرضية.

✓ في النصف الجنوبي من الكرة الأرضية.

السند عدد2: واصل محمود استكشافه لمحتويات الكتاب فتعرّف على معطيات حول المجال الطبيعي.

أساعده على مزيد فهم خاصيات هذه الأوساط ومميزاتها.

التعليمة-1-2-: أكتب صواب أو خطأ أمام الإفادات التالية:

← يتميز المشهد الريفي بالمجال الطبيعي بـ:

✓ امتداد الزراعات البعلية.

✓ امتداد الزراعات السقوية.

✓ انتشار مكثف للمنازل المتلاصقة .

← يتكوّن المشهد الزراعي في المجال الريفي من:

✓ الطرقات المعبّدة.

✓ البساتين.

✓ الموانئ.

✓ مياه الآبار.

مع2

--	--	--	--

مع3

--	--	--	--

مع2

--	--	--	--

التعليمة-2-2-: أصلح الخطأ:

أهمّ الزراعات المميّزة للمشهد الريفيّ :

* الأشجار المثمرة والتي تعتمد أساسا على مياه الأمطار.

مع3

* الزراعات البعلية والتي نقصد بها الزراعات المتواجدة بالبساتين.

|||

* الزراعات السقيّية مثل القمح والشعير.


السند عدد3: أقدم تلخيصا لا يتجاوز الخمسة أسطر حول أهمّ عناصر وأنواع المشهد الريفيّ المحليّ؟

مع4

|||

جدول إسناد الأعداد

معيّار التميّز	معايير الحد الأدنى			
مع4	مع3	مع2	مع1	
	0	0	0	انعدام التملك (---)
	1.5/1/0.5	/1/0.5	1/0.5	دون التملك (--+)
	2	2.5/2/1.5	3.5/3/2.5/2/1.5 5.5/5/4.5/4/	التملك الأدنى (-++)
5	3/2.5	4/3.5/3	8/7.5/7/6.5/6	التملك الأقصى (+++)



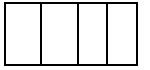
تَقْيِيمُ مُكْتَسَبَاتِ التَّلَامِيذِ بِدَايَةِ السَّنَةِ الدَّرَاسِيَّةِ



جغرافيا

الاسم و اللقب:

السَّندُ: هُدى و عُفْرانُ مُولَعَتانِ بِدُرُوسِ الجُغرافِيا، بَسَطَتا يَوْمًا خَرِيطَةَ العَالَمِ وَ مَجْمُوعَةً مِنَ الوُثائِقِ الجُغرافيَّةِ وَ جَعَلَت إِحْداهُما تَسْأَلُ فَتُجِيبُ الأُخْرى.

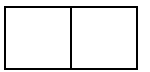


معاً

- (1) أَلَوْنُ بِالْأَخْضَرِ قَارَّةَ إِفْرِيقِيَا وَ بِالْأَحْمَرِ قَارَّةَ أُفْيَاثُوسِيَا (أُسْتَرَالِيَا).
- (2) سَمَّيْتُ لَكَ المَحِيطَ الهِنْدِيَّ، سَمِّي لِي المَحِيطَ الأَطْلَسِيَّ عَلَى الخَرِيطَةِ.
- (3) بَيَّنْتُ لَكَ مَوْقِعَ فَرَنْسَا فَارْسُمِي نُقْطَةً بِقَلَمِ الرِّصَاصِ عَلَى الخَرِيطَةِ تُبَيِّنُ مَوْقِعَ تُونِسَ.

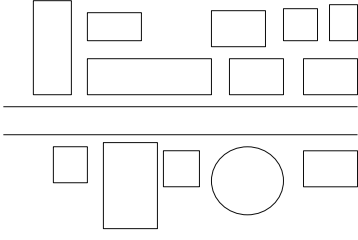
(4) بَيَّنِّي الآنَ بِنُقْطَةٍ بِالْقَلَمِ الْأَخْضَرِ أَوْ قَلَمِ الرِّصَاصِ مَوْقِعَ مَدِينَةِ تُونِسَ عَلَى الخَرِيطَةِ.

(5) تَنَاوَلِي قَلَمَ التَّلَوِينِ الْأَزْرَقِ وَ لَوْنِي بِخَطِّ ثَخِينِ الشَّرِيطِ السَّاحِلِيَّ لِلْبِلَادِ التُّونِسِيَّةِ.



معاً

(5) ضعي علامة أمام نوع التصميم الذي اتخذته مدينته تونس.



--	--	--

مع 1

تصميم خطي

تصميم شطرنجي

تصميم شعاعي

(6) هذه أسماء مدين ثونسية أخرى، اربطي بسهم المدينة بالنشاط الذي يميزها.

النشاط السياحي

تونس

النشاط الصناعي

الحمامات

النشاط السياسي

صفاقس

--	--	--

مع 2 ب

(7) اذكرني ثلاثة مرافق توفرها لنا المدينة.

البنوك

--	--	--

مع 3

(8) نسينا الريف، ضعي علامة أسفل كل منتج أو خدمة يوفرها الريف للمدينة.



المنتجات الفلاحية الأغذية المصنعة التجهيزات الفلاحية اليد العاملة الرعاية الصحية التكنولوجيا الحديثة

--	--	--

مع 2 ج

(9) سم غراسة أو زراعة تنتشر بالشمال، الوسط ثم الجنوب التونسي.

الجنوب

الوسط

الشمال

--	--	--

مع 3

(10) حقل جارنا متواضع الانتاج. قدمي له ثلاث نصائح لتحسين إنتاجه.

○

○

○

--	--	--

مع 4 ع 1

(12) ما رأيك في النشاط الفلاحي في البلدان المتقدمة؟

--	--

مع 4 ع 1

جدول إسناد الأعداد

معايير التميز		معايير الحد الأدنى								مستويات التملك
العتبة 1	العتبة 2	مع3 أ	مع2 ج	مع2 ب	مع2 أ	مع1	مع3 ب	مع3 أ	مع3 ج	
		0	0	0	0	0	0	0	0	انعدام التملك - - -
		0,5	0,5	1	0,5	1	1	0,5	1	دون التملك الأدنى + - -
		1	1	2	1,5	2	2	1,5	2	التملك الأدنى + + -
2	3	1,5	1,5	3	5,2	3	3	2,5	3	التملك الأقصى + + +

معايير التقييم و مؤشراتها

المعيار	نص المعيار	بعض مؤشرات
1	فهم الوضعية	انتقاء المعطيات الدالة تحديد مدلول المعطيات ترتيب المعطيات انطلاقاً من مؤشر معين كشف المعطيات الدخيلة اختيار الوسائل المناسبة لحلّ الوضعية
2	تحليل الوضعية	تصنيف المعلومات مقارنة المعلومات تحويل المكتوب إلى الرسم أو الجدول أو الخطاطة و العكس ربط المعطيات بعضها ببعض صياغة فرضيات توجّه لحلّ الوضعية
3	إنجاز الوضعية	تأويل بيانات تحرير إجابة تأليف خلاصة توخي الموضوعية في الإجابة التقيّد بالتعليمية في الإجابة
4	الإضافة الذاتية	التعبير عن الرأي اتخاذ موقف تقديم تصوّرات لتحسين وضع