

# تَقْيِيمُ مُكْتَسَبَاتِ التَّلَامِيذِ بِدَايَةِ السَّنَةِ الدَّرَاسِيَّةِ




تاريخ

الاسم و اللقب: .....

## السَّنَةُ الْأُولَى:

عَلَى مَرِّ الْعُصُورِ تَعَاقَبَتْ عَلَى ثُونَسٍ عَدِيدُ الْحَضَارَاتِ، عَدَدَهَا الْمُؤَرِّخُونَ وَ اكْتَشَفُوهَا اعْتِمَادًا عَلَى الْوُثَائِقِ التَّارِيخِيَّةِ الَّتِي وَصَلَتْ إِلَيْهَا أَيْدِيهِمْ.

(1) أَصْنَفُ الْوُثَائِقِ التَّارِيخِيَّةِ الْآتِيَةِ فِي الْجَدُولِ أَسْفَلَهَا.



أَقْرَاصُ لَيْزَرِيَّةٌ



جِرَارٌ



تِمْتَالُ نُصْفِي



مَحْطُوطَةٌ

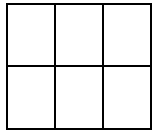


رُسُومٌ جِدَارِيَّةٌ



أَدَوَاتٌ حَجَرِيَّةٌ

وُثَائِقُ تَارِيخِيَّةٌ مَكْتُوبَةٌ	وُثَائِقُ تَارِيخِيَّةٌ صَامِتَةٌ
.....	.....



مع 2 أ


(2) أُرْتَبُ الْحَضَارَاتِ التَّالِيَةِ، حَسَبَ تَارِيخِ ظُهُورِهَا فِي بِلَادِنَا، عَلَى السُّلَمِ الزَّمَنِيِّ: تَأْسِيسُ الدَّوْلَةِ الْفَاطِمِيَّةِ، ظُهُورُ الْحَضَارَةِ الْقُبْصِيَّةِ، تَأْسِيسُ الدَّوْلَةِ الْأَعْلَبِيَّةِ.

7000 ق.م 3000 ق.م 622 م 50 هـ 148 هـ 296 هـ 634 هـ



مع 1

(3) أَتَمِّمْ بِمَا يَلِي: ظُهُورُ الْكِتَابَةِ، عُصُورٌ مَا قَبْلَ التَّارِيخِ، الْعُصُورِ التَّارِيخِيَّةِ. نَقْسِمُ الزَّمَنَ التَّارِيخِيَّ إِلَى ..... ثُمَّ ..... يَقْصِلُ بَيْنَ الْعَصْرَيْنِ .....



مع 2 ب

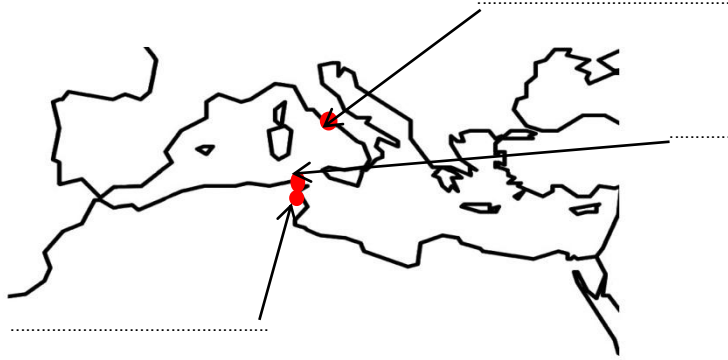
(4) عَمِّرِ الْجَدُولَ التَّالِيَ بِمَا يُنَاسِبُ كُلَّ شَخْصِيَّةٍ ذَكَرْتُ فِيهِ (صِفَةً لِكُلِّ شَخْصِيَّةٍ).

عُقْبَةُ بْنُ نَافِعٍ	مُحَمَّدٌ عَلَيْهِ السَّلَامُ	حَبَّيْبُ	الشَّخْصِيَّةُ
.....	.....	.....	الصِّفَةُ

--	--	--

مع 3 أ

(5) أَكْتُبْ اسْمَ كُلِّ مَدِينَةٍ مِنَ الْمُدُنِ التَّالِيَةِ فِي مَوْضِعِهِ عَلَى الْخَرِيطَةِ: قَرْطَاجُ، رُومَا، الْقَيْرَوَانُ.



--	--	--

مع 3 ب

(6) أَكْتُبْ اسْمَ الشَّخْصِيَّةِ الَّتِي أُنْجِزَتْ كُلُّ عَمَلٍ مِنَ الْأَعْمَالِ التَّالِيَةِ:

- ..... - جَاءَ بِالْإِسْلَامِ
- ..... - أَسَّسَ الْقَيْرَوَانَ
- ..... - أَسَّسَ الدَّوْلَةَ الْأَعْلِيَّةَ

--	--	--

مع 3 ج

(7) أَرْبِطْ بَيْنَ الْمَعْلَمِ التَّارِيخِيِّ وَالدَّوْلَةِ الَّتِي بُنِيَ فِي عَهْدِهَا.



الدَّوْلَةُ الْفَاطِمِيَّةُ  
الدَّوْلَةُ الْأَعْلِيَّةُ  
الدَّوْلَةُ الْحَفْصِيَّةُ

رَقَّادَةُ (1)

السَّقِيفَةُ الْكَحْلَاءُ (3)

جَامِعُ الزَّيْتُونَةِ (2)

--	--	--

مع 2 ج

(8) مَا رَأَيْكَ فِي تَارِيخِ تُونِسَ عَلَى مَرِّ الْعُصُورِ؟

--	--	--

مع 4 ع 1

(9) هَلْ تُوَافِقُ عَلَى بَيْعِ آثَارِ بِلَادِكَ لِتَنْمِيَةِ الْإِقْتِصَادِ؟ لِمَذَا؟

--	--	--

مع 4 ع 2

## جدول إسناد الأعداد

معايير التميز		معايير الحد الأدنى							مستويات التملك
العتبة 1	العتبة 2	مع 3 ج	مع 3 ب	مع 3 أ	مع 2 ج	مع 2 ب	مع 2 أ		
		0	0	0	0	0	0		انعدام التملك - - -
		0,5	0,5	0,5	0,5	1	1	0,5	دون التملك الأدنى + - -
		1	1	1	1	2	2	1,5	التملك الأدنى + + -
2,5	2,5	1,5	1,5	1,5	1,5	3	3	2,5	التملك الأقصى + + +

## الملاحظات

المعلم الأول خالد عكري  
المدرسة الابتدائية الدهيسة- جلمة