

القسم:

الإسم و اللقب:

① بمناسبة عيد ميلاد أختي خرج الأبطال إلى  
المغازة لشراء القديّة

البضائع	الكمية
خاتم	د. 24
عقد	د. 84
خزف	د. 45

اتفق الأبطال على شراء الخاتم والخزف  
إنجبت عني التمني

دعم

دعم

② بعد شراء القديّة بقي للأبطال مبلغ ماليّة

أنجبت عني قيميّة بقي لي من 56 مبي. بقي لي من 84 مبي  
القطع التي بقيت لأحمد أحبط القسح التي تميل

دعم

دعم



③ اَمْتَدْعِي الْأَطْفَالَ بَعْضَ الْأَصْدِقَاءِ وَالْأَقْرَابِ  
فَقَدِمَ 16 امْرَأَةً وَ 10 بَنَاتًا وَ 23 وَلَدًا  
مَا هُوَ عَدَدُ الصُّيُوفِ ؟

معا

ل

④ أَرَتَّبِ أَعْدَادَ الْحَمَلِيَّةِ تَصَاعِدِيًّا


معا

ل

⑤ قَدِمَ الْأَبُ بَاقِيَةً جَمِيلَةً مِنَ الْأَزْهَارِ  
أَجْمَعَ حَجْمُوعَةَ الْأَزْهَارِ وَأَعْمَرُ الْجَدُولِ

معا

ل



ع	ا

⑥ قَدِمَ الصُّيُوفُ الْهَدَايَا فَكَانَتْ 25 قَارُورَةُ عِطْرِ  
و 11 طَائِرًا بِهِ صُورٌ جَمِيلَةٌ وَ 10 زَهْرَاتٍ  
أَحِيطِ السُّؤَالَ الْمُنَاسِبَ

معا

ل

\* مَا هُوَ عَدَدُ الْهَدَايَا ؟

\* مَا هُوَ عَدَدُ الْأَزْهَارِ ؟

⑦ أَجِبْ عَنِ السُّؤَالِ السَّابِقِ

درجہ 4

□

⑧ بَعْدَ انْتِهَاءِ الْحِفْلِ دَخَلَ الْأَطْفَالُ غُرْفَتَهُمْ

درجہ 4

□

□

□

38

90

30 + 46


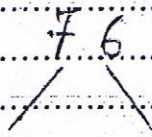
40 + 26

74 + 47

⑨ أَفَرِّكَ بِأَسَدِمَالِ شَجَرَةِ الْحِسَابِ

درجہ 4

□



جدول باسناد الأعداد

درجہ 0	درجہ 1	درجہ 2	درجہ 3	انعدام التماثل
0	0	0	0	دون التماثل الأعداد
2	1	3 / 2 / 1	5 / 4	التماثل الأدنى
3	2	6		التماثل الأعلى
5	3	9 / 8 / 7		

$76 + 47 = 123$

موقع معلمي أونلاين