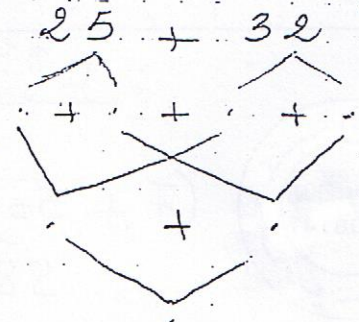


تَعَدَّ نِهَآيَةَ الْعَامِ الْجَرَّاسِي زَارَ الْأَطْفَالُ طَبِيعَةً جَدِّهِمْ
فَسَاطَعُوا 32 دَحَاةً وَ 25 بَهَّةً
① فَحُسِبَ عَدَدُ الطُّيُورِ

$$\begin{array}{r} + \\ \hline = \end{array}$$

② أَكْتُبُ الْعَدَدَ النَّاقِصَ



طَلَبَتْ الْجَدَّةُ مِنْ أَحْفَادِهَا أَنْ يَجْمَعُوا الْبَيْضَ
جَمَعَ سَامِي 31 بَيْضَةً وَسَلَمَى 14 بَيْضَةً وَخَلِيلٌ 19 بَيْضَةً
③ مَا هُوَ عَدَدُ الْبَيْضِ

$$\begin{array}{r} + \\ + \\ \hline = \end{array}$$

④ أَزَيِّبُ أَعْدَادَ الْعَمَلِيَّةِ تَنَازُلِيًّا









أَخَذَ الْأَطْفَالُ الْبَيْضَ لِيَبْعُوهُ. تَعَنَّى الْبَيْضَةَ 85 هِي

⑤ أَتَمِّمُ بِمَا يَنَاسِبُ

$$+ \cdot = 85 \quad + 25 = 85 \quad + 50 = 85$$

٦) أَتَخَيَّرُ الْحَدَّ لَكِنَّ لِي قَلِيلٌ مِمَّا نِلَيْتُ . مكتبة الخدمات

امام جامع التوبة بالمنستير

| سأحي | تسلمي | خيل |
|---|------------------------------------|---|
|      | |    |
| أَحْسَبُ الْقَتْلَ الْبَالِي | أَحْسَبُ الْقَتْلَ بِأَقَلِّ عَدِي | أَكْعِلُ الْقِطْعَ |
| مي | معي 63 | الناقصة 98 |

٧) فَجَّ الْخَلَامَةَ < = > كَانَ النُّقْطَةُ



57 . 63
98 . 85
57 . 98
63 . 98

تَعْبُدُ سَلَمِي 63 هِيَ تُرِيدُ شِرَاءَ قِطْعَةٍ خَلَوِي
فَصَلَا 75 هِيَ

٨) قُلْ تَسْتَطِيعُ شِرَاءَ مَا؟

لَآنَ

زَادَ مَا أَحْوَهَا خَلِيلٌ 20 هِيَ

٩) كَمْ أَصْبَحَ عِنْدَهَا؟

+

مكتبة الخدمات

امام جامع التوبة بالمنستير

اكتب العدد المناسب

| | |
|---|----|
| . | 82 |
|---|----|



| | | |
|---|----|---|
| . | 70 | . |
|---|----|---|



| | |
|---|---|
| 3 | . |
|---|---|



أكمل

$$20 + . = 25$$

$$. + 60 = 63$$

$$. + 30 = 32$$

$$7 + . = 47$$

اكتب العدد المناسب

| | |
|---|----|
| . | 82 |
|---|----|



| | | |
|---|----|---|
| . | 70 | . |
|---|----|---|



| | |
|----|---|
| 34 | . |
|----|---|



أكمل

$$20 + . = 25$$

$$. + 60 = 63$$

$$. + 30 = 32$$

$$7 + . = 47$$



اكتب العدد المناسب

| | |
|--|----|
| | 82 |
|--|----|



| | | |
|--|----|--|
| | 70 | |
|--|----|--|



| | |
|----|--|
| 34 | |
|----|--|



أكمل

$$20 + . = 25$$

$$. + 60 = 63$$

$$. + 30 = 32$$

$$7 + . = 47$$

مكتبة الخدمات

امام جامع التوبة بالمنستير

موقع معلمي أونلاين