

السند 1— عدد :

بينما كان خليل في الحقل يبحث عن أبيه ، إذ رأى العديد من الحيوانات تتنقل فقال : "ما الذي جعلها تتنقل بطرق مختلفة ؟ "  
التعليمة 1 : أربط كل حيوان بطريقة تنقله:



تسبح



مع 1

تطير



تمشي



مع 1

تقفز




تزحف



مع 2

التعليمة 2 : ألون الأعضاء المستعملة في عملية التنقل :



السند 2— عدد :

التقى خليل بأبيه فوجده يطارد أرنباً صغيراً لكنّ الأرنب فرّ هارباً و دخل إلى الجحر .  
التعليمة 1 : أكتب صحيح أو خطأ  
يتنقل الأرنب قفزاً،

.....	لأنّ قائمتيه الأماميتين طويلتان.
.....	لأنّ قائمتيه الخلفيتين طويلتان.

التعليمة 2 : أشطب الخطأ

مع 3

بسرعة

ببطء

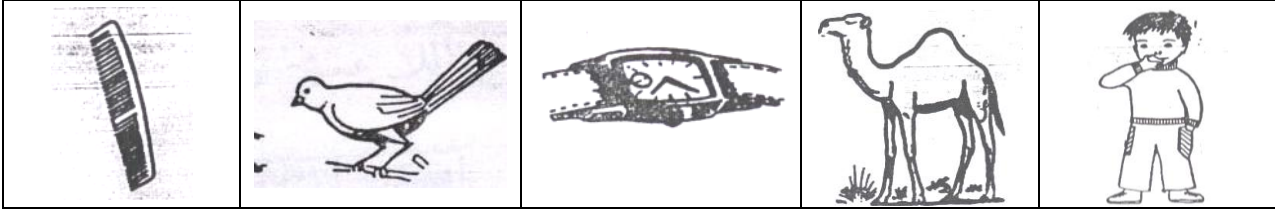
عندما فرّ الأرنب هارباً كان يتنفس :

السند ع 3 دد :

قال خليل لأبيه : "كل الكائنات الحيّة تتنفس".

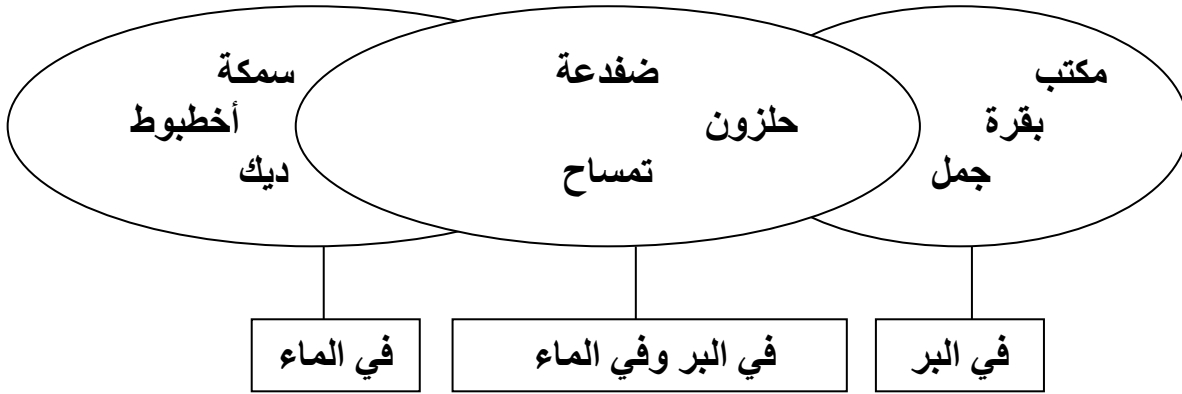
التعليمة 1 : ألون كل كائن حيّ يتنفس

مع 2



التعليمة 2 : أشطب الخطأ:

مع 3




السند ع 4 دد :

وقف خليل في الحقل يراقب العمّال و هم يعملون .

التعليمة 1 : أربط اللافتة بما يناسب

مع 1



جذب

دفع

التعليمة 2 : أكتب : يدفع - يجذب

مع 3

ها هو الأب ..... تفاحة من الشجرة ، و بجانبه خليل .....كرة .

السند 5 عدد :

لمح خليل أحد الفلاحين يضع عصفورا داخل صندوق و أغلقه .فقال له : "سيموت العصفور".  
التعليمة : أضع العلامة ( × ) أمام الإفادة الصحيحة :

مع 2

✓ الظلام

✓ الهواء : العصفور يحتاج إلى :

✓ التراب

### جدول إسناد الأعداد



معايير الحد الأدنى	معايير التميز		➡
	معايير 1	معايير 2	
معايير 3	0	0	-
1.5	2.5	2.5	+--
1.5	5	5	++-
2	7.5	7.5	+++