

السنة السادسة	تقييم مكتسبات التلاميذ في نهاية الثلاثي الثالث	
العدد 20	المادة : التاريخ	
الاسم و اللقب :		

السند 1: قرأت لأبي مقالا في جريدة تونسية وهو كالآتي "إحياء لذكرى حوادث 9 أفريل 1938 وتقديرا لنضال الشهداء الذين ضحّوا بحياتهم في سبيل استقلال الوطن و سيادته أشرف رئيس الجمهورية أمس بروضه الشهداء بالسيحومي على موكب خاشع تخليدا لهذه الذكرى الوطنية المجيدة" توقفت هنيهة ثم قلت : "لم أفهم الكثير ممّا قرأت يا أبتى هل كان وطننا محتلا ؟" فأجاب قائلا ...

التعليمة 1-1: أعمر فراغات الفقرة بما يناسب من الكلمات التالية :

علي باي - باردو- محمد الصادق باي

"فرضت فرنسا على البلاد التونسية نظام الحماية بمقتضى معاهدة

12 ماي 1881 التي أمضاها"

ثم اتفاقية المرسى التي فرضت على و قد لقي الاحتلال مقاومة

شديدة من التونسيين منذ دخوله الى أراضينا "

السند 2 : واصل أبي قائلا : " إن مسيرة النضال كانت طويلة و شاقة .استعملت في

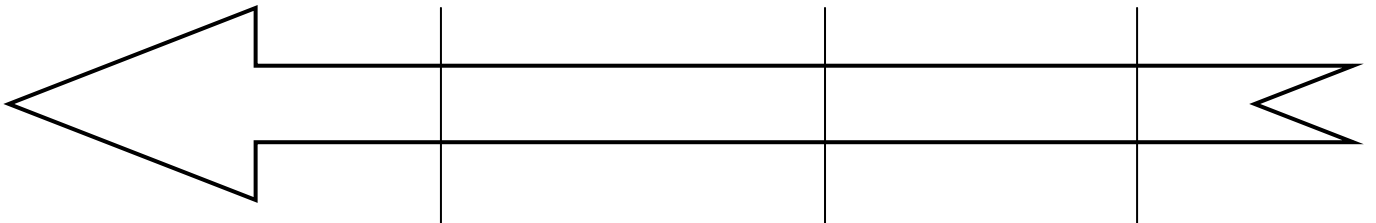
بدايتها الطرق السلمية خاصة مع حركة الشباب التونسي و الحزب الحر الدستوري التونسي

التعليمة 1-2: أرّتب هذه الأحداث على السلم الزمني :

▪ تأسيس حركة الشباب التونسي

▪ حادثة الترامواي

▪ حادثة الزلاّج



.....
.....

مع 2 أ

مع 1 أ

التعليمة 2-2: أصل الخطأ

أسس حركة الشباب التونسي الحبيب بورقيبة وأصدرت مطالبها في جريدة "العمل التونسي" المتمثلة في حرية التعبير.

مع 3 أ

التعليمة 3-2: كان الحزب الحرّ الدستوري التونسي أول حزب سياسي في البلاد اعتمد

على سياسة الوفود لتقديم مطالبه.

- اذكر له ثلاث مطالب :

- ①
- ②
- ③

مع 2 ب

السند 3 : غاب عن أبي بعض الأحداث فاستجد بكتاب "تاريخ تونس" وقرأ لي هذا النص




"...على إثر خلاف حدث بين قادة الحزب الأولين وجماعة «العمل التونسي» الذين دخلوا اللجنة التنفيذية إثر مؤتمر سنة 1933 انعقد مؤتمر ببلدة قصر هلال في 2 مارس 1934 حضره نواب عن سائر شعب الحزب...".
الحبيب ثامن، هذه تونس، ص 150.

التعليمة 3-1 : اقرأ النص و أضع علامة (x) أمام الافادة الصحيحة

- ☐ - تم قبول جماعة العمل التونسي في اللجنة التنفيذية للحزب في مؤتمر قصر هلال
- ☐ - نشب الخلاف بين أعضاء اللجنة التنفيذية للحزب الحر الدستوري التونسي و جماعة العمل التونسي في مؤتمر قصر هلال
- ☐ - تأسس الحزب الحر الدستوري الجديد في مؤتمر قصر هلال

مع 1 ب

التعليمة 2-3: هذه الصور برزت في الكتاب لأعضاء الديوان السياسي للحزب
- اذكر اسم كل شخصية

		
.....

مع 2 ج

التعليمة 3-3 : ساهم الحزب الدستوري الجديد في النضال الوطني خاصة في مظاهرات
9 أفريل 1938

- أحرر فقرة أبين فيها نتائج أحداث 9 أفريل 1938

.....

.....

.....

.....

مع 3

السند 4 : لخص لي أبي الأحداث المتتالية والتي أفضت الى تأسيس دولتنا الوطنية قائلا :
"ساهم تكتل القوى الوطنية التونسية في اندلاع الكفاح المسلح للمطالبة بالاستقلال. رهان
الاستقلال لم يكن الرّهان الوحيد لمناضلينا بل كان الهدف الحقيقي هو بناء الدّولة واستكمال
السيادة وتحديث المجتمع.

التعليمة 1-4 : أربط كل حدث بتاريخه

- | | |
|--|------------------|
| - منح تونس استقلالها الداخلي | - 20 مارس 1956 |
| - منح تونس استقلالها الخارجي | - 31 جويلية 1954 |
| - بداية الكفاح المسلح ضد الاستعمار الفرنسي | - 16 ديسمبر 1951 |

مع 2 د

التعليمة 4-2: أكتب كل إجراء من الإجراءات التالية في الخانة المناسبة من الجدول

تحرير المرأة - الجلاء الزراعي - تركيز النظام الجمهوري - الجلاء
العسكري - تونسنة المؤسسات - اصدار الدستور - تطوير التعليم

مع 2 هـ

بناء الدولة الوطنية	استكمال السيادة	تحديث المجتمع
.....
.....
.....

التعليمة 4-3 : في إطار تحديث المجتمع التونسي وبناء الدولة، اهتمت الدولة بالتعليم كما فعلت الحركات المناضلة منذ الاحتلال.

- حسب رأيك لماذا أصرّ التونسيون على إجباريّة التعليم العام بعد الاستقلال وحتىّ قبله.

.....

.....

.....

.....

.....

مع 4

مع 1 أ	مع 1 ب	مع 2 أ	مع 2 ب	مع 2 ج	مع 2 د	مع 2 هـ	مع 3 أ	مع 3 ب	مع 4	
0	0	0	0	0	0	0	0	0	0	انعدام التملك
0,5	0,5	0,5	0,5	0,5	0,5	0,5	0,5	1	2	دون التملك الأدنى
1	1	1	1	1	1	1	1	2	3	التملك الأدنى
1,5	1,5	1,5	1,5	1,5	1,5	1,5	1,5	3	5	التملك الأقصى