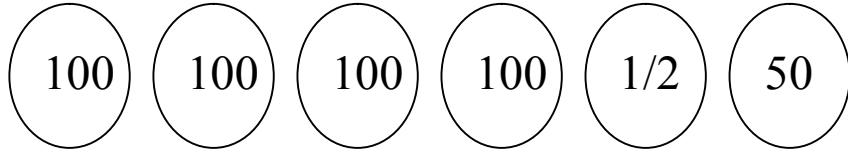


الاسم..... اللقب.....

السند 1 :

توجه رامي و ريم و فاطمة الى محل لبيع المرطبات
هذه نقود رامي



أساعد رامي على عد نقوده

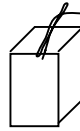
3مع

السند 2 :

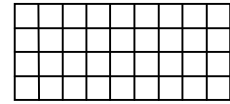
قرر رامي شراء بضاعتين من بين البضائع التالية :



مثلجات
900 مي



عصير
375 مي



شكلاطة
445 مي

ابحث عن ثمن البضاعتين اللتين يمكن لرامي شراؤهما

1مع

كم يبقى له ؟

2مع

السند 3 :

تملك ريم 990 مي

امثل نقود ريم باقل عدد ممكن من النقود

3مع

قررت ريم شراء بضاعتين من بين البضائع التالية :

حليب معطر
450 مي

عصير
350 مي

مثلجات
750 مي

ابحث عن الثمن الذي ستدفعه ريم

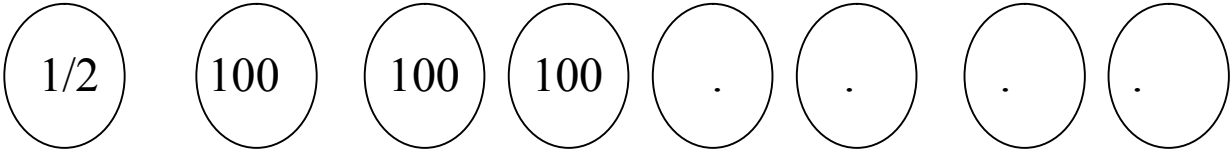
1مع

مع 2

كم بقي لـها ؟

السند 4 :

تملك فاطمة 975 مي



مع 3

اكمل تمثيل هذا المبلغ

شرت فاطمة علبة بسكويت ب 540 مي

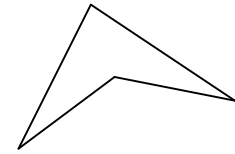
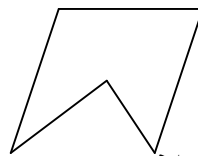
كم بقي لـها ؟

مع 1

مع 2

السند 5 :

وجدت فاطمة الاشكال التالية مرسومة على علبة البسكويت



مع 4

اضع علامة على الشكل الذي له 4 اضلاع

ارسم شكلا له 3 اضلاع

مع 4

اكمل رسم الشكل التالي ليصبح ذا 5 اضلاع



مع 4

السند 6 :

جمع الاطفال ما تبقى لهم من نقود و ارادوا شراء لعبة ب 850 مي

اضع علامة امام السؤال المناسب للوضعية و اجيب عنه

مع 5

مع 5	مع 4	مع 3	مع 2	مع 1	
0	0	0	0	0	---
0	2	1	1.5	1.5	+--
2	2	2	3	3	++-
5	3	3	4.5	4.5	+++

☐
☐
☐

كم بقي لـه

ما هو ثمن اللعبة

كم ينقصهم لشراء اللعبة

الجواب

.....
