

السند عدد 1

وَصَلَ الْأَطْفَالُ الثَّلَاثَةُ (مَجْدِي وَ دُرَّةُ وَ إِشْرَاقُ) إِلَى الْمَعْرِضِ وَ بَعْدَ تَفْحُصِ الْمَعْرُوضَاتِ قَرَرُوا شِرَاءَ مَا يَلِي:

مُشْتَرِيَاتُ مَجْدِي	مُشْتَرِيَاتُ دُرَّة	مُشْتَرِيَاتُ إِشْرَاق
* 4 قِصَصِ ثَمَنُ الْوَاحِدَةِ 985 مي.	* 3 خَرَائِطُ بِـ 1985 مي	* 5 بُحُوثُ لِلإِقَاطِ الْعِلْمِي
* كِتَابٌ عِلْمِيٌّ بِـ 3740 مي.	* صُورُ حَيَوَانَاتٍ بِـ 1625 مي.	بـ 375 مي الْبَحْثُ الْوَاحِدُ
		* لُعْبَةُ الْأَلْوَانِ بِـ 2195 مي.

التَّعْلِيمَةُ :

① أَبْحَثْ عَنْ ثَمَنِ مُشْتَرِيَاتِ مَجْدِي:

.....

② أَبْحَثْ عَنْ ثَمَنِ مُشْتَرِيَاتِ دُرَّة:

.....

③ أَبْحَثْ عَنْ ثَمَنِ مُشْتَرِيَاتِ إِشْرَاق:

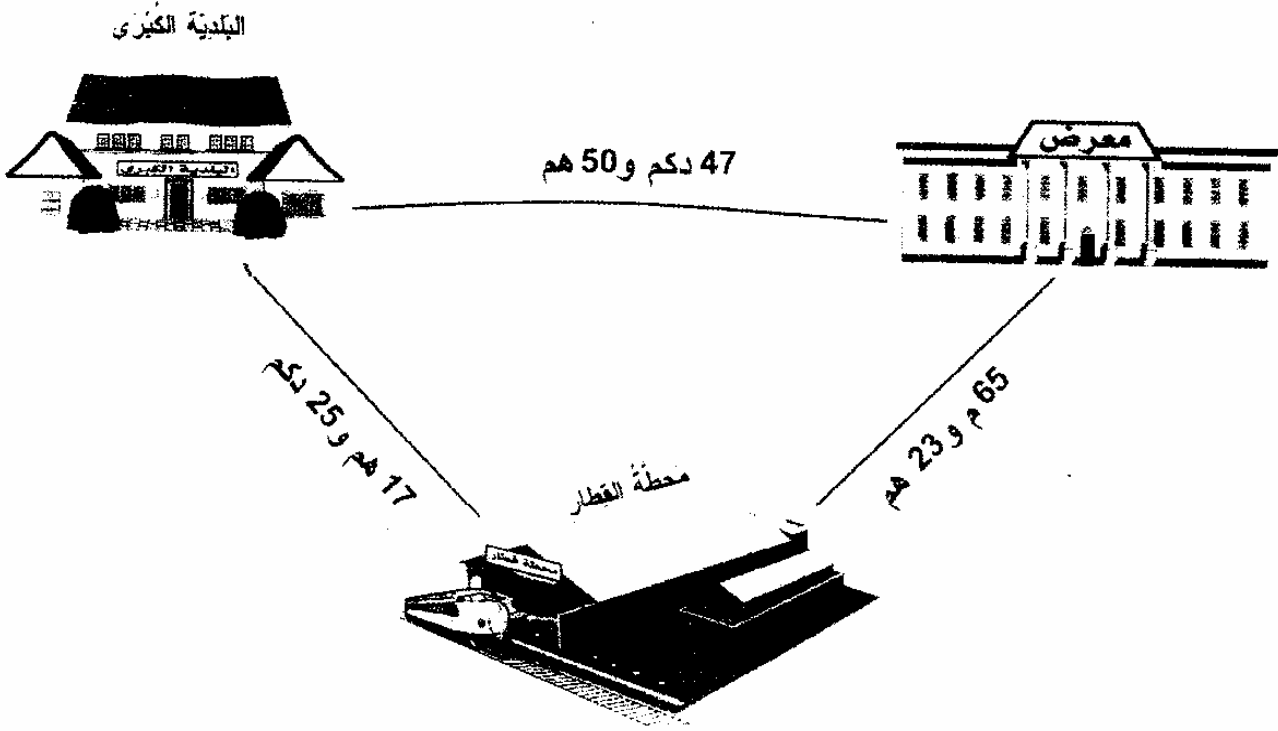
.....

4 أُنْحِثُ عَنِ الْمَبْلَغِ الْمُتَبَقِّي لِكُلِّ طِفْلٍ إِذَا كَانَ كُلُّ وَاحِدٍ مِنْهُمْ يَمْلِكُ 7900 مِي

5 أَرَادَ الْأَطْفَالُ شِرَاءَ لَعْبَةٍ بِـ 4350 بِالْمَبْلَغِ الْمُتَبَقِّي لَهُمْ
أَطْرَحْ سَوْالًا مَنَاسِبًا لِهَذِهِ الْوَضْعِيَّةِ وَ أَجِيبْ عَنْهُ.

السُّدَدُ عِشْرُونَ

رَكِبَ الْأَطْفَالُ فِي الْقِطَارِ الْجَوَّالِ مَعَ عَدَدٍ كَبِيرٍ مِنَ الْأَطْفَالِ وَ مَرُّوا
بِالْعَدِيدِ مِنَ الْأَمَاكِنِ.



أَعْمَرُ الْجَدُولَ بِالْعَدَدِ الْمُنَاسِبِ:

17 هم و 25 دكم	65 م و 23 هم	50 هم و 47 دكم
م	م	م


عِنْدَ الْعَوْدَةِ مِنَ الْمَعْرِضِ وَجَدَ الْأَطْفَالُ أَبَوَيْهِمْ فِي أَنْتَظَارِهِمْ لِلْقِيَامِ بِزِيَارَةِ
إِلَى بَعْضِ الْأَهْلِ وَالْأَقَارِبِ ، وَصَلَ أَفْرَادُ الْعَائِلَةِ إِلَى الْمَنَازِلِ الْمَقْصُودَةِ .

هَذَا رَسْمٌ مُبَسِّطٌ لَهَا

31 م



47 م



35 م



28 م

37 م

أَبْحَثْ عَنْ قَيْسٍ مُحِيطٍ حَدِيقَةَ مَنْزِلِ سَالِمٍ

أَبْحَثْ عَنْ قَيْسٍ مُحِيطٍ حَدِيقَةَ مَنْزِلِ هُدَى


أَبْحَثْ عَنْ قَيْسٍ مُحِيطٍ حَدِيقَةَ مَنْزِلِ أَحْمَدَ

① أَسْتَعِينُ بِالْمَشَاهِدِ التَّالِيَةِ لِأَكْمَلِ إِنْتَاجِ نَصِّ مُتَكَامِلٍ أُدْرِجُ فِيهِ أَقْوَالَ
وَلَا أَنْسَى أَدَوَاتِ الرِّبْطِ وَعَلَامَاتِ التَّنْقِيطِ الْمُنَاسِبَةَ لِلْقَوْلِ وَالْمَقَامِ.


بَعْدَ النُّزُولِ مِنَ الْحَافِلَةِ ، تَفَطَّنَتِ الْأُمُّ وَأَوْلَادُهَا أَنَّهُمْ قَدْ
نَسُوا الْقَفَّةَ تَحْتَ الْكُرْسِيِّ . أَسْرَعَتِ الْأُمُّ لِأَخْذِهَا فَإِذَا
الْحَافِلَةُ قَدْ غَادَرَتِ الْمَحْطَّةَ



1 مع



2 مع



3 مع

4 مع

جدول إسناد الأعداد

المجموع	معيَار التميّز	معايير الحد الأدنى			المعايير مستوى التملك
		مع 3	مع 2	مع 1	
	مع 4	0	0	0	انعدام التملك
		2	1,5	1,5	دون التملك الأدنى
		4	3	3	التملك الأدنى
20	5	6	4,5	4,5	التملك الأقصى

مستوى التملك

المجموع	معيّار التميّز	معايير الحد الأدنى			المعايير
		معد 3	معد 2	معد 1	
	معد 4	0	0	0	[-] انعدام التملك
		2	1,5	1,5	[+] دون التملك الأدنى
		4	3	3	[++] التملك الأدنى
20	5	6	4,5	4,5	[+++] التملك الأقصى

الإسم : اللقب : سنة ثالثة	اختبار نهاية الثلاثي الثالث انتاج كتابي	مدرسة حي النور 2009 /2008
---	--	------------------------------

أستعين بالمشاهد التالية لأنتج نصّاً تكافؤ لا أدرج فيه أقوالاً و لا أنسى أدوات الربط و علاقات التّقطير المناسبة للقول و المقام .

بعد النزول من الحافلة تفتّنت الأم و أولادها أنّهم قد نسوا القفّة تحت الكرسي .
أسرعت الأم لأخذها فإذا بالحافلة قد غادرت المحطّة .

