

إمتحان في الرياضيات الثاني الثالث

التمرين الأول :

أنجز العمليات التالية:


$$\begin{array}{r} 35 \\ \times 12 \\ \hline \end{array}$$

$$\begin{array}{r} 23 \\ \times 46 \\ \hline \end{array}$$

$$\begin{array}{r} 142 \\ \times 5 \\ \hline \end{array}$$

التمرين الثاني :

عند تاجر 215Kg من البطاطا وضعها في أكياس يزن كل كيس 50Kg
بإكمال كتابة الأعداد على المستقيم العددي



- أوجد عدد الأكياس المملوءة بالبطاطا

.....

- كم كيلو غراما من البطاطا بقي لدى التاجر ؟

.....

التمرين الثالث :


ارسم قطعة مستقيمة [AB] طولها 4cm

- عين النقطة O منتصف قطعة المستقيم [AB]

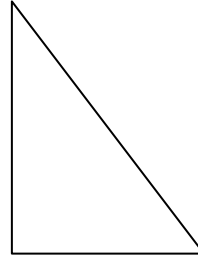
- ارسم الدائرة التي مركزها O وقطرها [AB]

التمرين الرابع :

إليك المضلعين التاليين :



(B)



(A)

أكمل ملء الجدول التالي:

الأشكال	عدد الأضلاع	عدد الأضلاع المتقايسة	عدد الزوايا القائمة
(A)			
(B)			

الوضعية الإدماجية :

بمناسبة عيد الطفولة نظمت روضة الأطفال حفلة للأطفال فاشتريت مديرة الروضة 10 سيارات ب 95 دينار للسيارة الواحدة و 5 دمي ب 250 ديناراً للدمية الواحدة
- ما هو ثمن الألعاب؟
إذا دفعت للبائع 5000 دينار
- ما هو المبلغ المتبقي لديها؟
اشتريت المديرة بنصف ذلك المبلغ المتبقي حلويات و مشروبات.
- ما هو ثمن هذه الحلويات و المشروبات؟

العمليات

الحل

الأجوبة

بالتوفيق

الإصلاح

التمرين الأول :

انجاز العمليات التالية :

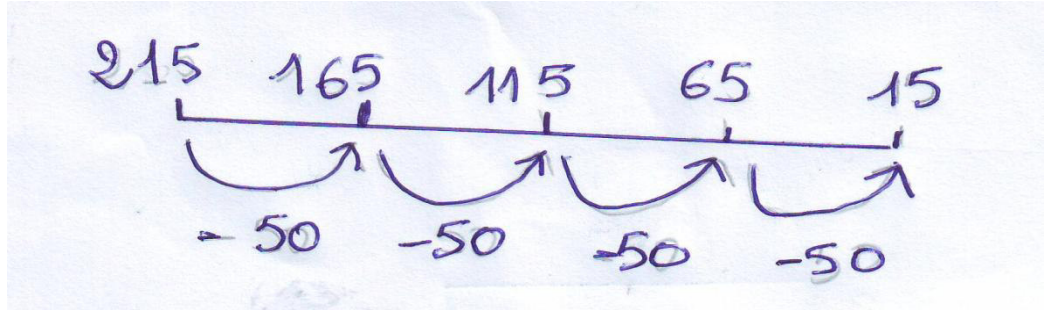
$$\begin{array}{r} 35 \\ \times 12 \\ \hline 138 \\ + 92. \\ \hline 1058 \end{array}$$

$$\begin{array}{r} 23 \\ \times 46 \\ \hline 70 \\ + 35. \\ \hline 420 \end{array}$$

$$\begin{array}{r} 142 \\ \times 5 \\ \hline 710 \end{array}$$

التمرين الثاني :

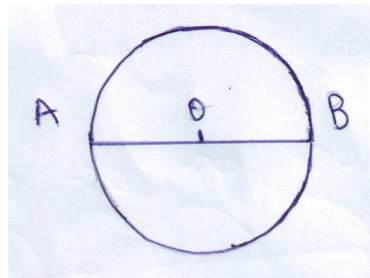
إكمال كتابة الأعداد على المستقيم العددي



- عدد الأكياس المملوءة بالبطاطا هو 4 أكياس

- بقي لدى التاجر 15 كيلو غرام من البطاطا

التمرين الثالث :



التمرين الرابع :

إكمال ملء الجدول التالي:

الأشكال	عدد الأضلاع	عدد الأضلاع المتقايسة	عدد الزوايا القائمة
A	3	0	1
B	4	4	4

الوضعية الإدماجية :

الأجوبة

ثمن السيارات هو 950 دينار

$$950 = 10 \times 95$$

ثمن الدمي هو 1250 دينار

$$1250 = 250 \times 5$$

ثمن الألعاب هو 2200 دينار

$$2200 = 950 + 1250$$

تبقى لديها 2800 دينار

$$2800 = 2200 - 5000$$

$$1400 = 2800$$

إذن ثمن الحلويات و المشروبات هو 1400 دينار

بالتوفيق