

الإسم:..... اللقب:..... القسم:.....	المدرسة الابتدائية 17 نهج روسيا الإختبار الثلاثي الثاني في مادة الإيقاظ العلماء
---	--

السند 1:

بينما كنا نشاهد مباراة في كرة القدم، زلّت قدم أحد اللاعبين فجرح و سال
الدم فبادروا بإسعافه. بعد إنتهاء الشوط فتحت موسوعة خاصة بجسم
الإنسان مصحوبة بعدة أسئلة.

التعليمة 1:

أضع علامة أمام السلوك الصائب في تنظيف الجرح:

☐

❖ تنظيف الجرح من الخارج إلى الداخل

☐

❖ تطهير الجرح بمادة مطهرة

☐

❖ تضميد الجرح

مع 1أ

التعليمة 2:

أسطر الإجابة الصحيحة:

○ الكريات الحمراء تضمن التبادل الغازي

○ الأمصال مناعة طبيعّية

○ يتخثر الدم عند التقائه بالهواء البارد

مع 1ب

التعليمة 3:

أحدّد 3 أعراض للتعفن الجرثومي:

.....

.....

.....

مع 2أ

التعليمة 4:

○ التجرع

○ الحقن

○ الكشط

* مرض الخناق

* مرض السل

* مرض الشلل

يتم التلقيح بطرق مختلفة:

أربط بسهم بين المرض ونوع تلقّحه:


مع
2ب

السند 2:

خلال مطالعاتي عرفت أن للتغذية دور هام في جسم الإنسان حيث تمثل حاجزا أمام عدّة أمراض:

التعليمة 5:

الاحظ الرسم ثم أجيب:



+ ماهي مشكلة الطفلين ؟

+ ممّ سيعانيان ؟

+ بماذا تتصحهما ؟

مع
1ج

(1)- أربط بسهم بين مكوّنات الدم و خصائصها:

* مستديرة و مقعّرة الوجهين

* ليست منتظمة الشكل

* بهـا نـوـاة

* الكريات الحمراء

* الكريات البيضاء

مع
2ج

(2)- أصلح الخطأ إن وجد:

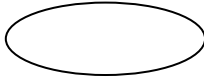
✓ يتكوّن الجلد من البشرة و البلازما

✓ التلقيح وسيلة علاجية

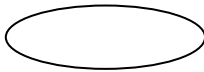
مع 3أ

✓ يتناول الرضيع أغذية الطاقة

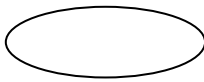
(3)- أضع علامة (x) أمام الإجابة الصحيحة:



■ أشعة الشمس تساعد على تزويد الجسم بالفيتامين (ج)



■ أغذية البناء و النمو غنية بالدهنيات



■ المريض بفقر الدم تنقصه مادة الحديد

مع 3ب

(4)- ألاحظ الجدول و أصلح الخطأ الوارد في كل مجموعة غذائية:

أغذية الطاقة	أغذية الوقاية	أغذية النمو و البناء
- الخبز - اللحم - الياغورت - العسل	- الحليب - البرتقال - الجبن - الكسكسي	- البيض - السمك - الزبدة - الخضر

مع 3ج

جدول إسناد الأعداد

	مع 1			مع 2			مع 3		
	أ	ب	ج	أ	ب	ج	أ	ب	ج
(---)	0	0	0	0	0	0	0	0	0
(--++)	0.5	0.5	1.5	0.5	0.5	1.5	0.5	0.5	0.5
(-+++)	1	1	3	1	1	3	1	1	1.5
(++++)	1.5	1.5	4.5	1.5	1.5	4.5	1.5	1.5	2