



الاسم واللقب :
القسم :

الاختبار الثلاثي : الثاني
السنة الثالثة
المادة : رياضيات

السند 1 :

أُمْسِيَّةً يَوْمَ الْأَحَدِ اسْتَمَعَ سَامِي وَرَامِي وَسَلَوَى إِلَى بَرْنَامَجٍ لِلأَطْفَالِ فَأَعْلَنَ الْمُنَشِطُ عَنْ مُسَابَقَةِ الرَّسْمِ حَوْلَ الْوَقَايَةِ مِنْ حَوَادِثِ الطَّرَقَاتِ فَقَرَّرَ الْإِخْوَةُ الثَّلَاثُ أَنْ يُشَارِكُوا فِي الْمُسَابَقَةِ بِرَسْمِ إِشَارَاتِ الْمُرُورِ وَلِشِرَاءِ مَا يَلْزِمُهُمْ أَخَذَ الْأَطْفَالُ مِنْ مَدَّخَرَاتِهِمُ الْمَالِيَّةِ هَذِهِ الْمَبَالِغَ .

مع 3
□□□

أَخَذَ رَامِي هَذَا الْمَبْلَغَ	أَخَذَ سَامِي 3700 مي	أَخَذَتْ سَلَوَى 4350 مي
		
أَحْسَبُ نُقُودَ رَامِي	أَمْتَلُ نُقُودَ سَامِي بِأَقْلٍ عَدَدٍ مِنَ الْقِطْعِ	أَكْمَلُ تَصْوِيرَ الْقِطْعِ النَّقْدِيَّةِ النَّاقِصَةِ لِسَلَوَى

السند 2 :

تَوَجَّهَ الْإِخْوَةُ الثَّلَاثَةُ إِلَى الْكُتُبِيَّةِ لِشِرَاءِ الْأَدَوَاتِ اللَّازِمَةِ

اللَّوَارِمُ	رِيشَةُ الرَّسْمِ	عُلْبَةُ دُهْنٍ	عَلْبَةُ لَصِقٍ	القلم	المقص	الممحاة
ثمن الوحدة بالمليم	855 مي	985 م	795 مي	1200 مي	985 مي	480 مي

التعليمة 1-2 :

أُنْجِزُ الْعَمَلِيَّاتِ لِأُبَحِّثَ عَنْ :

ثمن 3 ريشات رسم	ثمن شراء 5 علب دهن	ثمن شراء قلمين
855 × 3	985 × 5	1200 × 2
=	=	=

مع2 ج

التعليمة 2-2 :

اِشْتَرَى سَامِي 3 رِيشَاتِ رَسْمٍ وَمِقْصٍ .

كَمْ يَدْفَعُ ؟

مع1

مع2 أ

مع2 ب

مع1

مع2

مع2 ب

مع1

مع2 أ

مع2 ب

كَمْ يَبْقَى لَهُ ؟

اِشْتَرَى رَامِي 5 عُلْبِ دُهْنٍ وَعُلْبَةَ لَصِقِ .

كَمْ يَدْفَعُ ؟

كَمْ يَبْقَى لَهُ ؟

أَمَّا سَلْوَى فَقَدْ اكْتَفَتْ بِشِرَاءِ الْقَلَمَيْنِ وَالْمِمْحَاةِ .

* ثَمَنُ مُشْتَرِيَاتِ سَلْوَى ؟

.....

* كَمْ سَيُرْجَعُ لَهَا الْبَائِعُ ؟

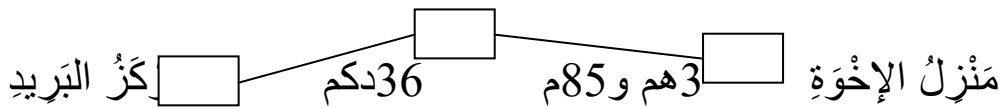
.....

السند 3 :

انْطَلَقَ الْإِخْوَةُ مِنْ مَنْزِلِهِمْ نَحْوَ الْكُتُبِيَّةِ لِشِرَاءِ الْأَدَوَاتِ وَتَوَجَّهُوا إِلَى مَرْكَزِ الْبَرِيدِ

مع3 ب

الْكُتُبِيَّةُ



التعليمة 3 : أُحَوِّلُ :

3 هم و 85 م = م

36 دكم = م

اِبْحَثْ عَنِ الْمَسَافَةِ بَيْنَ مَنْزِلِ الْإِخْوَةِ وَمَرْكَزِ الْبَرِيدِ :

.....

السند 4 :

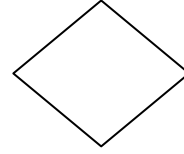
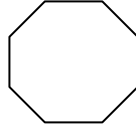
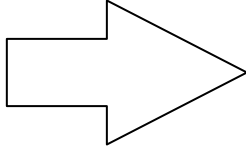
هَاهِي الْعَلَامَاتُ الَّتِي رَسَمَهَا الْأَطْفَالُ

التعلیمة 4 :

اَكْتُبْ تَحْتَ كُلِّ مُضَلَّعٍ نَوْعَهُ

مع4

--	--	--



.....

السند 5 :

بَعْدَ انْتِهَاءِ عَمَلِهِمْ جَمَعَ الْأَطْفَالُ مَا بَقِيَ لَدَيْهِمْ مِنْ نُقُودٍ لِشِرَاءِ شَرَايِطَ بـ 3500 مي .

أَطْرَحْ سُؤْالاً يُنَاسِبُ الْوَضْعِيَّةَ يَتَطَلَّبُ حُلُّهُ انْجَازَ عَمَلِيَّتَيْنِ :

مع5

--

.....

أَجِيبْ عَنِ السُّؤَالِ :

--

.....

.....

.....

.....

--

			معايير الحد الأدنى							
			مع4	مع3ب	مع3أ	مع2ج	مع2ب	مع2أ	مع1	
ع3	ع2	ع1	0	0	0	0	0	0	0	انعدام التملك —
1,5	1,5	2	0,5		0,5	1	0,5	0,5	1	دون التملك +
			1		1	2	1	1	2	التملك الأدنى ++
المجموع 5			1,5		1,5	3	1,5	1,5	3	التملك الأقصى +++

الاسم واللقب :	الاختبار الثلاثي : الثاني	المدرسة الابتدائية
القسم :	السنة الثالثة	شارع بورقيبة
السنة الدراسية : 2006/2005	المادة : تربية إسلامية	سيدي علوان

<p>(1) أَضَعْ عَلَامَةً (x) أَمَامَ الْمَعَانِي الدَّالَّةِ عَلَى مَظَاهِرِ قُدْرَةِ اللَّهِ :</p> <p>- خَلَقَ اللَّهُ النَّاسَ مُخْتَلِفِينَ فِي الشَّبهِ وَاللَّوْنِ وَالطَّبَاعِ . (.....)</p> <p>- يُنْزِلُ اللَّهُ الْمَطَرَ فَتَسْقَى النَّبَاتَاتُ . (.....)</p> <p>- يَأْمُرُنَا اللَّهُ بِالْعِبَادَةِ . (....)</p> <p>- مَنَحَنَا اللَّهُ فَوَاحِشَ وَغِلَافًا وَخَيْرَاتٍ مُخْتَلِفَةً . (.....)</p> <p>- يَنْهَانَا اللَّهُ عَنِ الشَّرِّ . (.....)</p> <p>(2) أَشْطَبُ مَا لَا يَتَلَاعَمُ مَعَ فَوَائِدِ الصِّدْقِ :</p> <p>- مَحَبَّةُ النَّاسِ .</p> <p>- الْعِقَابُ مِنَ اللَّهِ تَعَالَى .</p> <p>- حُسْنُ الْعَاقِبَةِ .</p> <p>- إِحْتِقَارُ النَّاسِ .</p> <p>- الإِطْمِئْنَانُ وَرَاحَةُ الْبَالِ .</p> <p>(3) أ - أَكْتُبْ أَمَامَ كُلِّ صَلَاةٍ عَدَدَ الرِّكَعَاتِ الْمُنَاسِبِ لَهَا :</p> <p>- صَلَاةُ الصُّبْحِ</p> <p>- صَلَاةُ الظُّهْرِ</p> <p>- صَلَاةُ الْمَغْرِبِ</p> <p>(3) ب - أَكْتُبْ " سِرًّا " أَوْ " جَهْرًا " فِي الْفَرَاعَاتِ التَّالِيَةِ :</p> <p>- تُؤَدَّى رَكْعَتَا صَلَاةِ الصُّبْحِ.....</p> <p>- تُؤَدَّى رَكْعَاتُ صَلَاةِ الظُّهْرِ.....</p> <p>- تُؤَدَّى رَكْعَاتُ صَلَاةِ الْعَصْرِ.....</p>	<p>مع1</p> <p>□ □ □</p> <p>مع2</p> <p>□ □ □</p> <p>مع3أ</p> <p>□ □ □</p> <p>مع3ب</p> <p>□ □ □</p>
---	---

4) اسْتَعَارَ حَامِدٌ قِصَّةً مِنْ صَدِيقِهِ أَيْمَنَ لِيُطَالِعَهَا . تَرَكَهَا عَلَى مَكْتَبِهِ وَذَهَبَ إِلَى الْمَدْرَسَةِ وَعِنْدَمَا رَجَعَ وَجَدَهَا مُمَزَّقَةً فَسَأَلَ أُمَّهُ فَأَعْلَمَتْهُ أَنَّ أَخَاهُ الصَّغِيرَ مَرَّقَهَا فِي غَفْلَةٍ مِنْهَا . وَبَعْدَ مُدَّةٍ جَاءَ أَيْمَنُ يَطْلُبُ قِصَّتَهُ فَأَنْكَرَ حَامِدٌ أَنَّهُ أَخَذَ مِنْهُ قِصَّةً وَقَالَ لَهُ : " لَعَلَّكَ أَعْطَيْتَهَا لِأَحَدٍ غَيْرِي . "

فَتَرَكَهُ أَيْمَنُ وَرَجَعَ إِلَى الْبَيْتِ رَغْمَ تَأَكُّدِهِ مِنْ أَنَّهُ أَعْطَاهُ الْقِصَّةَ .

لَوْ كُنْتَ مَكَانَ حَامِدٍ مَاذَا كُنْتَ تَفْعَلُ ؟ لِمَاذَا؟

.....
.....

المجموع	مع4	مع3ب	مع3أ	مع2	مع1	
		0	0	0	0	انعدام التملك
		1	1,5	1,5	1	دون التملك الأدنى
	3	2	3	3	2	التملك الأدنى
20	5	3	4,5	4,5	3	التملك الأقصى

الاسم واللقب :	الاختبار الثلاثي : الثاني	المدرسة الابتدائية
القسم :	السنة الثالثة	شارع بورقيبة
السنة الدراسية : 2006/2005	المادة : إيقاظ علمي	سيدي علوان

وَضَعَ مُرَادٌ قِطْعَةً شُكْلًا طَةً فِي جَيْبِهِ وَانْصَرَفَ إِلَى الْمَدْرَسَةِ . عِنْدَ الرَّاحَةِ تَفَطَّنَ إِلَى بُقْعٍ لَطَخَتْ جَيْبَ مِدْعَتِهِ .

التعليمية 1-1 : أكمل بالعبارات (الإنصهار - صلبة - سائلة - غازية) للتفسير :

تَحَوَّلَتِ الشُّكْلَاطَةُ فِي جَيْبِ مُرَادٍ مِنْ حَالَةٍ إِلَى حَالَةٍ

بِمَفْعُولِ الْحَرَارَةِ وَتُسَمَّى هَذِهِ الظَّاهِرَةُ

التعليمية 2-1 : هَذِهِ أَجْسَامٌ أُصْنِفُهَا فِي الْجَدُولِ حَسَبَ حَالَتِهَا فِي الطَّبِيعَةِ :

حَجَرٌ - دُخَانٌ سَيَّارَاتٍ - زَيْتٌ - بُخَارٌ - مِدْعَةٌ - مَاءٌ

سَائِلٌ	صَلْبٌ	غَازٌ
.....
.....

فِي طَرِيقِ الْعُودَةِ إِلَى الْمَدْرَسَةِ رَأَى مُرَادٌ صَدِيقَهُ مِنْ بَعِيدٍ فَأَخَذَ يَغْدُو لِيَلْحَقَ بِهِ فَوَصَلَ وَهُوَ يَلْهَثُ.

التعليمية 2-1 : أَضَعْ عَلَامَةَ (x) أَمَامَ التَّغْلِيلِ الصَّحِيحِ :

* شَعَرَ مُرَادٌ بِصُعُوبَةٍ فِي التَّنَفُّسِ :

- لِأَنَّهُ خَافَ أَلَّا يَلْحَقَ صَدِيقَهُ (.....)

- لِأَنَّ تَنَفُّسَهُ أَصْبَحَ أَسْرَعَ أَثْنَاءَ الْجَرْيِ (.....)

- لِأَنَّهُ أَصْبَحَ فِي حَاجَةٍ إِلَى كَمِيَّةٍ أَكْبَرَ مِنَ الْهَوَاءِ (.....) التعليمية 2-2 : أَصْلِحِ الْخَطَأَ :

- الْحَرَكََةُ التَّنَفُّسِيَّةُ هِيَ زَفِيرٌ فَقَطْ .

-

تَوَقَّفَ الطِّفْلَانِ لِشِرَاءِ صُورِ حَيَوَانَاتٍ مِنَ الْكُتُبِيَّةِ ثُمَّ اتَّجَهَا صَوْبَ الْمَدْرَسَةِ . هَذِهِ هِيَ
الصُّورُ الَّتِي اسْتَنَرَيَاهَا :



مع1ب
|||

|||

مع1ج
|||

التعليمية 1-3 : أُحِيطَ بِخَطِّ مُغْلَقٍ صُورَ الْحَيَوَانَاتِ الْبَيُوضَةِ

التعليمية 2-3 : أَرْتَبْ مُدَّةَ حَمْلِ هَذِهِ الْحَيَوَانَاتِ مِنَ الْأَقْصَرِ إِلَى الْأَطْوَلِ مُدَّةً :

نَعْجَةٌ ☐ بَقْرَةٌ ☐ فَرَسٌ ☐

قَدَّمَ الْمُعَلِّمُ لِتَلَامِيذِهِ صُورًا لِحَيَوَانَاتٍ قَصَدَ تَصْنِيفُهَا فِي شَكْلِ عَائِلَاتٍ :

كَانَتْ هَذِهِ إِجَابَةٌ مُرَادٍ :

مع3ب
|||

.....	حِمَارٌ	ثَوْرٌ	كَبْشٌ
.....	فَرَسٌ	بَقْرَةٌ	نَعْجَةٌ
.....	مُهْرٌ	جَرَوْ	دَغْفَلٌ

التعليمية 1-4 : تَسَرَّبَتْ فِي إِجَابَةٍ مُرَادٍ أَخْطَاءٌ . أَصْلَحُهَا بِ (عَجَلٌ - حَمْلٌ - حِصَانٌ)

* ثُمَّ انْتَقَلَ الْمُعَلِّمُ إِلَى عَالَمِ النَّبَاتَاتِ فَطَلَبَ مِنْ تَلَامِيذِهِ تَصْنِيفُهَا حَسَبَ الْجَدْوَلِ :

جُلْبَانٌ - زَيْتُونٌ - حِمَصٌ - فُولٌ - رُمَانٌ - بُرْتُقَالٌ

مع1د
|||

|||

نَبَاتَاتٌ تَتَكَاثَرُ بِالْبُذُورِ	نَبَاتَاتٌ لَا تَتَكَاثَرُ بِالْبُذُورِ
.....
.....
.....

مع3ب	مع3أ	مع2ب	مع2أ	مع1د	مع1ج	مع1ب	مع1أ	
0	0	0	0	0	0	0	0	-
1		0,5	0,5	1	0,5	1	1	0,5
2		1	1	2	1,5	2	2	1,5
3	2	1,5	1,5	3	2,5	3	3	2,5

الاسم واللقب :	الاختبار الثلاثي : الثاني	المدرسة الابتدائية
القسم :	السنة الثالثة	شارع بورقيبة
السنة الدراسية :	المادة : إنتاج كتابي	

التعليمة :

- أَقْرَأِ النَّصَّ التَّالِيَ وَأَكْتُبِ الْحَوَارَ الَّذِي دَارَ بَيْنَ الْأُمِّ وَابْنَتِهَا فِي ثَلَاثَةِ أَقْوَالٍ عَلَى الْأَقَلِّ .
- دَخَلَتْ الْأُمُّ مَنْزِلَهَا لَيْلَةَ الْعِيدِ مُثْقَلَةً بِمَلَابِسٍ جَمِيلَةٍ وَأَلْعَابٍ مُتَنَوِّعَةٍ . فَرِحَتْ فَاطِمَةُ بِقُدُومِ أُمِّهَا . فَعَانَقَتْهَا طَوِيلًا ، ثُمَّ تَفَحَّصَتْ هَذِهِ الْخَيْرَاتِ وَهِيَ تَشْكُرُ أُمَّهَا عَلَى هَذِهِ الْهَدَايَا ، ثُمَّ قَالَتْ فِي اسْتِغْرَابٍ :

.....

.....

أَجَابَتْ الْأُمُّ مُبْتَسِمَةً :

.....

.....

.....

قَالَتْ فَاطِمَةُ :

.....

.....

.....

.....

جدول إسناد الأعداد

المجموع	ثراء اللغة	المجموع	سلامة البناء			سلامة اللغة			الملاءمة			المعايير مستويات التملك
	مع 4		مع 3			مع 2			مع 1			
	1,5		0			0			0			انعدام التملك -- +
			1,5	1	0,5	3	2	1	3	2	1	دون التملك الأدنى -- +
	3	10	2			4			4			التملك الأدنى ++
20	5	15	3		2,5	6		5	6		5	التملك الأقصى +++