



الاسم :
اللقب :
القسم : **سنة ثانية**

المعلمة : فاطمة بالحاج مزوك ونيس

دعم مكتسبات المتعلمين

رياضيات

السنة الدراسية: 2020/2021

مجمع "الأمد" للتربية والتعليم والتكوين
ابتدائي/إعدادي/الثانوي/تكوين مهني/تعليم عال
المدرسة الابتدائية الخاصة الأمد السحليين
شارع الحبيب بورقيبة 5012 المنستير
الهاتف : 73513117 الفاكس 73513118

التعليمة 1: أتمم بعقد مناسب مكان النقطة:

$$8 + \dots = 100$$

$$\dots + 70 = 100$$

$$50 + \dots = 100$$

$$\dots + 60 = 100$$

$$\dots + 20 = 100$$

$$\dots + 30 = 100$$

$$100 = 30 + 30 + \dots$$

$$100 = \dots + 10 + 60$$

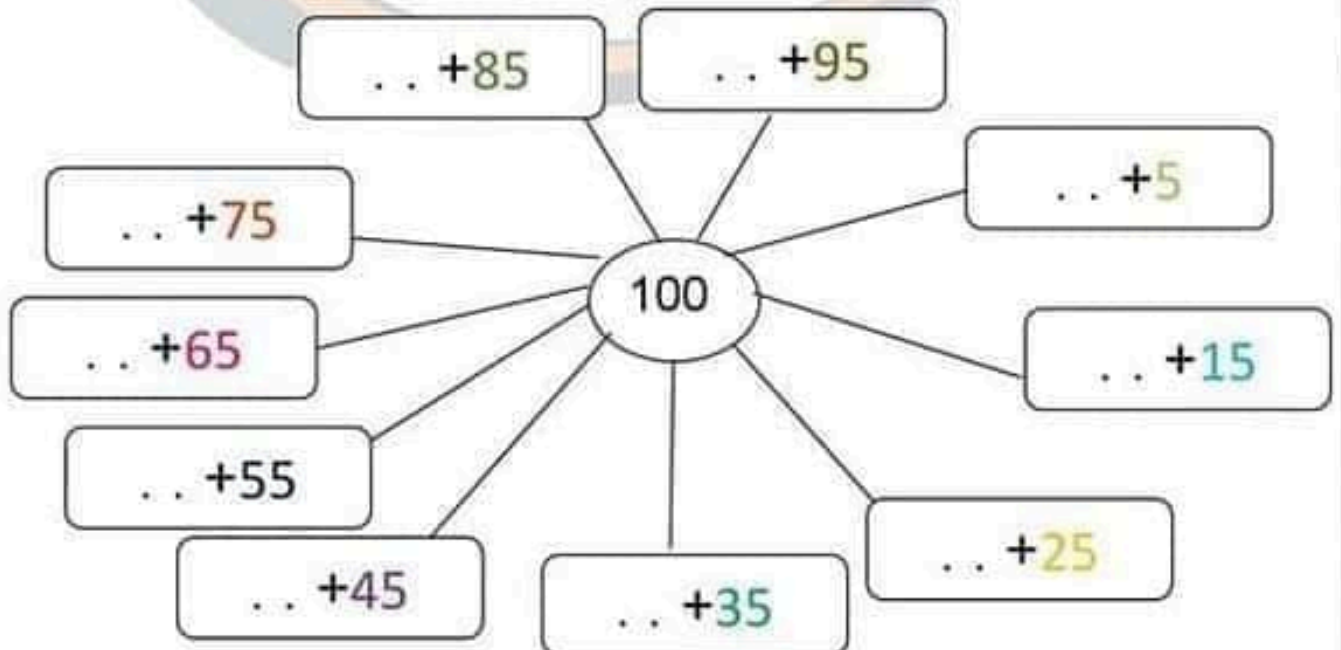
$$100 = 30 + \dots + 20$$

$$100 = 40 + \dots$$

$$100 = \dots + 10$$

$$100 = 80 + \dots$$

التعليمة 2: أفكك العدد 100 إلى عددين.



التعليمة 3: ألون بنفس اللون كل بطاقتين بحيث إذا جمعتهمَا اتَّحَصَّلَ على

56

13

44

65

87

19

81

35

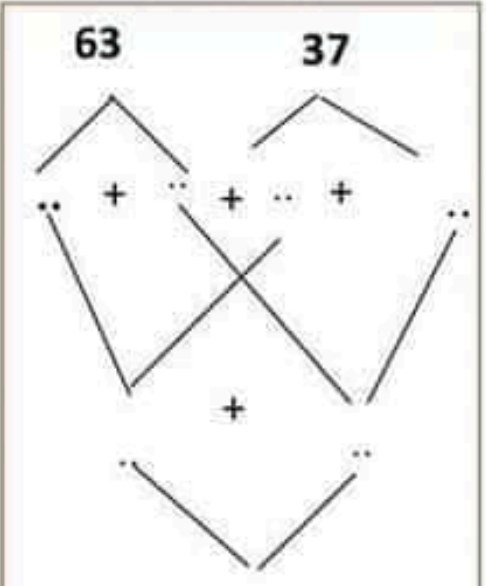
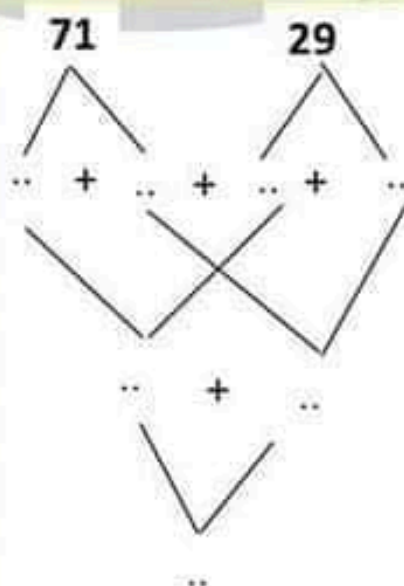
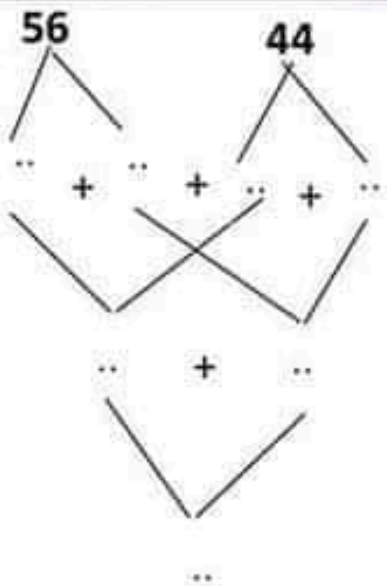
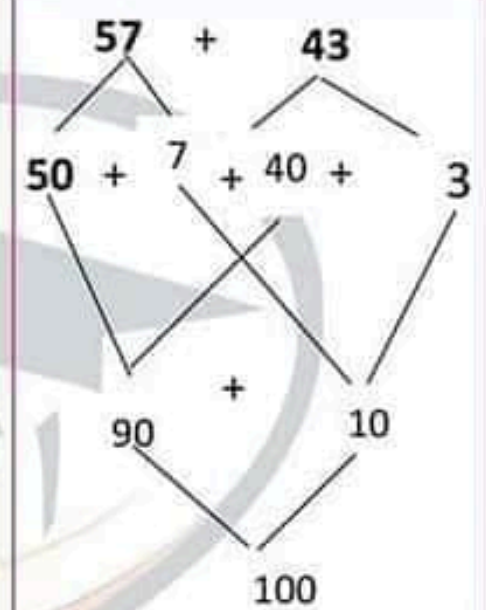
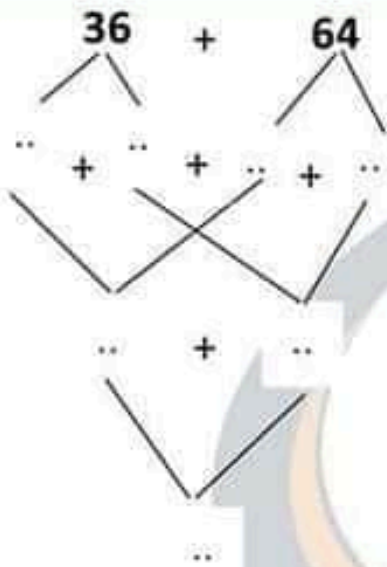
$$. = . + .$$

$$. = . + .$$

$$= . + .$$

$$. = . + .$$

التعليمة 4: أفكك الأعداد و اركبها .



التعليمة 5: أضع العلامة المناسبة مكان النقطة :

85 .100

50 . 100

100 . 74 + 53

20 .100

$$100 \cdot 20 + 30 + 50$$

100 . 20 + 50

$$100 \cdot 6 + 94$$

الوضعية 1: اِقْتَنَبْتُ شَيْمَاءَ مِنَ الْمَكْتَبَةِ فَلَمَّا بَدَأْتُ 55 مِي وَمِمْحَاةً بِ45 مِي وَ خُلُوًى بِ75 مِي.

التَّعْلِيمَةُ: أَحْسَبُ ثَمَنُ الْأَنْوَابِ الْمَذَرِبِيَّةِ فِي الْجُمْلَةِ ؟

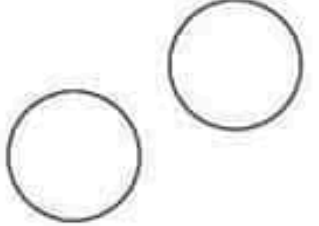
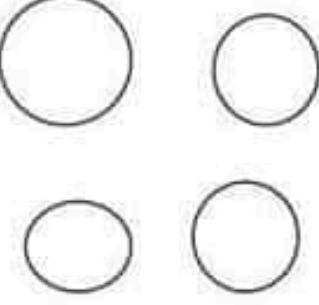
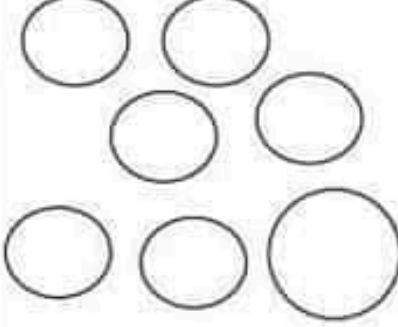
الوضعية 2: تملك فاطمة 75 ديناراً. أعطتها خالتها 25 ديناراً

التَّعْلِيمَةُ: كَمْ أَصْبَحْتُ تَمْلِكُ؟


الوضعية 3: عَزَسَ أَبِي 42 شَجَرَةَ رُمَانٍ وَ عَزَسْتُ أَنَا وَ إِخْوَتِي أَشْجَارَ يَمِينِ عَدَدُهَا يَفُوقُ عَدَدَ أَشْجَارِ الرُّمَانِ ب 16 شَجَرَةً.


التَّعْلِيمَةُ: أَحْصَبُ الْعَدَدِ الْجُمْلِيُّ لِلْأَشْجَارِ الْمَغْرُوسَةِ ؟


التعليمة 1: أمثل قطعة نقدية من فئة 100 مي بأكثر من طريقة:

بقطعتين 100	بأربع قطع 100	بمئتين قطع 100
		

التعليمة 2: اصنع (x) تحت كل مبلغ يساوي 100 مي







الوضعية:

لسامي 65 مي زادثه أمه 3 قطع نقدية فصار عنده 100 مي.

التعليمة: أمثل القطع التي زادثها الأم لابنها.

