


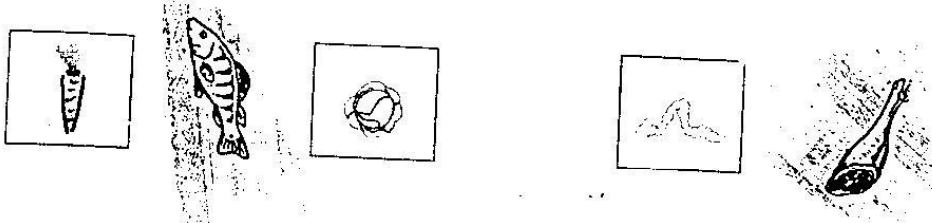
المدرسة الابتدائية العامة نور المعارف	تقييم مكتسبات التلاميذ في نهاية الثلاثي الثاني المادة : لياقظ علمي السنة الأولى مارس 2009	الاسم : ..... اللقب : .....
--	--	--------------------------------

المسند 1  
رَأَى خَلِيلٌ جَدَّهُ فِي الْفَيْقَةِ لِيَسْتَمْتِعَ بِاللَّعِبِ مَعَ الْحَيَوَانِ  
بَيْنَ الْأَشْجَارِ وَالْأَشْجَارِ  
تَنَاوَلَ خَلِيلٌ قَطُورَ الصَّبَاحِ وَخَرَجَ لِيَطْعِمَ بَعْضَ الْحَيَوَانِ.  
التعليمة 1:


1 - 1 : أَحِيطْ بِخَطِّ مُغْلَقٍ مَا يُمْكِنُ أَنْ يَتَنَاوَلَ خَلِيلٌ  
فِي قَطُورِ الصَّبَاحِ.



2 - 1 : أَلَوْنُ الْأَعْذِيَةِ الَّتِي تَتَنَاوَلُهَا الْحَيَوَانَاتُ الْعَاشِبَةُ




3 - 1 : أَفْعُ عَلَامَةً تَحْتَ الْحَيَوَانِ الَّذِي لَهُ أَطْوَلُ دَيْلٍ



4 - 1 : أَلَوْنُ أَخْفَ حَيَوَانٍ

5- 1: أَكْتُبُ "عَاشِبٌ" أَوْ "لَاجِمٌ".



معد 2

6- 1: أَحِيطُ بِخَطِّ مُغْلَقٍ الْخَسَّةَ الَّتِي تَسْطُبُ  
مُدَّةَ زَمَانٍ أَطْوَلَ لِتَأْكُلَهَا السَّلَحْفَاءُ.



معد 1

السند 2: لَعِبَ خَلِيلٌ مَعَ الْغَيَرَانِ حَتَّى حَانَ وَقْتُ  
الْعَدَاةِ فَعَادَ إِلَى الْمَنْزِلِ وَغَسَلَ يَدَيْهِ لِيَتَنَاوَلَ  
طَعَامَهُ.

التعليمة 2:

1- 2: أَشْطَبُ الْخَطَأُ:

لِيَكُونَ الْإِنْسَانُ فِي مَحَةٍ جَيِّدَةٍ يَتَنَاوَلُ أَعْدِيَهُ:

مُتَبَوِّغَةٌ

كَثِيرَةٌ


معد 3

2- 2: أَرِيطُ بِمَا يَنَاسِبُ: . لِأَنَّهُ لَا يُحَافِظُ عَلَى مَحَّتِهِ .

يَغْسِلُ خَلِيلُ يَدَيْهِ قَبْلَ الْأَكْلِ . لِأَنَّهُ لَعِبَ مَعَ الْغَيَرَانِ .

معد 2

3- 2: أَحِيطُ بِخَطِّ مُغْلَقٍ مَا يُمْكِنُ أَنْ يَتَنَاوَلَهُ خَلِيلٌ  
عِنْدَ الْعَدَاةِ .



أَرْبِطُ بِمَا يَنَاسِبُ.

4 - 2 :

بَعْدَ الْعَدَاءِ وَفَعَّ خَلِيلٌ الْأَعْدِيَّةَ فِي السَّلَاحَةِ  
لِأَنَّهُ . يُحِبُّ الطَّعَامَ الْبَارِدَ .  
يَحْفَظُهُمَا مِنَ السَّلَوْتِ .

مع 1

السند 3 :

فِي الْمَسَاءِ خَرَجَ خَلِيلٌ مَعَ جَدِّهِ إِلَى السُّوقِ فَرَأَى رَجُلًا  
يَبِيعُ الْحَلْوَى فِي الطَّرِيقِ فَلَمْ يَشْتَرِ مِنْهُ .  
التَّعْلِيمَةُ 3 : أَشْطَبُ الْخَطَأِ :

لَمْ يَشْتَرِ خَلِيلٌ الْحَلْوَى


لِأَنَّهُ الْحَلْوَى مَلَوْنَةٌ

لِأَنَّهُ لَا يُحِبُّ الْحَلْوَى

مع 3

السند 4

عِنْدَ الْعَرْدَةِ سَمَدَةٌ خَلِيلٌ فِي فِرَاسِهِ وَأَخَذَ يُسَامِدُ  
السُّلْفَانَ



1- 4 : اكتب : الليل أو الثمار

تمدة خليل في فراشه في .....

2- 4 : ألون الدليل على ذلك في المسمد.

3- 4 : اكتب : أطول - أقصر .

يسغرق الثوم في الليل مدة زمنية ..... من مسامدة التلغاز

### جدول لإسناد الأعداد

مع 3	معايير الحد الأدنى				مستويات التملك
	مع 1	مع 2	مع 3	مع 4	
2,5	0	0	0	0	انعدام التملك
	1,5	1,5	1	1	دون التملك الأدنى
	3	3	2	2	التملك الأدنى
5	4,5	4,5	3	3	التملك الأقصى