

المدرسة الابتدائية	تقييم مكتسبات التلاميذ نهاية المداسي الثاني	السنة الاولى
المعلمة ندى	رياضيات	الاسم.....
	2021/2020	اللقب.....

السند 1

اليوم تحتفل فردوس بعيد ميلادها

فاشترت لها امها 9 بالونات حمراء و 10 بالونات بيضاء

التعليمية 1-1 احسب العدد الجملي للبالونات

التعليمية 2-1 ارتب اعداد العملية تنازليا

مع 2

☐

مع 1

☐

مع 2 ب

☐

السند 2 : دعت فردوس جميع أصدقاءها فكانوا 7 أولاد و 8 بنات

التعليمية 1-2 احسب مجموع أصدقاء فردوس

التعليمية 2-2 ارتب أعداد العملية تصاعديا

مع 2

☐

مع 1

☐


مع 2 ب

☐

السند 2: مَرَّ التَّلَامِيذُ أَمَامَ بَرَكَةِ مَاءٍ فَشَاهَدُوا بَطًّا يَسْبَحُ.

قَالَ أَحْمَدُ: « سَيَغْرُقُ هَذَا الْبَطُّ فِي الْمَاءِ »

التعليمية 2



1-2 أحيط بخط مغلقي الحيوانات التي تَنَقُّلُ فِي الْمَاءِ

2-2 أصليح فكرة أحمد بوضع علامة (X) أمام الإفادة الصحيحة:

- الْبَطُّ يَتَنَقَّلُ فِي الْمَاءِ فَقَطْ


- الْبَطُّ يَتَنَقَّلُ فِي الْمَاءِ وَ الْبَرِّ

3-2 اكمل الفراغ بما يناسب الجناحين - الزعانف


السَّمَكَةُ تَسْبَحُ لِأَنَّ..... تُسَاعِدُهَا عَلَى ذَلِكَ.

السند 3: أَثْنَاءَ جَوْلَتِهِمْ فِي الْحَدِيقَةِ شَاهَدَ الْأَطْفَالُ عَمَّالًا يَجْمَعُونَ مَا تَنَاقَرَتْ مِنْ أَوْرَاقِ الْأَشْجَارِ وَالْفَضَلَاتِ وَ عَائِلَةً أُخْرَى تَتَجَوَّلُ

التعليمية 1-3 اكْتُبْ: دَفَعَ - جَذَبَ



2-3 أرّتب مَراحِل نُمُو الإنسان بوضع الأرقام من 1 إلى 5



مع 1ب

☐

السند 4 : تَوَقَّف حُسَامَ أَمَامَ قَفْصِ كَبِيرٍ فِيهِ نَعَامَاتٌ وَ قَالَ : « سَأَتَرَقِّبُ حَتَّى تَطِيرَ النُّعَامَةُ »

التعليمية 4 :



1-4 أحيط بِخَطِّ مُغْلَقِ الحَيَوَانَاتِ الَّتِي تَطِيرُ :

2-4 أربط النُّعَامَةَ بِطَرِيقَةٍ تَنْقُلُهَا

مع 1ا

☐

• تَطِيرُ

• تَقْفِرُ

• تَعْدُو

• النُّعَامَةُ

مع 1ب

☐

3-4 أعلِّلْ إجابتي بِكُتَابَةٍ :

ثَقِيلٌ - خَفِيفٌ

مع 2ج

☐

لأنَّ جِسْمَهَا

السند 5 :

كَانَتْ لَيْلَى تَتَجَوَّلُ بَيْنَ الْأَزْهَارِ فِي الْحَدِيقَةِ فَشَاهَدَتْ فَرَّاشَةً جَمِيلَةً فَبَدَأَتْ تُلَاحِظُهَا
حَتَّى أَمْسَكَتْ بِهَا وَوَضَعَتْهَا دَاخِلَ عُلْبَةٍ مُغْلَقَةٍ.

التعليمية 5 :

أشطب الخطأ

- الفَرَّاشَةُ تَمُوتُ دَاخِلَ الْعُلْبَةِ لِأَنَّهَا لَا تَسْتَطِيعُ أَنْ تَتَنَفَّسَ
- الفَرَّاشَةُ تَعِيشُ دَاخِلَ الْعُلْبَةِ لِأَنَّهَا تَسْتَطِيعُ أَنْ تَتَنَفَّسَ

جدول اسناد الاعداد

مستويات التملك		معايير الحد الأدنى				معايير التميز
مع 1	مع 1 ب	مع 2 ب	مع 2 ج	مع 2.5	مع 3	مع 3
0	0	0	0	2.5	2.5	2.5
1	1	1.5	1.5	3	3	3
2	2	3	3	4.5	4.5	4.5
3	3	4.5	4.5	5	5	5