

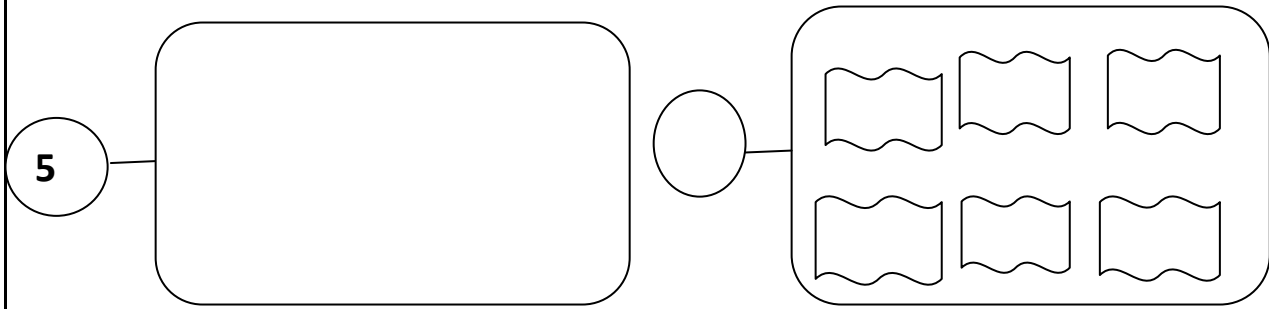
الاسم واللقب: ..... .....	اختبر الرياضيات الثلاثي الثاني	المدرسة:..... القسم: السنة الأولى .....
---------------------------------	--------------------------------------	--

السند

الأطفال يرتبون البيت. صفّ رفيق مجموعة من الكتب في أعلى رف وأخرى في أسفل رف.

التعليم 1ة :

أتّم بما يناسب



مع 1 أ

مع  
ب 1

التعليم 2ة :  
أحسب العدد الجملي للكتب :

$$\cdot = \cdot + \cdot$$

مع 2 أ

مع  
ب 2

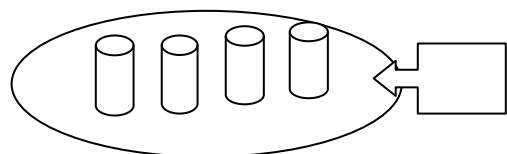

التعليم 3ة :

أرتب الأعداد من الأصغر الى الأكبر

.....

مع 2 ج

السند 2: سندس ترتّب الكؤوس.



مع 1 أ



التعليم 1: أتمم المجموعات بما يناسب:

التعليم 2: أحسب العدد الجملي للكؤوس :

$$. = . + .$$

التعليم 3: أرتب أعداد العملية تنازليا :

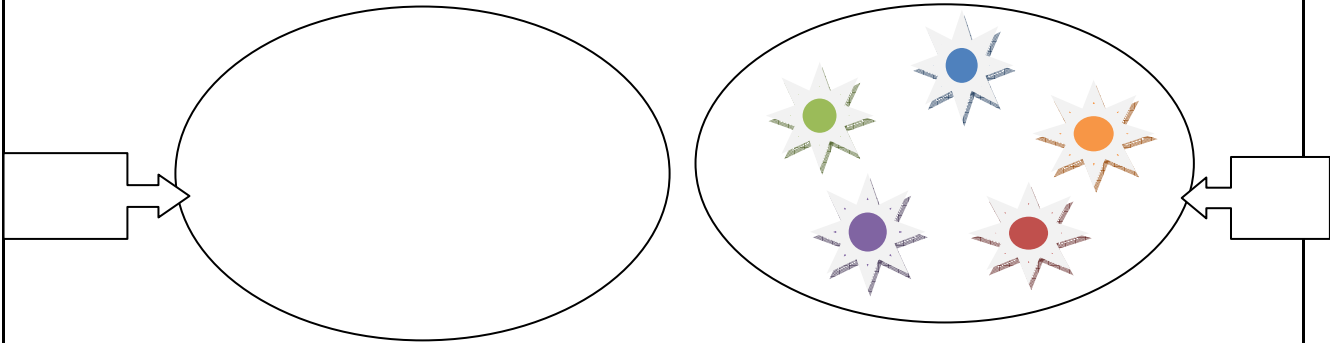
.....

مع  
1ب

مع 2  
أ  
مع  
2ب

السند 3 :  
قطفت عفاف باقة أزهار ملونة من الحديقة:

مع 2ج



التعليم:

1 أحسب كم مجموعة الأزهار الملونة .

2 أرسم مجموعة أزهار حمراء أصغر من مجموعة الأزهار الملونة

3 أحسب العدد الجملي لأزهار :

$$. = . + .$$

4 أرتب أعداد العملية حسب اختياري :

.....

مع 1أ  
مع 1ب  
مع 2أ

مع 2ب  
مع 2ج



عفاف	سندس	رفيق
	<div> <div>2</div> <div>5</div> <div>10</div> <div>1</div> <div>2</div> </div>	<div> <div>5</div> <div>5</div> <div>2</div> </div>
13 مي	15 مي	.....مي

التعليمة:  
أحسب مبلغ رفيق  
أحيط بخط معلق مبلغ سندس  
أمثل مبلغ عفاف بأقل قطع نقدية

مع 3

السند: أراد كل طفل شراء بسكويتا ب 14 مي.

أضع علامة تحت اسم الطفل الذي سيشتري البسكويت

مع 5

عفاف	سندس	رفيق

لأن .....

مع 5

### جدول اسناد الأعداد

المعايير	مع 1 أ	مع 1 ب	مع 2 أ	مع 2 ب	مع 2 ج	مع 3	مع 5
(-)	0	0	0	0	0	0	0
(+)	1	1	0,5	0,5	0,5	0,5	
(++)	2	2	1	1	1	1	2
(+++)	3	3	1,5	2	1,5	2	3