


الاسم: اللقب: المستوى: أولى أ	تقييم مكتسبات التلاميذ في نهاية الثلاثي الثاني مارس النشاط: رياضيات	المدرسة الابتدائية
---	---	--------------------

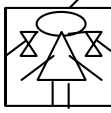
السند 1: الْيَوْمُ يَحْتَفِلُ بِاسْمِ بَعِيدِ مِيلَادِهِ. جَاءَ إِلَى بَيْتِهِ عَدَدٌ مِنْ أَصْدِقَائِهِ مِنَ الْبَنَاتِ وَالْأَوْلَادِ.

التعليمية 1:

1-1- أَمَلُّ مَجْمُوعَةَ الْبَنَاتِ وَاكْتُبْ عَدَدَ الْأَوْلَادِ فِي اللَّافَتَةِ.



....



7

1-2- أَحْسِبْ عَدَدَ الْبَنَاتِ وَالْأَوْلَادِ.

$..... = +$

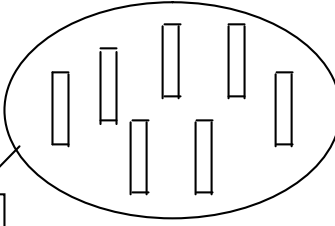
1-3- ارْتَبْ أَعْدَادَ الْعَمَلِيَّةِ مِنَ الْأَصْغَرِ إِلَى الْأَكْبَرِ.

$..... > >$

السند 2: أَقْبَلْتُ أُمَّ بِاسْمِ تَحْمِلِ فُطِيرَةً فَوْقَهَا شَمُوعٌ حَمْرَاءَ وَشَمُوعٌ زَرَقَاءَ.

التعليمية 2:

2-1- أَمَلُّ مَجْمُوعَةَ الشَّمُوعِ الْحَمْرَاءِ وَاكْتُبْ عَدَدَ الشَّمُوعِ الزَّرَقَاءِ فِي اللَّافَتَةِ.



....

5

2-2- أَحْسِبْ عَدَدَ الشُّمُوعِ الْحَمْرَاءِ وَالزَّرْقَاءِ.

..... = +

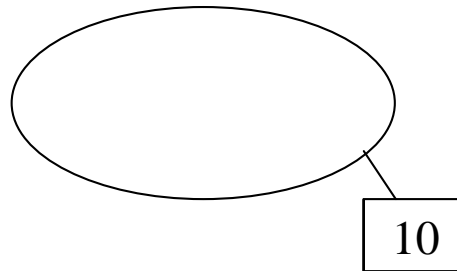
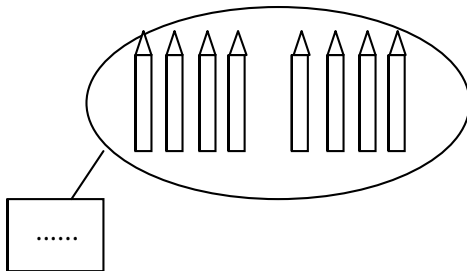
2-3- ارْتَبِ أَعْدَادَ الْعَمَلِيَّةِ مِنَ الْأَكْبَرِ إِلَى الْأَصْغَرِ.

..... < <

السند 3: بَعْدَ تَنَاوُلِ الْمُرَطَّبَاتِ وَالْمَشْرُوبَاتِ، تَقَدَّمَ بِاسْمِ لِفَتْحِ الْهَدَايَا. قَالَ مُنِيرٌ: " هَذِهِ هَدِيَّتِي، افْتَحْهَا أَوَّلًا. " فَتَحَ بِاسْمِ الْهَدِيَّةِ فَوَجَدَ أَقْلَامًا مُصَنَّفَةً إِلَى نَوْعَيْنِ: شَمْعِيَّةَ وَلَبْدِيَّةَ.

التعليمية 3:

3-1- أَمَلْ مَجْمُوعَةَ الْأَقْلَامِ اللَّبْدِيَّةِ وَأَكْتُبْ عَدَدَ الْأَقْلَامِ الشَّمْعِيَّةِ فِي اللَّافِتَةِ.



3-2- أَحْسِبْ عَدَدَ الْأَقْلَامِ كُلِّهَا.

.....

3-3- ارْتَبِ أَعْدَادَ الْعَمَلِيَّةِ مِنَ الْأَصْغَرِ إِلَى الْأَكْبَرِ.

.....

السند 4: هَذَا الْأَطْفَالُ بِاسْمِ وَأَنْصَرَفُوا. وَفِي الطَّرِيقِ، رَأَتْ مَهَا بَائِعَ الْقَطَانِيَا فَذَهَبَتْ مَعَ لَيْلَى وَمَنَالٍ وَأَشْتَرَيْنِ مِنْ عِنْدِهِ. أَرْجَعِ الْبَائِعَ لِمَهَا هَذِهِ الْقِطْعَ.

التعليمة 4:

1-4- أَحْسِبْ قِيَمَةَ هَذِهِ الْقِطْعِ.

مع 3

.....

وَأَرْجَعِ لِللَّيْلَى 9 مِي.

9 مِي

2-4- أَحِيطْ بِخَطِّ مُعْلَقِ الْقِطْعِ النَّقْدِيَّةِ الَّتِي تُمَثِّلُ

مع 3

وَأَرْجَعِ لِمَنَالٍ 13 مِي.

13 مِي

2-4- أُمَثِّلُ

مع 3

السند 5: وَضَعَتْ مَنَالُ النُّقُودَ فِي جَيْبِهَا فَوَجَدَتْ وَرَقَةً بِهَا تَمْرِينٌ فِي الرِّيَاضِيَّاتِ فَطَلَبَتْ مِنْ صَدِيقَتَيْهَا إِنْجَازَهُ. أَسَاعِدُوهَا.

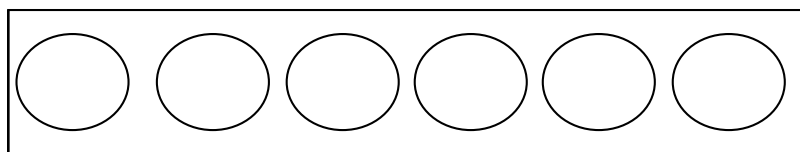
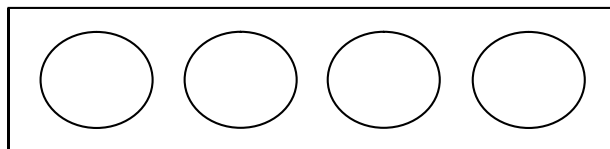
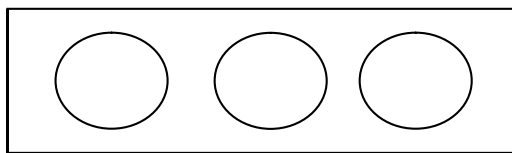
التعليمة 5:

بثلاث طُرُق.

17 مِي

1-5- أُمَثِّلُ الْمَبْلَغَ الْمَالِيَّ

مع 5



جدول إسناد الأعداد

مستوى التملك	معايير الحد الأدنى					معايير التمييز
	مع 1	مع 1 ب	مع 2 أ	مع 2 ب	مع 3	مع 5
انعدام التملك ---	0	0	0	0	0	
دون التملك الأدنى --+	1	1	1	1	1	1
التملك الأدنى -++	2	2	2	2	2	3
التملك الأقصى +++	3	3	3	3	3	5

This document was created with Win2PDF available at <http://www.win2pdf.com>.
The unregistered version of Win2PDF is for evaluation or non-commercial use only.
This page will not be added after purchasing Win2PDF.