



الإسم:..... اللقب:.....	تقييم مكتسبات التلاميذ في نهاية الثلاثية الثانية في مادة الرياضيات	الأولى ببوحسينة 2 القسم: الأولى ب
----------------------------	---	--------------------------------------

ذَهَبْتُ عَفَافُ وَ أَخَوِيهَا إِلَى ضَيْعَةِ الْجَدِّ قَطَفْتُ عَفَافُ 3 أَزْهَارَ حَمْرَاءَ
وَأَزْهَارَ صَفْرَاءَ عَدَدُهَا أَكْبَرُ مِنَ الْأَزْهَارِ الْحَمْرَاءِ بِ 1



1
مع 1

أَرَسُمُ الْأَزْهَارَ الصَّفْرَاءَ وَأَكْتُبُ عَدَدَهَا فِي اللَّافِتَةِ

$$. = . + .$$

أَحْسِبُ مَجْمُوعَ الْأَزْهَارِ

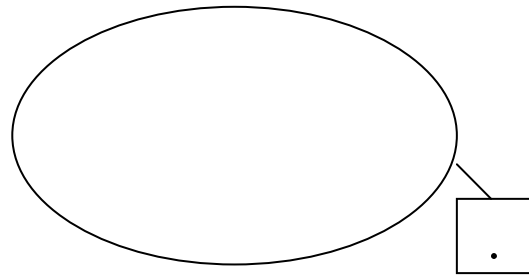
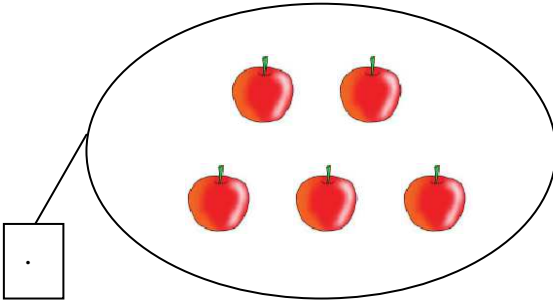
1
مع 2

$$. > . > .$$

أُرَتِّبُ أَعْدَادَ الْعَمَلِيَّةِ مِنَ الْأَصْغَرِ إِلَى الْأَكْبَرِ

1
مع 2

كَمَا قَطَفْتُ عَفَافُ 3 تَفَاحَاتٍ خَضْرَاءَ وَ 5 تَفَاحَاتٍ حَمْرَاءَ



1
مع 1

أَرَسُمُ التَّفَاحَاتِ الْخَضْرَاءَ

$$. = . + .$$

أَحْسِبُ مَجْمُوعَ التَّفَاحَاتِ


1
مع 2

$$. < . < .$$

أُرَتِّبُ أَعْدَادَ الْعَمَلِيَّةِ مِنَ الْأَكْبَرِ إِلَى الْأَصْغَرِ

1
مع 2





رَأَتْ عَفَافُ حَيَوَانَاتٍ فِي الضِّيْعَةِ

عَدَدُ الْحَيَوَانَاتِ عَلَى يَمِينِهَا =

عَدَدُ الْحَيَوَانَاتِ عَلَى يَسَارِهَا =

1
مع 1

أَحْسِبْ مَجْمُوعَ الْحَيَوَانَاتِ

. = . + .

1
مع 2

أُرْتَبُّ أَعْدَادَ الْعَمَلِيَّةِ مِنَ الْأَكْبَرِ إِلَى الْأَصْغَرِ

1
مع 2

نَادَى الْجَدُّ عَفَافُ وَ أُخْتَهَا رِيْمَةَ وَأُخُوَهَا رَامِي وَأَعْطَاهُمْ نَقُودًا
لِشِرَاءِ حَلَوَى أَوْكُمِلُ الْجَدُولَ لِأَعْرِفَ كَمْ أُعْطِيَ لِكُلِّ وَاحِدٍ مِنْهُمْ

رَامِي	رِيْمَةَ	عَفَافُ
7 ميمي	9 مي

3
مع 3

كَانَ ثَمَنُ الْحَلَوَى 6 مي أُمَثِّلْ هَذَا الْمَبْلَغَ بِأَرْبَعِ طُرُقٍ مُخْتَلِفَةٍ

6 مي	6 مي	6 مي	6 مي

4
مع 5

الحساب الذهني 4 نقاط