

المدة : ساعة

مناظرة الدخول إلى المدارس الإعدادية النموذجية

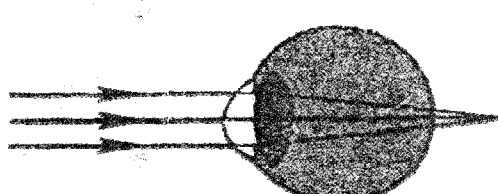
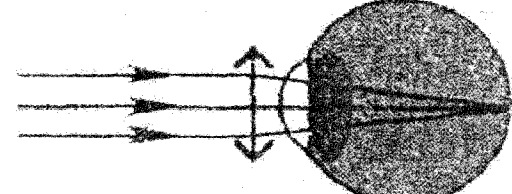
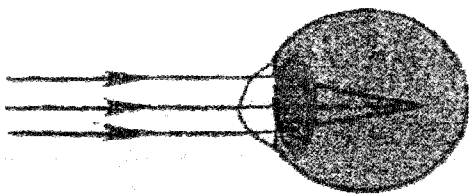
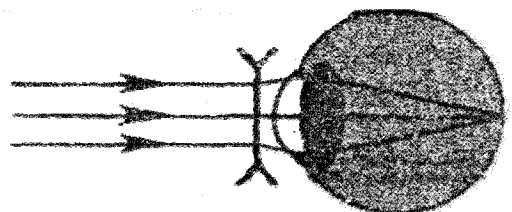
المادة :

الإيقاظ
العلمي

السند (1): رافق أحمد أمه إلى عيادة الطبيب للقيام بفحوصات وتحاليل قبل أن يتعفن الجرح الذي أصيبت به
التعليمة 1: أكمل تعيير الجدول بالتعلييل المناسب ($3 \times 1 = 3$ ن)

الأعراض	التعلييل
الشعور بالألم
انتفاخ موضع الإصابة
تعفن موضع الإصابة

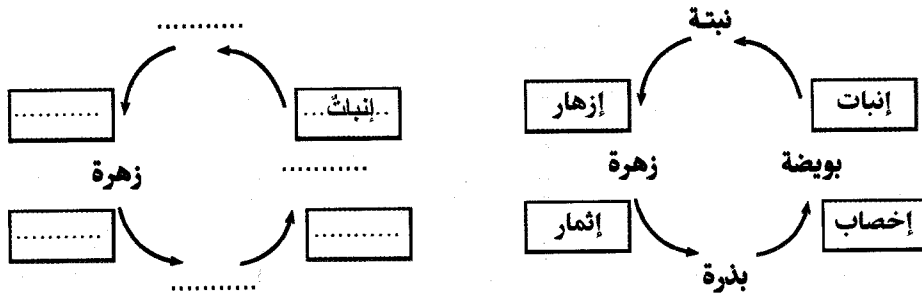
السند (2): طلبت أم أحمد من ابنها أن يقرأ لها نتائج التحاليل لأنها نسيت أن تحمّل نظارتها.
التعليمة 2: أتمل الرسم وأملأ الفراغ بما يناسب ($3 \times 0.75 = 2.25$ ن)

قبل التعديل	بعد التعديل
 <p>هذه العين مصابة بـ..... النظر</p>	 <p>عدسة.....</p>
	 <p>عدسة..... للأشعة الضوئية</p>

السَّند (3): عِنْدَ مُغَادَرَةِ الْمُسْتَشْفَى لَاحَظَ أَحْمَدُ نَحْلَاتٍ تَتَنَقَّلُ بَيْنَ الزُّهُورِ الَّتِي تَكْسُو السُّورَ.
التَّعْلِيمَةُ 3-1: أَكْتُبْ ثَلَاثَ وَظَائِفٍ لِلنَّحْلِ مُسْتَعِينًا بِالْجَدُولِ: ($2.25 = 3 \times 0.75$)

فِي التَّكَاثُرِ الزَّهْرِيِّ	فِي الْوَسْطِ الْبَيْئِيِّ	فِي تَغْذِيَةِ الْإِنْسَانِ
.....

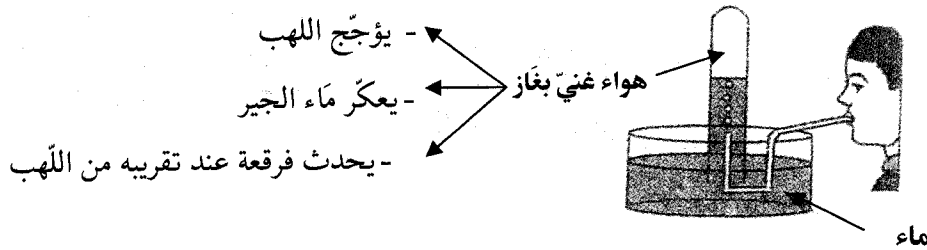
التَّعْلِيمَةُ 3-2: أَصْلِحِ الْخَطَأَ فِي الرَّسْمِ الْمُوَالِي إِنْ وُجِدَ: ($3 = 6 \times 0.5$)



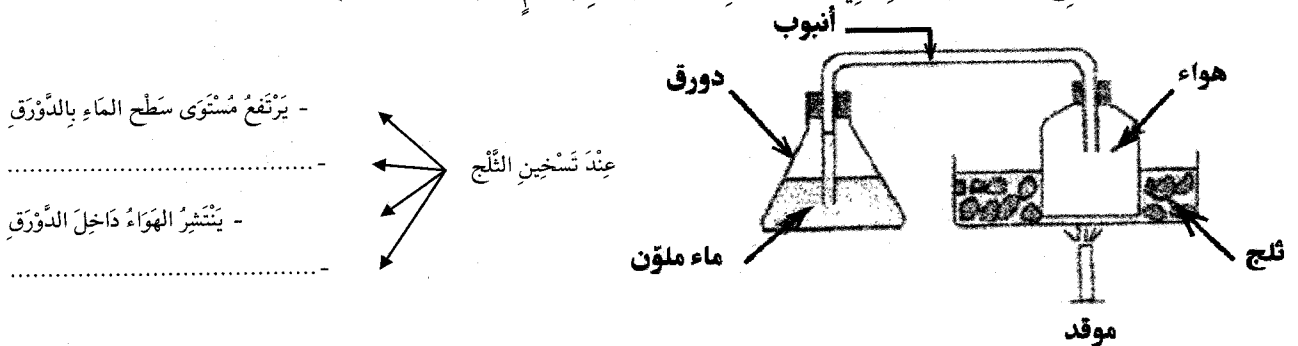
السَّند (4): حِينَ عَادَ أَحْمَدُ إِلَى الْبَيْتِ دَخَلَ غُرْفَتَهُ لِلْقِيَامِ بِبَعْضِ التَّجَارِبِ

التَّعْلِيمَةُ

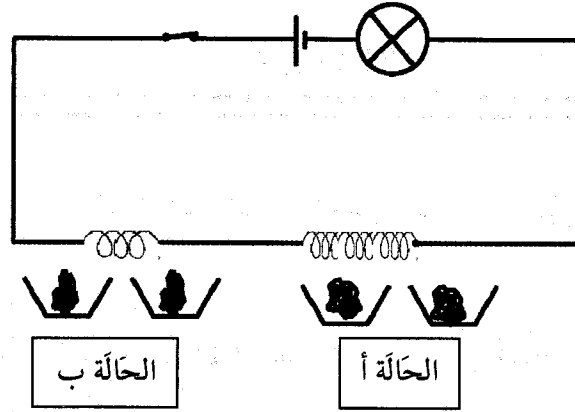
1- أَتأملُ الرَّسْمَ وَأَضَعُ عَلَامَةً (x) أَمَامَ الْإِفَادَةِ السَّليمةِ: ($2.25 = 3 \times 0.75$)



التَّعْلِيمَةُ 4-2: أَصْلِحِ الْخَطَأَ، إِنْ وُجِدَ فِي الْإِفَادَتَيْنِ الْمُصَاحِبَتَيْنِ لِلرَّسْمِ: ($2 = 2 \times 1$)

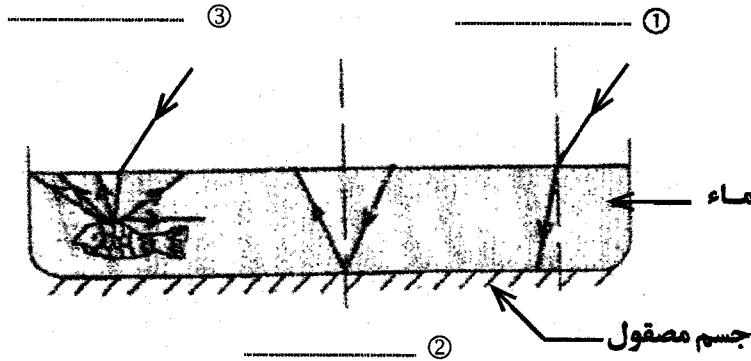


السند (5): واصل أحمد تجاربه فركب الدارة الكهربائية التالية:
التعليمة 5: أتاَمَلُ الرِّسْمَ وَأَكْمَلُ بِالْتَّعْلِيلَيْنِ الْمُنَاسِبَيْنِ: ($2 = 2 \times 1$)



إنجذابُ بُرَادَةِ الْحَدِيدِ فِي "أ" أَقْوَى مِنْ إِنْجَذَابِهَا فِي الْحَالَةِ "ب"
لأنَّ:

السند (6): نَظَرَ أَحْمَدُ إِلَى مَرَبَى الْأَسْمَاكِ مُتَأَمِّلاً فَلَقَتْ إِنْتِبَاهَهُ وَجُودَ عِدَّةِ ظَوَاهِرَ ضَوْئِيَّةٍ
التعليمة 6-1: أَكْتُبُ إِسْمَ الظَّاهِرَةِ الضَّوِّيَّةِ الْمُنَاسِبَةِ لِكُلِّ حَالَةٍ فِي الرِّسْمِ التَّالِي (ن $2.25 = 3 \times 0.75$)



التعليمة 6-2: أَفَسِّرُ الظَّاهِرَةَ الْمُبَيَّنَةَ فِي الْحَالَةِ رَقْمَ 1: (ن1)